

第八单元《调查与记录》检测题(A卷)(北师版)

(时间:60分钟 总分:100分)

一、下面是二(1)班同学喜欢宠物的调查情况。(共12分)

小狗: × × × × × × × × × × × × ×

小猫: □ □ □ □ □ □ □ □

小兔: √ √ √ √ √ √ √ √ √ √ √




乌龟: ○ ○ ○ ○ ○ ○ ○ ○ ○ ○

1. 把调查结果填在下表中。


动物名	小狗	小猫	小兔	乌龟
人数				



2. 一共调查了()人,喜欢()的同学最多,喜欢()的同学最少。
3. 调查时乐乐请假,请你猜一猜他最有可能喜欢哪种动物?

二、下面是笑笑记录的一个月的天气情况。(共10分)

	正 正 正
	正 正 正
	丁

1. 把记录的结果填在下表中。

天气			
天数			


2. 这个月共有()天。
3.  比  多()天。

三、下面是二(2)班同学参加兴趣小组活动情况调查记录。(共14分)

兴趣小组	绘画	武术	舞蹈	书法
人数	12	8	5	15

1. 参加()兴趣小组活动的人最多,有()人。(4分)
2. 参加()兴趣小组活动的人最少。(4分)
3. 参加绘画兴趣小组活动的人比舞蹈兴趣小组多()人。(2分)
4. 参加武术兴趣小组的人比书法兴趣小组少()人。(2分)
5. 参加兴趣小组的一共有()人。(2分)

四、新鲜的水果。(共 14 分)



1. 每种水果分别有多少个,用画“正”字的方法统计,再将数量填在表中。(8 分)
- 苹果()
- 葡萄()
- 橘子()
- 梨()

水果名	苹果	葡萄	橘子	梨
个数				

2. 水果一共有()个。(2 分)
3. ()的个数最多,()的个数最少。(4 分)

五、数一数,填一填。(共 14 分)




1. 画“正”字记录数量,并填写下表。(8 分)
- 打球的()
- 跳舞的()
- 学电脑的()
- 跑步的()

课外小组				
人数				

2. ()最多,()最少。学电脑的人数是打球的()倍。(6 分)

六、数动物。(共 16 分)







1. 填表。(8 分)

	小兔	小鸡	小猴	小狗
只数				





2. ()的只数最多,()的只数最少。(2 分)
3. 小兔和小猴一共有多少只?(3 分)





4. 请你再提出一个数学问题,并解答。(3 分)

七、二(3)班要举行“元旦”晚会,笑笑调查了每个同学喜欢吃水果的情况。(共 20 分)

	√√√√√√√√
	●●●●●●●●●●
	▲▲▲▲▲▲▲▲▲▲
	××××××××

(1)把记录的结果填写在下表中。(12 分)

水果				
人数				

- (2)喜欢吃的比喜欢吃的少()人。(2 分)
- (3)喜欢吃的比喜欢吃的少()人。(2 分)
- (4)全班喜欢吃()的同学最多。(2 分)
- (5)喜欢吃()和喜欢吃()的同学一样多。(2 分)