

第三单元测试

一、填一填。(22分)

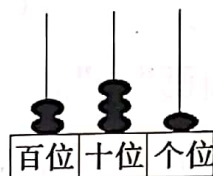
1. 和 299 相邻的两个数是() 和()。
2. 在 191 中,左边的“1”表示(), 右边的“1”表示()。
3. 由()个百和()个十组成的数是 670。
4. 用 2,0,6 这三个数字可以组成() 个不同的三位数,其中最大的数是(),最小的数是()。(每个数字只能用一次)
5. 常用的算盘有()珠算盘和() 珠算盘。

二、判断。(10分)

1. 最小的四位数减 1 就是最大的三位数。()
2. 460 读作:四百六。()
3. 2013 年 6 月 11 日,“神舟十号”飞船发射成功,飞船高约 9 米,最大直径是 290 厘米。290 读作:二九零。()
4. 任意四位数都比三位数大。()

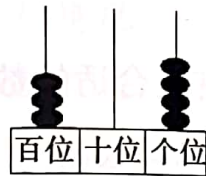
5. 在 608 和 806 两个数中,“6”表示的意义是相同的。()

三、看图写数并读出来。(4分)



写作: _____

读作: _____



写作: _____

读作: _____

四、选一选。(8分)

1. 最大的三位数和最小的四位数相差()。
A. 10 B. 1 C. 100
2. 下面各数中,有零但不读出零的数是()。
A. 302 B. 830 C. 105
3. 一千里面有()个百。
A. 10 B. 100 C. 1000
4. 825 里面的“2”表示()。
A. 2 个百 B. 2 个十 C. 2 个一



五、连一连。(8分)

678

810

110

320



比700大的数



比500小的数



其他数

701

499

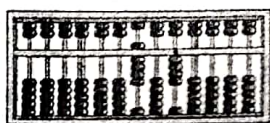
529

999


六、用2、4、9这三个数字组成不同的三位数,并把它按从大到小的顺序排列。(每个数字只能用一次)(12分)

_____ > _____ > _____ >
 _____ > _____ > _____ >


七、写出下面算盘上表示的数。(8分)




()



()



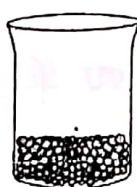
()




()

八、解决问题。(28分)


1. 下面两个杯子里的黄豆大约各有多少粒?



约200粒



约()粒



约()粒

2. 小华家和小明家各种多少棵果树?把名字写在合适的答案下面。

李红家种了480棵果树。

小华家比李红家种的少一些。

小明家比李红家种的多得多。

480棵	200棵	460棵	500棵	900棵
李红家				

3. 把小动物们奔跑的速度按从快到慢的顺序编号。



720米/分



825米/分



970米/分



4. 一个三位数,百位上的数是最大的一位数,十位上的数比个位上的数大8。这个数可能是多少?

