

第四单元测试

一、我会填。(50分)

1. 在下面的括号里填上合适的质量单位。



160()



200()



3()



40()



400()



1000()



2()



29()

2. 在○里填上“>”或“<”。

30 克○ 30 千克 2 千克○ 5 克

1000 克○ 50 千克 6 千克○ 5 千克

5 千克○ 500 克 800 克○ 1 千克

3. 看图填空。



6千克



1千克



2千克

- (1) () 最轻, () 最重。
- (2) 一把香蕉比菠萝重 () 千克, 比西瓜轻 () 千克。
- (3) () 把香蕉和 1 个西瓜一样重。
- (4) 买 4 把香蕉共重 () 千克。
- (5) 上面所给的水果共重 () 千克。

4. 把 14 千克、14 克、104 克和 1 千克按照从重到轻的顺序排列。

() > () > () > ()

二、我会选。(10分)

1. 一棵大白菜重()。


A. 280 克 B. 3 千克 C. 300 千克

2. 下图中,白菜和萝卜相比,()。



A. 白菜重 B. 萝卜重 C. 一样重

3. 三种水果,()最重。



A. 苹果 B. 香蕉 C. 橘子

4. 1 千克橘子和 1000 克棉花比,()。

A. 同样重 B. 橘子重 C. 棉花重

5. 下面单位中不是质量单位的是()。

A. m B. g C. kg

三、我是聪明的小法官。(5分)

1. 一个鸡蛋约重 50 克。 ()
2. 1 千克大米比 1 千克棉花重。 ()




3. 1 千克 - 400 克 = 600 克。 ()

4. 一块香皂重 100 千克。 ()


5. 一头牛的质量大约是 500 克。 ()

四、连一连。(8 分)

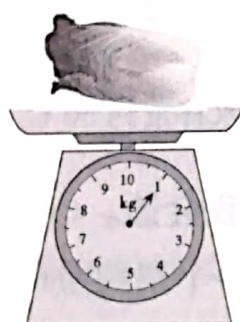


1000 千克 8 千克 31 千克 100 克

五、看图写出下列物品的质量。(6 分)



一根黄瓜重
()。



1 棵白菜重
()。

六、逛超市。(11 分)

1 千克	1 千克	1 千克	1 千克	1 千克
8 元	4 元	6 元	6 元	8 元

1. 2 元钱可以买()克胡萝卜。

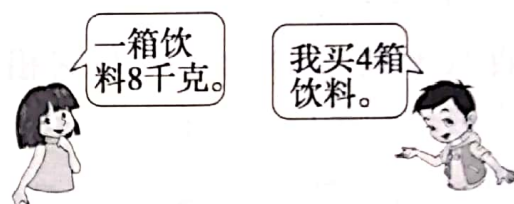
2. 买 8 千克草莓需要()元。

3. 买 5 千克鸡蛋和 5 千克鱼共需要
()元。

4. 如果你有 20 元钱,你可以买哪些东
西? 各能买多少?

七、解决问题。(10 分)

1. 共多少千克?



2. 还剩多少千克?

我买了 60 千克鸡
饲料, 每袋 8 千克
喂鸡用去了 6 袋。

