

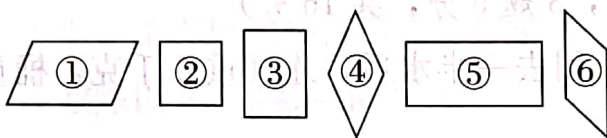
# 第四、五单元测试卷

## 一、填一填。(每空 2 分, 共 20 分)

1. 常用的质量单位有 ( ) 和 ( )。

2. 用木条钉成一个长方形, 用力一拉, 就变成了一个 ( ) 形。

3.



( ) 是长方形, ( ) 是正方形, ( ) 是平行四边形。

4. 一袋盐重 500 ( ), 两袋盐重 1 ( ), 一枚 2 分硬币重 1 ( )。

5. 一个平行四边形中, 一条边长 9 cm, 它的对边长 ( ) cm。

## 二、在○填上“>”“<”或“=”。(每空 2 分, 共 12 分)

800 克○1 千克

95 克+5 克○1 千克

356 克○365 克

4 千克○4000 克

1 千克○8000 克

412 千克○421 克

## 三、填上合适的质量单位。(每题 2 分, 共 10 分)



450 ( )



8 ( )



4 ( )



25 ( )



25 ( )

## 四、选一选。(将正确答案的序号填在括号里)(每题 2 分, 共 10 分)

1. 两个完全一样的正方形, 只能拼成一个 ( )。

①平行四边形

②长方形

③正方形



2. 鸡蛋、苹果、西瓜中 ( )。

- ①西瓜最重                      ②鸡蛋最轻                      ③无法比较

3. 对边相等，对角相等的四边形，可能是 ( )。

- ①三角形                      ②平行四边形                      ③不规则四边形

4. 一匹马重 450 千克，一头牛比一匹马重一些；一头猪比一匹马轻得多。


(1) 一头牛重 ( ) 千克。

- ①470                      ②250                      ③800

(2) 一头猪重 ( ) 千克。

- ①470                      ②250                      ③800

五、按要求写一写，画一画。(1 题每空 2 分，2 题 4 分，共 10 分)




1. 图中共有 ( ) 个长方形，( ) 个正方形，( ) 个平行四边形。

2. 画一条都是四边形的线路让小猫吃到鱼。



## 六、动手画一画。(小格边长 1 厘米)(每小题 3 分,共 12 分)

1.

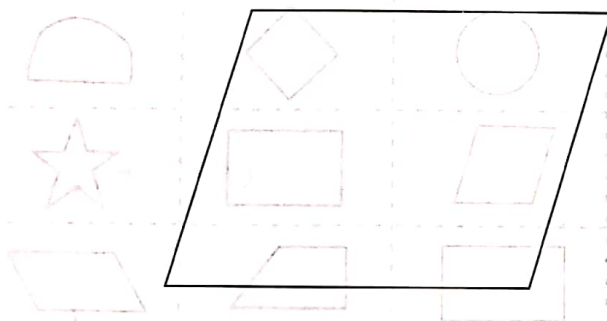


(1) 画一个长 5 cm, 宽 3 cm 的长方形。

(2) 画一个边长 4 cm 的正方形。

(3) 画一个平行四边形。

2. 在下图中加 2 条线, 把它分成 4 个平行四边形。



## 七、排一排。(每题 3 分,共 6 分)

1. 从大到小的顺序排列下面各数。

568 克    650 千克    78 克    5 千克    4000 克    503 克



2. 从小到大的顺序排列下面各数。

806 千克    8000 克    18 千克    105 克    7 千克    430 克





八、动脑筋想一想。(每空 2 分, 共 4 分)



8 千克



( ) 千克



( ) 千克

九、解决问题。(1、2 题每题 5 分, 3 题 6 分, 共 16 分)

1. 一桶水连桶共重 10 千克, 用去一半水后, 连桶重 6 千克, 桶重多少千克?

2. 一个长方形长 20 米, 宽 4 米, 在这个长方形里最多能画出几个边长是 4 米的正方形。

3. 妈妈说: “我比明明的爸爸轻 15 kg。”

爸爸说: “我的体重是 80 kg。”

明明说: “我比妈妈轻 45 kg。”

请你算一算: 明明的体重是多少千克?

附加题 (共 10 分)

3 个西瓜共重 14 千克, 第一、第二个西瓜重 8 千克, 第二、第三个西瓜重 11 千克, 这三个西瓜分别重多少千克?

