


达标测试卷

题号	一	二	三	四	五	六	七	总分
得分								

一、按要求分一分。(26 分)



1. 给上面的图片分分类。

(1) 按水果的种类分类统计。(6 分)

合计			
(15) 个	(5) 个	(4) 个	(6) 个

数量最多的是(桃), 数量最少的是(苹果)。

(2) 按卡片的形状分类统计。(4 分)

合计			
(15) 张	(6) 张	(5) 张	(4) 张

2. 给气球分分类。(16 分)























(1)按气球的形状分类统计。

合计			
(12)个	(5)个	(4)个	(3)个





(2)按气球的颜色分类统计。

合计	红色	蓝色	黄色
(12)个	(3)个	(4)个	(5)个

二、下面是记录的某年4月11号~30号的天气情况。(16分)





11	12	13	14	15	16	17	18	19	20
									
21	22	23	24	25	26	27	28	29	30
									

1. 用你喜欢的方法收集数据。(4分)

 正 下	 正
 正 一	 丁

(方法不唯一)

2. 根据收集的数据,完成下面的表格。(8分)

天气类型				
天数/天	8	6	4	2

3. 观察统计表,你发现了什么?(至少写出2条)(4分)

【答案】答案不唯一,如:晴天的天数最多,下雨天的天数最少;晴天和下雨天的天数之和等于多云天和阴天的天数之和。

三、下面是实验小学二(1)班同学喜欢的图书情况统计。(11分)

《十万个为什么》	《一千零一夜》	《西游记》	《喜羊羊和灰太狼》
正	正正	正正正下	正正丁

1. 填一填。(5 分)

合计	《十万个为什么》	《一千零一夜》	《西游记》	《喜羊羊和灰太狼》
(44)人	(5)人	(9)人	(18)人	(12)人

2. 喜欢(《西游记》)的人数最多,喜欢(《十万个为什么》)的人数最少。(2 分)
3. 二(3)班喜欢《三毛历险记》的人数比二(1)班喜欢《一千零一夜》的人数的 2 倍少 5 人,二(3)班喜欢《三毛历险记》的有多少人?(4 分)

【答案】 $9 \times 2 = 18$ (人)
 $18 - 5 = 13$ (人)

答:二(3)班喜欢《三毛历险记》的有 13 人。

四、动物王国竞选班长,谁能被选上呢? 请你来统计一下。(8 分)

小刺猬	小熊	长颈鹿	小狗
√√√√√√ √√√√√√	√√√√√√ √√√√√√ √√	√√√√√√ √√√√√√ √√√	√√√√√√ √√√√√√ √

1. 根据上表填一填。(5 分)

合计	小刺猬	小熊	长颈鹿	小狗
(46)票	(10)票	(12)票	(13)票	(11)票


2. 老师最后宣布:“(长颈鹿)得了(13)票,恭喜它当选为班长。(小熊)的票数排第二,恭喜它当选为副班长。”(3 分)

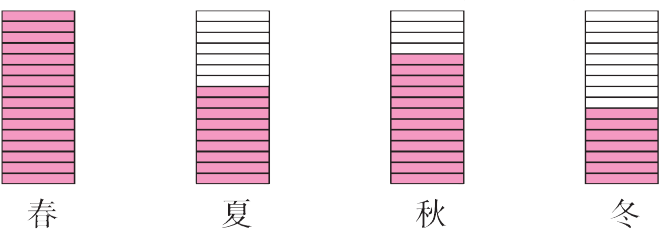
五、下面是二(3)班同学最喜欢的季节的调查情况统计。(19 分)

春	夏	秋	冬
正正正一	正正	正正丁	正丁

1. 填一填。(5 分)

合计	春	夏	秋	冬
(44)人	(16)人	(9)人	(12)人	(7)人

2. 涂一涂。(1 个  代表 1 人)(8 分)




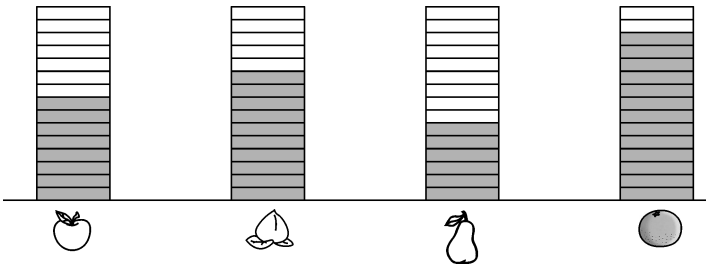
3. 最喜欢(春)季的人数最多,最喜欢(冬)季的人数最少。
(2 分)

4. 最喜欢冬季的比最喜欢秋季的少几人? (4 分)





【答案】 $12-7=5$ (人)

答:最喜欢冬季的比最喜欢秋季的少 5 人。

六、下面是二(4)班同学最喜欢吃的水果的统计情况。(1 个  代表 1 人)(11 分)



1. 根据统计图,完成下面的表格。(5 分)

合计				
(37)人	(8)人	(10)人	(6)人	(13)人

2. 最喜欢吃(橘子)的人数最多,最喜欢吃(梨)的人数最少。
(2 分)

3. 你还能提出什么数学问题? 自己提一提并解答。(4 分)

【答案】答案不唯一,如:最喜欢吃苹果的和最喜欢吃桃的一共有多少人?

$8+10=18$ (人)

答:最喜欢吃苹果的和最喜欢吃桃的一共有 18 人。

七、(开放题)下面的动画片中你最喜欢哪一部? 用你喜欢的方法,整理并计算出班里同学最喜欢的动画片的人数情况。(9 分)

《熊出没》 《蓝精灵》 《功夫熊猫》

【答案】答案不唯一,如:我最喜欢《熊出没》,班里同学最喜欢的动画片人数如下:

《熊出没》	《蓝精灵》	《功夫熊猫》
正正	正	正正正