

第一单元评估检测题(A卷)

(时间:60分钟 总分:100分)

一、口算(15分)

$5\times 8=$

$5\times 2=$

$5\times 4=$

$6\times 4=$

$2\times 3=$

$6\times 7=$

$7\times 3=$

$7\times 7=$

$4\times 3=$

$5\times 6=$

$9\times 6=$

$3\times 6=$

$4\times 8=$

$2\times 8=$

$7\times 8=$

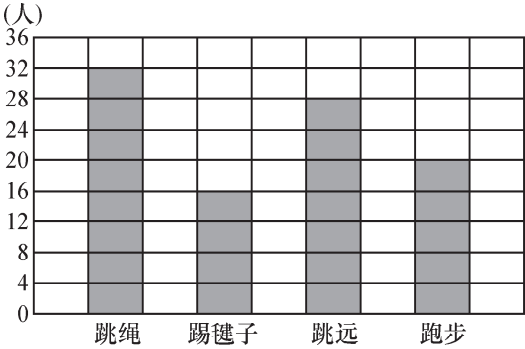
二、下面是张老师调查本班同学最喜欢的业余生活情况统计表(12分)

活动项目	看书	看电视	旅游	体育运动	其他业余活动
人数	14	10	8	4	2

- 1.最喜欢()的人多,最喜欢()的人少。
- 2.最喜欢看书的比最喜欢旅游的多()人。
- 3.最喜欢看电视的比最喜欢体育运动的多()人。
- 4.这个班一共有()人。

三、看统计图填空并回答问题(15分)

二年级同学最喜欢的运动项目情况统计图



1.填写下表。

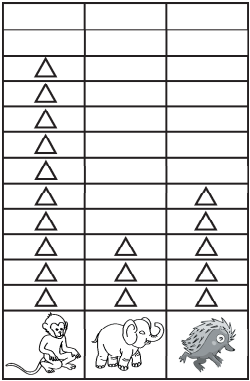
项目	跳绳	踢毽子	跳远	跑步
人数				

- 2.参加()的人最多,参加()的人最少。
- 3.二年级一共有()人。
- 4.你喜欢(),二年级喜欢这项运动的有多少人?
- 5.你还能发现什么?

四、根据下表提供的天气情况,回答问题(16分)

1	2	3	4	5	6	7	8	9	10
11	12	13	14	15	16	17	18	19	20
21	22	23	24	25	26	27	28	29	30

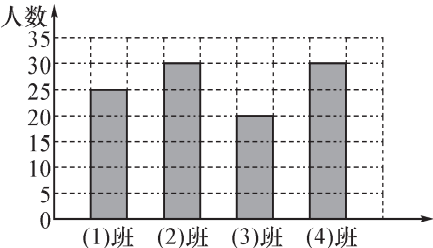
- ()的天数最多,比雨天的天数多()天。
 - 晴天有()天,比阴天多()天。
 - 阴天天数比雨天多()天。
 - 你还能提出什么数学问题?
- 五、下面是森林动物园小动物的数量统计情况,根据统计情况先计算再填空(15 分)



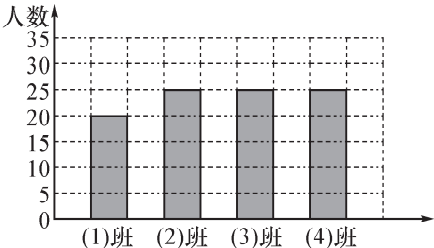
- 小刺猬有()只;小象有()只;小猴子有()只。
 - 小猴子的只数比小刺猬的只数多()只。
 - 小象的只数比小猴子的只数少()只。
 - 小象的只数比小刺猬的只数少()只。
 - 这些小动物一共有()只。
- 六、下面是某学校一、四、六三个年级同学视力统计表,请根据统计表完成后面的问题(12 分)

	5.0 以上	4.9~4.7	4.6~4.3	4.2 以下
一年级	29	11	5	2
四年级	27	12	6	3
六年级	18	20	5	5

- 一年级 5.0 以上有()人。
 - 六年级 5.0 以上有()人。
 - 四年级 4.2 以下有()人。
 - 六年级()的人数最多。
 - 5.0 的视力是正常的,低于 5.0 的一年级的有()人,六年级的有()人。
 - 从统计表中你还可以得到哪些信息?
- 七、下面是二年级四个班男、女生人数的统计图,请根据统计图完成统计表,并回答后面的问题(15 分)



二年级男生人数统计图



二年级女生人数统计图

<div> <div>人数(人)</div> <div>性别</div> </div>	班别				
		二(1)班	二(2)班	二(3)班	二(4)班
男					
女					

- 男生同样多的班是(),女生同样多的班是()。
- 二年级()班和()班的学生人数同样多。
- 二(3)班比二(2)班少()人。
- 你还能发现什么?