

期中达标测评卷

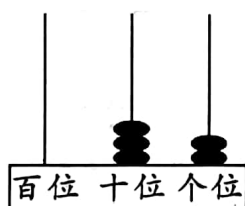
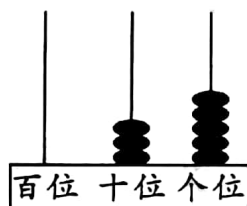
时间:60 分钟 满分:100 分

题号	一	二	三	四	五	六	七	八	总分
得分									

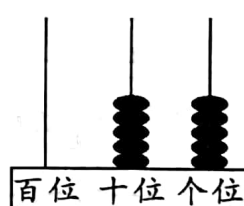
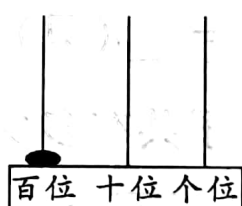
rèn zhēn tián yì tián

一、认真填一填。(每题2分,共16分)

1. 计数器上,从右边起,第一位是()位,第二位是()位。
2. 一个数十位上是5,个位上是9,这个数是()。
3. 59 的相邻数是()和(),99 的相邻数是()和()。
4. 先写数,再比较大小。

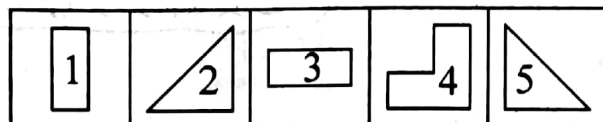


() ○ ()



() ○ ()

5. 最大的两位数是(),最小的两位数是(),相差()。
6. 写出4个个位上是5的数()、()、()、()。
7. 左边的图形是由右边方框里的哪两个图形拼成的?



□是由图()和图()拼成的。

8. 按规律填数。

		30	40		
--	--	----	----	--	--

22		44			
----	--	----	--	--	--

pàn duàn

duì de dǎ

cuò de dǎ

二、判断。(对的打“√”，错的打“×”)(5分)

1. 在 23, 12, 56, 78, 34 中, 56 左边的数是 78。 ()
2. 与 70 相邻的两个数是 71 和 72。 ()
3. 39 后面的第一个数是 40, 表示 4 个一。 ()
4. $12 - 8$ 与 $13 - 9$ 的得数一样。 ()
5. 被减数与减数都是 8, 差也是 8。 ()

tián yì tián huà yì huà

三、填一填，画一画。(10分)



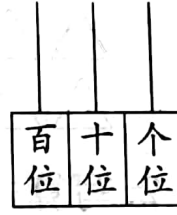
()



()



()



()

1. 用 4 颗珠子表示不同的两位数(先在计算器上画出来,再写)。
2. 上面这些数中, () 最大, () 最小。
3. () 比 20 少一些, () 比 10 多一些。
4. 把这些数按从小到大的顺序排列起来。
() < () < () < ()

kàn shuí suàn de yòu duì yòu kuài

四、看谁算得又快又对。(6分)

$11 - 3 =$

$25 - 5 =$

$60 + 9 =$

$27 - 7 =$

$63 - 3 =$

$70 + 8 =$

$30 + 6 =$

$80 + 5 =$

$20 + 8 =$

$83 - 3 =$

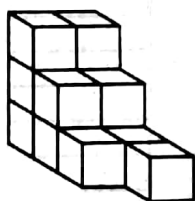

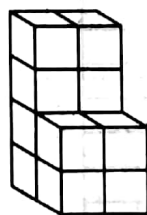

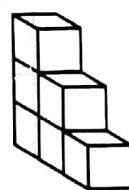

$91 - 1 =$

$72 - 2 =$

shǔ yì shǔ tián yì tián

五、数一数，填一填。(15分)

1.


 有 () 个

 有 () 个

 有 () 个

2. (1) 22, 32, _____, _____, _____, _____, 82

(2) 48, 49, _____, _____, _____, 53, _____。


(3) 84, 83, _____, _____, 80, _____, _____。

suàn yì suàn


六、算一算。(16分)

1. 得数是几就涂上几个。

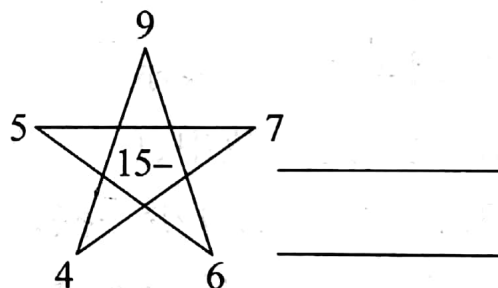
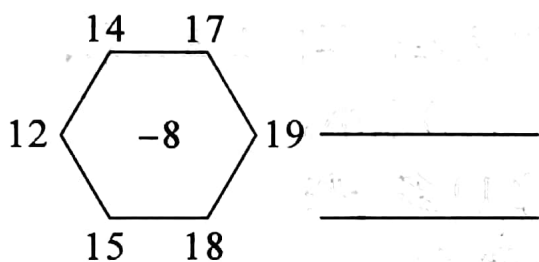
$$18 - 9 = \square$$



$$17 - 9 = \square$$




2. 写算式。

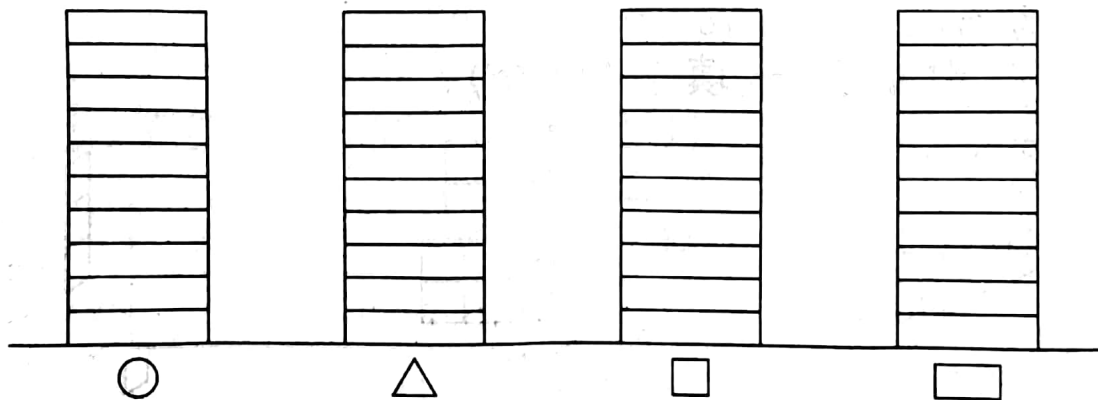


shǔ yì shǔ tián yì tián zài tú yì tú

七、数一数，填一填，再涂一涂。(16分)



○	()个
▽	()个
□	()个
▭	()个



八、解决问题。(16分)

1. (4分)



我们一(1)班有40人。

我们一(2)班比你们多4人。



一(2)班有多少人?

$$\square \bigcirc \square = \square (\text{人})$$

2. (8分)



8只



17只



9只



15只

(1) 老虎比大象少多少只?

$$\square \bigcirc \square = \square (\text{只})$$

(2) 猴子比狮子少多少只?

$$\square \bigcirc \square = \square (\text{只})$$

(3) 老虎和狮子共有多少只?

$$\square \bigcirc \square = \square (\text{只})$$

(4) 你还能提出什么数学问题,并解答?

3. (4分)



妈妈今天过33岁生日。



还要插多少根蜡烛?



$$\square \bigcirc \square = \square (\text{根})$$

期中达标测评卷

二、1. \times 2. \times 3. \times 4. \checkmark 5. \times

四、8 20 69 20 60 78
36 85 28 80 90 70

五、1. 13 12 6

2. (1) 42, 52, 62, 72 (2) 50, 51, 52, 54
(3) 82, 81, 79, 78

六、1. 9 8

2. $14 - 8 = 6$ $17 - 8 = 9$ $19 - 8 = 11$

$18 - 8 = 10$ $15 - 8 = 7$ $12 - 8 = 4$

$15 - 5 = 10$ $15 - 9 = 6$ $15 - 7 = 8$

$15 - 6 = 9$ $15 - 4 = 11$

八、1. $40 + 4 = 44$

2. (1) $17 - 8 = 9$ (2) $15 - 9 = 6$

(3) $8 + 15 = 23$ 3. $33 - 3 = 30$ (根)