

期中测评卷

时间:60 分钟 满分:100 分

题号	一	二	三	四	五	六	七	总分	等级
得分									

一、填空。(30 分)

1. $24 \div 3 = 8$ 表示把()平均分成()份,每份是();也表示有()个,每()个一份,分成了()份。

2. $35 \div 5 = ()$,被除数是(),除数是(),商是(),读作()。

3. 在计算 $91 - (83 - 27)$ 时,应先算(),再算(),最后得()。

4. 比 3 的 9 倍少 10 的数是()。

5. 一根绳子长 16 米,对折以后,再对折,现在每小段长()米。

6. 在 \bigcirc 里填上“ $>$ ”“ $<$ ”或“ $=$ ”。

$$40 \div 8 \bigcirc 5 \times 8$$

$$62 - 53 \bigcirc 9 \div 3$$

$$72 - 27 \bigcirc 5 \times 9$$

7. 用“平移”或“旋转”填空。

(1) 自行车车轮的转动是()现象。

(2) 电梯的升降是()现象。

(3) 拧门把手的运动是()现象。

(4) 在算盘上拨珠是()现象。

(5) 钟表里指针转动是()现象。

8. 看图列式。




$$(\quad) \div (\quad) = (\quad)$$



$$(\quad) \div (\quad) = (\quad)$$

二、判断。(对的打“√”,错的打“×”)(5分)

1.  的运动是平移现象。 ()
2. 两个不是0的数的乘积一定大于它们的商。 ()
3. 算式里有括号的要先算括号里面的。 ()
4. 算式 $86 - (28 - 19)$ 与算式 $86 - 28 - 19$ 的计算结果一样。 ()
5. 被除数和除数相同时,商是1。 ()


三、选择。(将正确答案的序号填在括号里)(10分)

1. 下面的除法算式,各部分名称正确的是()。

A.
$$\begin{array}{ccccccc} 24 & \div & 6 & = & 4 \\ \vdots & & \vdots & & \vdots \\ \text{被除数} & & \text{除数} & & \text{商} \end{array}$$


B.
$$\begin{array}{ccccccc} 24 & \div & 6 & = & 4 \\ \vdots & & \vdots & & \vdots \\ \text{除数} & & \text{被除数} & & \text{商} \end{array}$$


C.
$$\begin{array}{ccccccc} 24 & \div & 6 & = & 4 \\ \vdots & & \vdots & & \vdots \\ \text{被除数} & & \text{除数} & & \text{积} \end{array}$$


2. 每人12颗巧克力,小敏每天吃4颗,小平每天吃3颗,()先吃完。
A. 小敏 B. 小平 C. 同时
3. 求8里面有几个2,列式正确的是()。
A. 8×2 B. $8 \div 2$ C. $8 + 2$
4. 计算 $9 \div 3$ 时,用到的口诀是()。
A. 三九二十七 B. 三三得九 C. 三七二十一
5. 下面()图形是  经过旋转得到的。





四、连一连。(6分)


 $24 \div 3$


 四七二十八


 7×9


 4×6


 六九五十四


 $20 \div 4$


 $28 \div 7$


 三八二十四


 $24 \div 6$


 $20 \div 5$


 四五二十


 6×9


 $54 \div 6$

 七九六十三

 3×8

 $63 \div 7$

 四六二十四

 $28 \div 4$

五、计算。(24分)

1. 口算。(9分)

$52 - 12 =$

$48 \div 8 =$

$63 \div 7 =$

$28 \div 4 =$

$9 \div 3 =$

$12 \div 4 =$

$6 \div 6 =$

$36 \div 9 =$

$40 \div 5 =$

2. 在()里填上合适的数。(9分)

$() \times 6 = 54$

$32 \div () = 8$

$18 \div () = 3$

$4 \times () = 16$

$() \times 3 = 9$

$() \times 5 = 25$

$7 \times () = 63$

$56 \div () = 8$

$81 \div () = 9$

3. 脱式计算。(6分)

$63 - 18 + 6$

$76 - 3 \times 9$

$96 - (26 + 30)$

六、下面是二年级学生最喜欢的动物的统计表。(10分)

熊猫	大象	长颈鹿	松鼠	猴子
正正正 正正一	正正正 正正	正正下	正正 正正	正正 正下

1. 把上表整理后填在下表内。

最喜欢的动物	熊猫	大象	长颈鹿	松鼠	猴子
人数(人)					

2. 喜欢()的人数最多,是()人。喜欢()的人数最少,是()人。

3. 喜欢长颈鹿的比喜欢熊猫的人数少()人。

七、解决问题。(15 分)

1. 有 30 个糖果,平均分给 6 个小朋友,每个小朋友分几个?(3 分)

2. 小明和爸爸、妈妈一起去动物园玩。他们买门票要多少元钱?

(4 分)

票 价
儿童:每张 5 元
成人:每张 8 元

3. 有 18 个桃子。(8 分)

(1)平均分给 6 只小猴,每只小猴分几个?

(2)平均分给 9 只小猴,每只小猴分几个?

期中测评卷

- 一、1. 24 3 8 24 3 8 2. 7 35 5 7 35 除以 5
等于 7 3. $83 - 27 = 56$ $91 - 56 = 35$ 4. 17 5. 4
6. $<$ $>$ $=$ 7. (1) 旋转 (2) 平移 (3) 旋转
(4) 平移 (5) 旋转 8. $18 \div 6 = 3$ $10 \div 2 = 5$
- 二、1. \times 2. \times 3. \checkmark 4. \times 5. \checkmark
- 三、1. A 2. A 3. B 4. B 5. C
- 五、1. 40 6 9 7 3 3 1 4 8 2. 9 4 6 4 3
5 9 7 9 3. 51 49 40
- 六、1. 26 24 13 19 18 2. 熊猫 26 长颈鹿 13
3. 13
- 七、1. $30 \div 6 = 5$ (个) 2. $5 + 2 \times 8 = 21$ (元)
3. (1) $18 \div 6 = 3$ (个) (2) $18 \div 9 = 2$ (个)