

二年级数学(人教版)

(本试题满分 100 分,考试时间 60 分钟)

题 号	一	二	三	四	五	六	总 分
得 分							
评卷人							

亲爱的孩子们,通过一段的学习,你一定有很大的收获。请认真作答,享受成功的快乐吧!

一、精彩补白(每空 1 分,共 18 分)

1. $28 \div 7 = (\quad)$,被除数是(),除数是(),商是()。
2. 在一个没有括号的算式里,如果既有加法又有乘法,那么应先算()法,再算()法。
3. $18 \div 2 = 9$,表示把()平均分成()份,每份是()。
4. 数字 9()轴对称图形。(选填“是”或“不是”)
5. 在○里填上“>”、“<”或“=”。
- $5 \times 6 - 18$ ○ 16 $4 \times 9 \div 6$ ○ $14 - 56 \div 7$
6. 有 12 个足球,平均分成 6 份,每份()个;如果每 3 个分成一份,可以分成()份。
7. 用 28 根相同的小棒摆正方形,每 4 根小棒摆一个,可以摆()个独立的正方形。
8. 在括号里填“平移”或“旋转”。



拨算盘
()



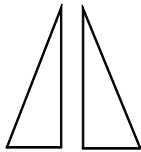
转动的风扇
()



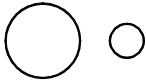
开关光驱
()

二、择优录用(每小题 2 分,共 10 分)

1. 下面几组图形中,()组可以通过平移得到



A



B



C


2. 把 24 名同学平均分成 6 组值日,每组有()人
A. 3 B. 4 C. 6
3. 下列物体只做旋转的是()
A. 钟表的指针 B. 坠落的铁球
C. 吊车把货物吊到高空
4. 计算 $18 \div 3$ 时想()
A. 三六十八 B. 二九十八 C. 三三得九
5. 小涛有 22 本练习本,用完 15 本后,妈妈又给他买了 11 本,小涛现在有()本练习本
A. 18 B. 48 C. 26

三、快乐竞技(21 分)

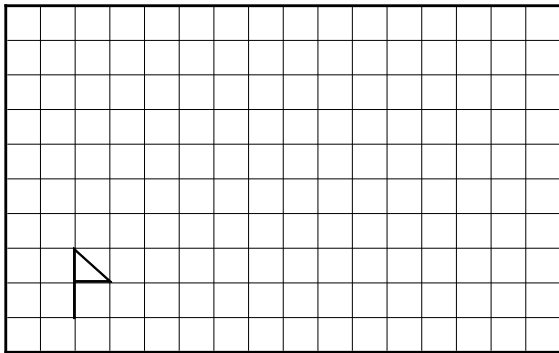
1. 口算。(9 分)
- | | | |
|--------------------|-------------------|----------------------|
| $35 \div 5 =$ | $7 \times 9 =$ | $49 + 7 =$ |
| $24 - 6 =$ | $42 \div 6 =$ | $24 \div 8 =$ |
| $35 + 12 \div 4 =$ | $20 - 5 \div 5 =$ | $3 \times (2 + 4) =$ |
2. 混合运算。(12 分)
- | | |
|----------------------|---------------------|
| $4 \times (72 - 67)$ | $36 \div (47 - 41)$ |
| $58 - 72 \div 8$ | $63 + 4 \times 7$ |

四、实践操作 (11 分)

1. 下面的图案分别是 从哪张纸上减下来的? (8 分)



2. 把小旗先向右平移 6 格,再向上平移 5 格。(3 分)



五、轻松统计 (15 分)

二(2)班同学生日情况统计表

季节	春	夏	秋	冬
人数	9	10	8	4

1. 请你用喜欢的方法表示上表中的内容。(12 分)

春 夏 秋 冬

2. 生日在()季的人数最多,生日在()季的人数最少。(2 分)

3. 二(2)班共有()人。(1 分)

六、解决问题 (25 分)

1. 幼儿园老师买了红、黄、绿、蓝、粉色的小皮球各 6 个。(10 分)

(1) 送给幼儿园大班 10 个,还剩多少个?

(2) 把剩下的平均分给 4 个小班,每班分几个?

2. 快乐购物。(15 分)



(1) 买 3 把伞和一辆玩具车共付多少钱?

(2) 30 元能买几把伞?

(3) 54 元钱买了 1 辆玩具车后,剩下的钱还能买几架玩具飞机?

二数(人教版)参考答案

- 一、1、4 28 7 4 2、乘 加
- 3、18 2 9 4、不是
- 5、< = 6、2 4
- 7、7 8、平移 旋转 平移

二、1 — 5 C B A A A

- 三、1、7 63 56 18 7 3 38 19 18
- 2、20 6 49 91

四、略

- 五、1、略 2、夏 冬 3、31

- 六、1、(1) $5 \times 6 - 10 = 20$ (个) 答：略。
- (2) $20 \div 4 = 5$ (个) 答：略。
- 2、(1) $3 \times 6 + 30 = 48$ (元) 答：略。
- (2) $30 \div 6 = 5$ (把) 答：略。
- (3) $(54 - 30) \div 8 = 3$ (架) 答：略。