

# 期中达标测试卷

(时间:90 分钟 满分:100 分)

题号	一	二	三	四	五	总分
得分						

## 一、填空。(14 分)

1. 0 除以任何不是零的数都得( )。
2. 最大的两位数与最小的三位数的乘积是( )。
3. 早晨起来,背对太阳,前面是( ),后面是( ),左面是( ),右面是( )。
4. 在( ) $\div$ ( ) $=145\cdots\cdots 3$  这个算式中,除数最小是( ),这时被除数是( )。
5. 如果小明在你的南面,那么你在小明的( )面。
6. 6 的( )倍是 174,570 是 3 的( )倍。
7. 已知  $437\div 3=145\cdots\cdots 2$ ,那么  $145\times$ ( ) $+2=437$ 。
8. 从 608 里面连续减去 6,最多可以减( )次,还剩( )。

## 二、判断。(正确的画“√”,错误的画“×”。)(8 分)

1. 0 除以任何数都得 0。 ( )
2. 如果被除数中间有 0,则商的中间一定有 0。 ( )
3. 中午面向太阳,前面是南,后面是北,左面是东,右面是西。 ( )
4. 一位数除三位数,商一定是两位数。 ( )
5.  $50\times 40$  的积的末尾有两个 0。 ( )
6. 小红面向南时,她的左面是北方。 ( )
7. 计算  $78\div 3\times 2$  时,先算  $3\times 2=6$ ,再算  $78\div 6=13$ 。 ( )
8. 因为  $12\times 4+5=53$ ,所以  $53\div 4=12\cdots\cdots 5$ 。 ( )

### 三、计算。(24 分)

#### 1. 直接写出得数。(6 分)

$80 \times 40 =$	$50 \times 70 =$	$4200 \div 7 =$	$1000 \div 5 =$
$800 \div 4 =$	$1000 \div 50 =$	$32 \times 5 =$	$0 \div 900 =$
$70 \times 12 =$	$210 \times 0 =$	$8100 \div 9 =$	$206 \div 2 =$

#### 2. 用竖式计算。(后三题验算)(12 分)

$304 \div 4 =$	$695 \div 5 =$	$492 \div 3 =$
----------------	----------------	----------------

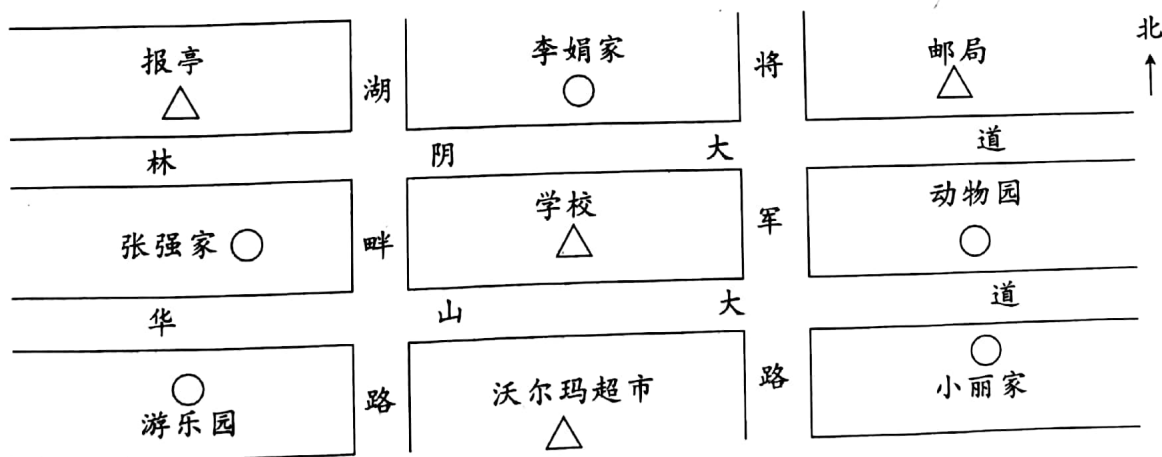
$70 \times 43 =$	$32 \times 48 =$	$33 \times 11 =$
------------------	------------------	------------------

#### 3. 脱式计算。(6 分)

$141 \div (3 + 4)$	$(124 + 359) \div 3$	$108 \div 6 \times 7$
--------------------	----------------------	-----------------------

### 四、看图完成下列各题。(14 分)

#### 1. 认一认,说一说。(8 分)



(1) 将军路的东面有( )、( )、( )。

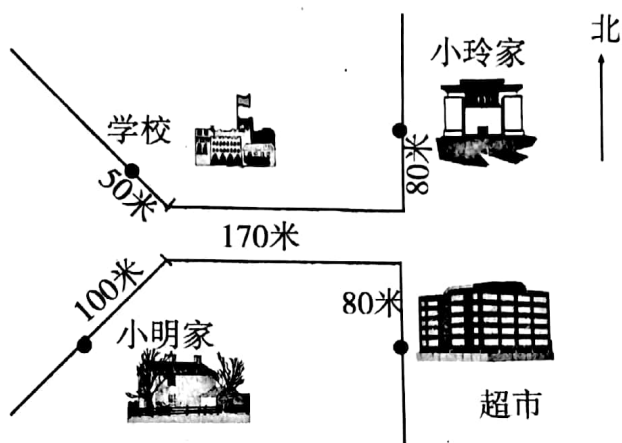
(2) 华山大道的南面有( )、( )、( )。

(3) 学校在李娟家的( )面,张强家在报亭的( )面。

2. 看图回答问题。(6 分)

(1) 写出小玲上学的路线。

(2) 写出小明到超市买东西应走的路线。



## 五、解决问题。(40 分)

1. 生活中的数学。(10 分)





每分钟行  
0.8千米



每分钟行  
0.2千米



每分钟行  
1.3千米

(1)  比  每分钟慢多少千米?(5 分)

(2) 三种车 1 分钟共行多少千米?(5 分)

2. 学校买回 783 个苹果,打算分给三年级的同学,每个同学分 6 个苹果,一共能分给几个同学? 还剩几个?(6 分)

3. 上学期期末考试,李军语文、数学和英语的平均成绩为 92 分,请你算一算,他语文、数学、英语 3 门功课的总成绩。(5 分)

4. 小华看一本故事书,这本书共 104 页,他第一个星期看了全书的一半,第二个星期又看了剩下的一半,还剩多少页书没有看?

(5 分)

5. 根据表格内容,回答下列问题。(14 分)

数量/本 时 间	种 类				
	连环画	故事书	童话	科技书	其他书
原来	25	15	10	10	5
现在	35	22	17	10	11

(1) 原来一共有多少本书? 现在呢? (4 分)

(2) 原来的书多还是现在的书多? 多多少本? (4 分)

(3) 原来哪个种类的书最多? 现在哪个种类的书最少? (6 分)

### 期中达标测试卷

一、1. 0 2. 9900 3. 西 东 南 北 4. 4 583 5. 北

6. 29 190 7. 3 8. 101 2

二、1.  $\times$  2.  $\times$  3.  $\checkmark$  4.  $\times$  5.  $\times$  6.  $\times$  7.  $\times$  8.  $\times$

三、1. 3200 3500 600 200 200 20 160 0 840

0 900 103

2. 76 139 164 3010 1536 363 (验算略)

3.  $20\cdots\cdots 1$  161 126

四、2. (1) 小玲从家出发, 向南走 80 米再向西走 170 米, 再向西北走 50 米, 到达学校。

(2) 小明从家出发, 向东北走 100 米, 再向东走 170 米, 再向南走 80 米, 到达超市。

五、1. (1)  $1.3 - 0.8 = 0.5$  (千米)

(2)  $0.8 + 0.2 + 1.3 = 2.3$  (千米)

2.  $783 \div 6 = 130$  (个)  $\cdots\cdots 3$  (个)

分给 130 个同学, 还剩 3 个。

3.  $92 \times 3 = 276$  (分) 4.  $104 \div 2 \div 2 = 26$  (页)

5. (1)  $25 + 15 + 10 + 10 + 5 = 65$  (本)

$35 + 22 + 17 + 10 + 11 = 95$  (本)

(2)  $95 > 65$  现在的书多  $95 - 65 = 30$  (本)

(3) 原来连环画最多, 现在科技书最少。