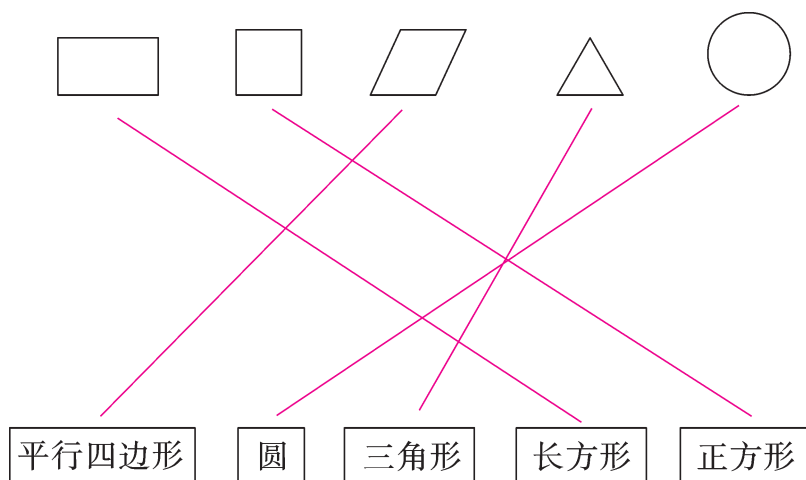


达标测试卷


题号	一	二	三	四	五	六	七	八	总分
得分									

一、认一认,连一连。(10 分)




二、想一想,填一填。(20 分)

1. 给长方体的每个面涂上不同的颜色,要准备(**6**)种颜色的彩笔。
2. 魔方的每个面都是(**正方**)形,数学课本的每个面都是(**长方**)形。
3. 三角形有(**3**)条边,长方形和正方形都有(**4**)条边。

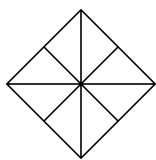
4.  的上、下两个面都是(**圆**),并且大小一样。

5. 把各种图形的序号填在括号里。

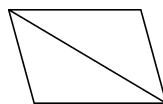


 (**①⑤**)  (**②④**)  (**③**)


6. 根据图形填一填。



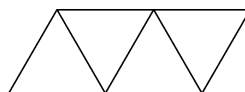
(8) 个大小一样的三角形
拼成了一个(正方形)。



(2) 个大小一样的三角形
拼成了一个(平行四边形)。



(3) 个大小一样的长方形
拼成了一个(正方形)。



(4) 个大小一样的三角形
拼成了一个(平行四边形)。

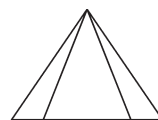
7.



有(3)个长方形。



有(5)个正方形。



有(6)个三角形。

三、用左边的物体可以直接画出右边的哪个图形？在相应的()里画“√”。(8分)



()




(√)



()




()



()



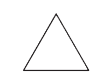
()




(√)



(√)



()



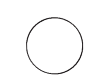
()



(√)



()



()



()



(√)



(√)

四、细心选一选。(填序号)(8分)

1.



把这一组图形拼起来,能得到(④)。

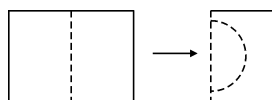
①正方形

②长方形

③平行四边形

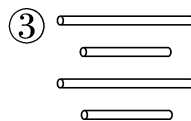
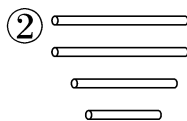
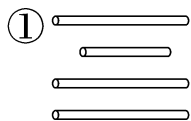
④圆

2. 如下图,对折后沿着虚线剪下,展开剪下后的图形是一个(④)。



- ①正方形 ②长方形 ③平行四边形 ④圆

3. 下面三组小棒中,能围成长方形的是(③)。



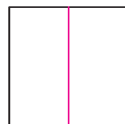
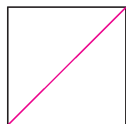
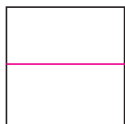
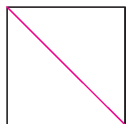
4. 如右图,小朋友用手中的长方体和笔,最多可以画出 (③) 不同的长方形。

- ① 6 个 ② 4 个 ③ 3 个

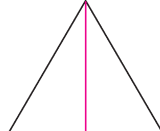
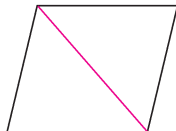
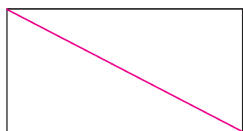


五、动手操作我最棒! (20 分)

1. 画一画,把每个正方形分成大小相等的两个图形。(8 分)



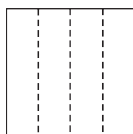
2. 画一条线段,把下面每个图形分成两个三角形。(6 分)



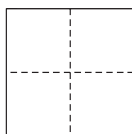
(分法不唯一)

3. 下面每个正方形沿虚线对折两次后,分别可以折出什么图形?

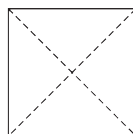
(6 分)



(长方形)

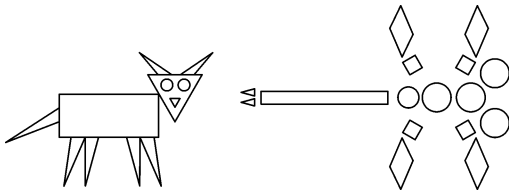


(正方形)



(三角形)

六、考考你的眼力。(10 分)



图形	长方形	正方形	三角形	圆	平行四边形
个数	(2)个	(4)个	(11)个	(7)个	(4)个

七、找规律，画一画。(16 分)

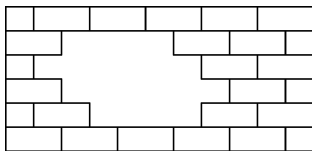
1.

2.

3.

4.

八、(创新题)小猪补墙。(8 分)



帮我算算，一共需要多少块砖？



【答案】一共需要 10 块砖。