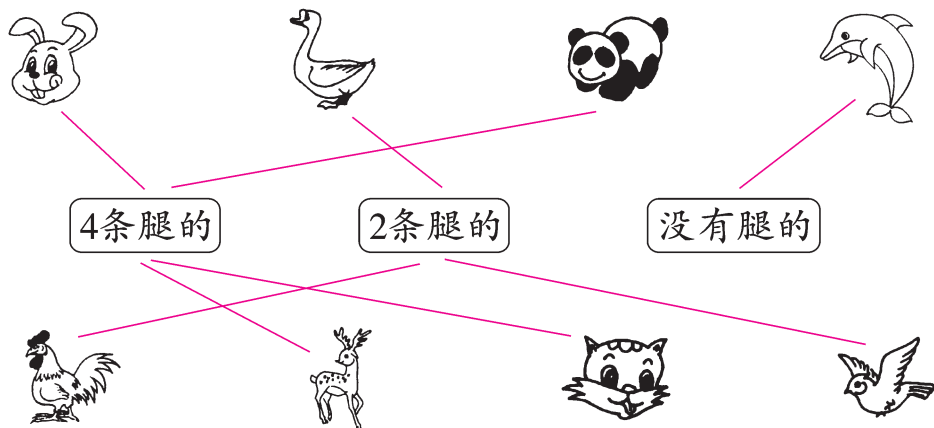


达标测试卷

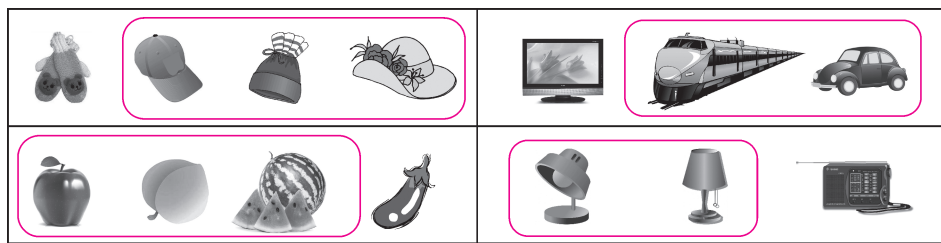
题号	一	二	三	四	五	六	七	八	总分
得分									

一、连一连。(8分)




二、火眼金睛。(每题8分,共16分)


1. 把同类的圈起来。



2. 把不同类的圈起来。



三、先画一画,再填一填。(共 12 分)







1. 画一画。(8 分)

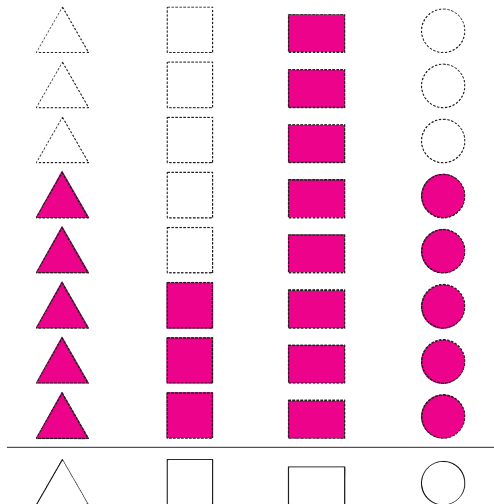
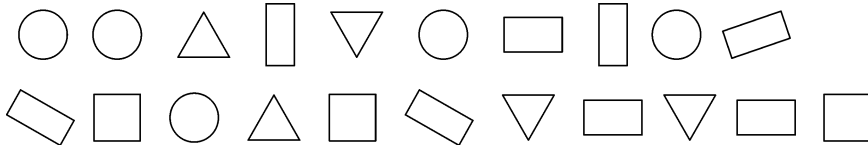
	正正
	正一
	下
	正



(画法不唯一)





2. 填一填。(4 分)

				
数量(个)	10	6	3	4

四、按形状分一分、涂一涂、填一填。(8 分)



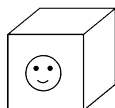
			
(5) 个	(5) 个	(8) 个	(3) 个

() 最多, () 最少, () 与 () 同样多。

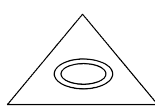
五、想一想,下面的物体可以怎样分?(填序号)(20分)



①



②



③



④



⑤



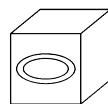
⑥



⑦



⑧



⑨



⑩

分法一:

① ⑥

② ⑨

③ ⑩

④ ⑦

⑤ ⑧

分法二:

① ⑤


② ⑧

③ ⑨

④ ⑥

⑦ ⑩

六、按要求做一做。(共14分)



1. 结合上图完成下面的统计表。(4分)

	打排球	跳绳	踢毽子	打乒乓球
人数(人)	8	3	6	4


2. 如果分成两组,那么可以怎样分?(4分)

【答案】分成男生和女生。

3. (打排球) 的人数最多, (跳绳) 的人数最少。(4分)

4. 踢毽子的人数比打排球的少(2)人。(2分)

七、按要求分一分。(共 16 分)



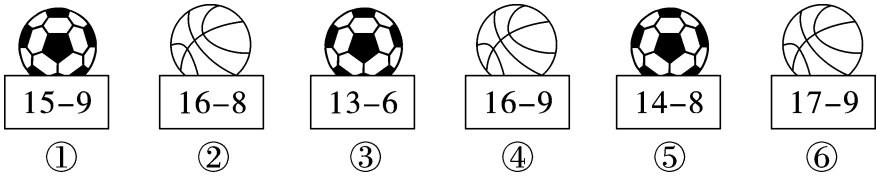
1. 按形状分一分,写下来。(4 分)

序号	⑤⑪⑫	①④⑦	③⑥⑩	②⑧⑨

2. 如果分成三类,那么可以怎样分?(12 分)

	灰色	白色	黑色
序号	①⑥⑧⑪	②④⑤⑩	③⑦⑨⑫

八、(创新题)用两种方法分一分。(6 分)



【答案】按球的种类分:①③⑤ ②④⑥

按式子的得数分:①⑤ ②⑥ ③④