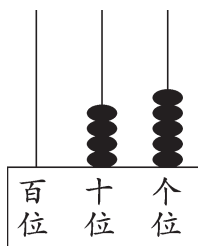


达标测试卷

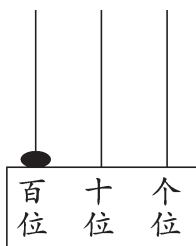
题号	一	二	三	四	五	六	七	八	九	总分
得分										

一、填一填。(每空1分,共28分)

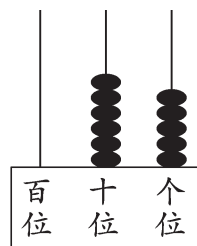
1.



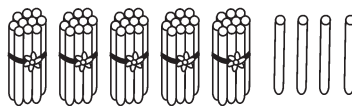
(45)



(100)



(65)



(4)个十是(40)。(5)个十和(4)个一合起来是(54)。

2.

29	30	31	32	33	34	35	36	37	38	39	40
----	----	----	----	----	----	----	----	----	----	----	----

3.

0	10	30	40	70	80	90	100
---	----	----	----	----	----	----	-----

4. 从右边起,第一位是(个)位,第二位是(十)位,第(三)位是百位。

5. 比69大1的数是(70),比69小1的数是(68)。

6. 最大的一位数是(9),最小的两位数是(10)。

二、算一算。(8分)

$6+5=11$


$95-90=5$

$60+3=63$

$76-6=70$


$$\begin{array}{llll}
 8+30=38 & 12-4=8 & 7+50=57 & 2+90=92 \\
 15-7=8 & 70+2=72 & 50+5=55 & 4+30=34 \\
 48-40=8 & 36-6=30 & 75-70=5 & 66-60=6
 \end{array}$$

三、猜一猜。(每题3分,共6分)

1.  我们班有24名女生,男生比女生多一些。

男生可能有多少名?(在合适的人数下面画“√”)

20 名	24 名	30 名	60 名
		√	

2.  一本故事书18元,一个书包比一本故事书贵得多。

一个书包可能多少钱?(在合适的钱数下面画“○”)

14 元	20 元	21 元	37 元
			○

四、在○里填上“>”“<”或“=”。(6分)

$$\begin{array}{lll}
 65 > 56 & 50+9 < 60 & 42-2 = 40 \\
 39 < 40 & 37 < 3+70 & 70 = 78-8
 \end{array}$$

五、按要求把下面的数填入圈内。(6分)

74	44	25	54	80	49	52
----	----	----	----	----	----	----

54 52

74 80

大于50的数

74 44

54 80

52







双数

44

54 74


个位上是4的数

六、小蝌蚪找妈妈。(连一连)(6分)

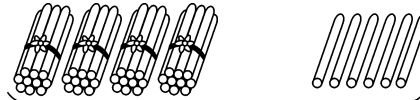
 <div style="border: 1px solid black; padding: 5px; display: inline-block;">个位上是8, 十位上是2。</div>	 <div style="border: 1px solid black; padding: 5px; display: inline-block;">5个十, 3个一。</div>	 <div style="border: 1px solid black; padding: 5px; display: inline-block;">个位上的数字比 十位上的数字小3。</div>
 <div style="border: 1px solid black; padding: 5px; display: inline-block;">53</div>	 <div style="border: 1px solid black; padding: 5px; display: inline-block;">85</div>	 <div style="border: 1px solid black; padding: 5px; display: inline-block;">28</div>

(Note: Lines connect the frogs to the tadpoles: Frog 1 to 85, Frog 2 to 28, Frog 3 to 53.)


七、看图列式计算。(每题3分,共18分)

1. 
?根


$$\boxed{30} + \boxed{5} = \boxed{35} \text{ (根)}$$

2. 
?根

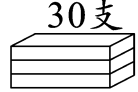

$$\boxed{40} + \boxed{6} = \boxed{46} \text{ (根)}$$

3. ?根 
89根



$$\boxed{89} - \boxed{9} = \boxed{80} \text{ (根)}$$

4.  ?根
67根

$$\boxed{67} - \boxed{60} = \boxed{7} \text{ (根)}$$



5.  30支 
?支

$$\boxed{30} + \boxed{4} = \boxed{34} \text{ (支)}$$

6.  ?个 
23个

$$\boxed{23} - \boxed{3} = \boxed{20} \text{ (个)}$$


八、解决问题。(每题4分,共16分)

1.  爸爸比儿子大30岁,
儿子今年7岁。 

爸爸今年多少岁?

$$\boxed{30} + \boxed{7} = \boxed{37} \text{ (岁)}$$

2.



红花和黄花一共有 23 朵。黄花有多少朵？

$$\boxed{23} \ominus \boxed{3} = \boxed{20} \text{ (朵)}$$

3.



它们一共浇了多少朵花？

$$\boxed{20} \oplus \boxed{9} = \boxed{29} \text{ (朵)}$$

4.



一(2)班共有 27 人,现在班上有多少人没做手工？

$$\boxed{27} \ominus \boxed{7} = \boxed{20} \text{ (人)}$$

九、(创新题)小亮和小刚各有一张卡片,小亮的卡片上的数是由 3 个十和 8 个一组成的,小刚的卡片上的数比小亮的小 4,小刚的卡片上的数是多少? (6 分)

【答案】由题可知,小亮的卡片上的数是 38。

$$38 - 4 = 34$$

口答:小刚的卡片上的数是 34。