

第四单元检测试卷

(时间:40 分钟 满分:100 分)

题号	一	二	三	四	五	六	七	总分
得分								

一、在()里填上合适的单位名称。(12 分)

一袋味精重 100()

小红的体重是 40()

一个铅球重 4()

一只母鸡重 4()

一本数学书重 300()

一个西瓜重 3()

二、填空。(18 分)

1. 1000 克=()千克 1 kg=()g

2. 1 块橡皮重 5 克,6 块这样的橡皮重()克。

3. 小华体重 26 千克,小方体重 23 千克,小华比小方重()
千克。

4. 1 个 2 分硬币大约重 1 克,1000 个 2 分硬币约重()。

5. 一头水牛的体重是 499 千克,大约是()千克。

6. $72 \text{ 克} \div 8 =$

$5 \text{ 千克} + 700 \text{ 千克} =$

$63 \text{ 克} \div 7 =$

$7 \text{ 千克} \times 9 =$

$55 \text{ 克} + 45 \text{ 克} =$

$65 \text{ 克} - 20 \text{ 克} =$



三、在○里填上“>”“<”或“=”。(16分)

7 千克 ○ 70 克

400 克 ○ 390 克

15 克 ○ 12 千克

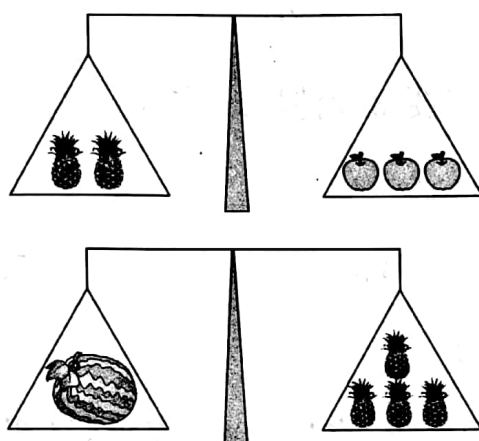
109 克 ○ 100 克

1000 克 ○ 10 千克

48 克 ○ 48 千克

160 克 ○ 16 千克 5 千克 ○ 500 克

四、(6分)




一个 = () 个


五、看图写出下面物品有多重。(12分)



_____ 千克









六、选择。(12 分)

1. 18 个鸡蛋大约重 1()。

A. 克

B. 米

C. 千克

2. 1 千克沙子的重量()1000 克棉花的重量。

A. $>$

B. $<$

C. $=$

3. 1 杯水重 200 克, 5 杯水重()克。

A. 100

B. 1000

C. 500

4. 买 1 千克香蕉需要 3 元钱, 现有 15 元钱, 可买()千克的香蕉。

A. 50

B. 5

C. 500

七、解决问题。(24 分)

1. 爸爸买回 3 千克豆油, 吃掉 1000 克后, 又买回 2 千克菜籽油, 还有油多少千克?

2. 芹菜 500 克, 小白菜 500 克, 一共有多少千克菜?



3. 小冬用 20 元买 8 千克西瓜,找回 4 元,每千克西瓜多少元?

4. 下面是某水果店的价格表:

名称	价格
苹果	2 元/500 克
桃	1 元/500 克
香蕉	5 元/500 克
荔枝	8 元/500 克
西瓜	3 元/500 克
菠萝	3 元/500 克



妈妈选的水果需要多少钱? 我选的水果需要多少钱?

