

达标测试卷

题号	一	二	三	四	五	六	七	八	总分
得分									

一、填空。(10 分)

1. 验算加法时,可以交换两个(加数)的位置。
2. 三位数加三位数的和可能是(三)位数,也可能是(四)位数。
3. 两个加数都是 45,它们的和是(90)。
4. 最小的三位数是(100),最大的三位数是(999),它们的差是(899)。
5. 32 个十比(14)个十多 180;一个数比 254 多 66,这个数是(320)。
6. 如果 $\bigcirc + 20 = \square$,那么 $\square - \bigcirc = (20)$ 。

二、在○里填上“>”“<”或“=”。(8 分)

$$47+58 \text{ (<) } 68+47$$

$$76-58 \text{ (<) } 58+76$$

$$127+234 \text{ (<) } 147+234$$

$$174+258 \text{ (=) } 147+285$$

$$387+421 \text{ (<) } 502+308$$

$$609-254 \text{ (=) } 600-245$$

$$804-267 \text{ (>) } 432+85$$

$$903-276 \text{ (<) } 930-276$$

三、判断。(对的画“√”,错的画“×”)(5 分)

1. 因为 $147+258=405$,所以 $147=405-258$ 。(√)
2. 最大的三位数比最小的四位数多 1。(×)
3. 比 700 多 100 的数是 800。(√)
4. 609 和 305 的和大约是 1000。(×)

5. 甲数是 219, 乙数比甲数少 168, 乙数是 387。 (×)

四、计算。(共 18 分)

1. 直接写出得数。(4 分)

$$20+80=100 \quad 70+90=160 \quad 45+25=70 \quad 90-50=40$$

2. 先用竖式计算, 再验算。(8 分)

$$351+58=409$$

$$\begin{array}{r} 351 \\ + 58 \\ \hline 409 \end{array} \quad \text{验算: } \begin{array}{r} 409 \\ - 58 \\ \hline 351 \end{array}$$

$$234+457=691$$

$$\begin{array}{r} 234 \\ + 457 \\ \hline 691 \end{array} \quad \text{验算: } \begin{array}{r} 691 \\ - 457 \\ \hline 234 \end{array}$$

$$876-291=585$$

$$\begin{array}{r} 876 \\ - 291 \\ \hline 585 \end{array} \quad \text{验算: } \begin{array}{r} 585 \\ + 291 \\ \hline 876 \end{array}$$

$$604-309=295$$






$$\begin{array}{r} 604 \\ - 309 \\ \hline 295 \end{array} \quad \text{验算: } \begin{array}{r} 295 \\ + 309 \\ \hline 604 \end{array}$$

3. 算一算。(6 分)

$$516-73+135=578 \quad 145+172+158=475 \quad 225+259-375=109$$

$$\begin{array}{r} 516 \\ - 73 \\ \hline 443 \end{array} \quad \begin{array}{r} 443 \\ + 135 \\ \hline 578 \end{array} \quad \begin{array}{r} 145 \\ + 172 \\ \hline 317 \end{array} \quad \begin{array}{r} 317 \\ + 158 \\ \hline 475 \end{array} \quad \begin{array}{r} 225 \\ + 259 \\ \hline 484 \end{array} \quad \begin{array}{r} 484 \\ - 375 \\ \hline 109 \end{array}$$

五、下面算式的得数比较接近哪一个数? 连一连。(5 分)

<div style="border: 1px solid black; padding: 5px; width: 100px; margin: 0 auto;">34+27</div>	<div style="border: 1px solid black; padding: 5px; width: 100px; margin: 0 auto;">805-297</div>	<div style="border: 1px solid black; padding: 5px; width: 100px; margin: 0 auto;">297+402</div>	<div style="border: 1px solid black; padding: 5px; width: 100px; margin: 0 auto;">996-405</div>	<div style="border: 1px solid black; padding: 5px; width: 100px; margin: 0 auto;">91-39</div>
 <div style="border: 1px solid black; padding: 2px; width: 50px; margin: 0 auto;">700</div>	 <div style="border: 1px solid black; padding: 2px; width: 50px; margin: 0 auto;">500</div>	 <div style="border: 1px solid black; padding: 2px; width: 50px; margin: 0 auto;">60</div>	 <div style="border: 1px solid black; padding: 2px; width: 50px; margin: 0 auto;">50</div>	 <div style="border: 1px solid black; padding: 2px; width: 50px; margin: 0 auto;">600</div>

(Note: Lines connect 34+27 to 50, 805-297 to 600, 297+402 to 700, 996-405 to 500, and 91-39 to 60.)

六、 里该填几? 填一填。(7 分)

$$\begin{array}{r} 6 \quad \boxed{1} \quad 2 \\ + 2 \quad 7 \quad \boxed{2} \\ \hline 8 \quad 8 \quad 4 \end{array}$$

$$\begin{array}{r} 3 \quad 2 \quad \boxed{1} \\ - 1 \quad \boxed{4} \quad 6 \\ \hline 1 \quad 7 \quad 5 \end{array}$$

$$\begin{array}{r} \boxed{2} \quad \boxed{4} \quad 2 \\ + 2 \quad 7 \quad 8 \\ \hline 5 \quad 2 \quad \boxed{0} \end{array}$$

七、判断正误。(对的画“√”,错的画“×”并改正)(8分)

$$\begin{array}{r} 675 \\ +2174 \\ \hline 941 \\ (\times) \end{array}$$

改正:

$$\begin{array}{r} 675 \\ +2174 \\ \hline 949 \end{array}$$

$$\begin{array}{r} 569 \\ +2175 \\ \hline 834 \\ (\times) \end{array}$$

改正:

$$\begin{array}{r} 569 \\ +2175 \\ \hline 844 \end{array}$$

八、走进生活。(共39分)

1. 参加书法小组的学生有59人,参加美术小组的学生比参加书法小组的学生多25人,参加舞蹈小组的学生比参加书法小组的学生少11人。参加美术小组的学生有多少人? 参加舞蹈小组的学生有多少人?(6分)

【答案】 $59+25=84$ (人) $59-11=48$ (人)

答:参加美术小组的学生有84人,参加舞蹈小组的学生有48人。

2. 水果店里有苹果180千克,香蕉240千克。苹果和香蕉一共有多少千克? 香蕉比苹果多多少千克?(6分)

【答案】 $180+240=420$ (千克) $240-180=60$ (千克)

答:苹果和香蕉一共有420千克,香蕉比苹果多60千克。

3. 花园里的有356盆,比多176盆。有多少盆? 两种花一共有多少盆?(6分)

【答案】 $356+176=532$ (盆) $532+356=888$ (盆)

答:有532盆,两种花一共有888盆。

4. 购物。(9 分)



193 元



? 元



305 元

(1) 估计一下,买一台电风扇和一个电饭锅,大约需要多少元?

(4 分)

【答案】 $193+305 \approx 500$ (元)

答:大约需要 500 元。

(2) 微波炉比电风扇贵 175 元,微波炉多少元?(5 分)

【答案】 $193+175=368$ (元)

答:微波炉 368 元。

5. 同学们星期四从图书馆借走了 384 本图书,星期五又借走了 256 本,图书馆现在还剩 278 本图书。图书馆原来有多少本图书?

(6 分)

【答案】 $384+256=640$ (本) $278+640=918$ (本)

答:图书馆原来有 918 本图书。

6. (创新题)红红家和明明家在同一条街上,他们约定在两家之间的公园门口集合。两人同时从家里出发,明明走了 30 米后发现忘记带水杯了,又返回家中去取。明明一共走了 340 米后和红红同时到达公园门口,此时红红走了 320 米。你能算出红红家到明明家有多远吗?(6 分)

【答案】 $340-30-30=280$ (米) $280+320=600$ (米)

答:红红家到明明家有 600 米远。