



全真模拟训练卷 **普 通 学 校 卷** (二)

题号	一	二	三	四	五	六	七	八	九	总分
得分										

一、填一填。(18分)

- 36 中的“3”在(**十**)位上,“6”在(**个**)位上。
- 我们学过的数中,与 99 相邻的两个数分别是(**98**)和(**100**)。
- 2 元=(**20**)角,70 分=(**7**)角,45 角=(**4**)元(**5**)角,7 元 9 角=(**79**)角。
- 30 比 64 少(**34**),72 比 9 多(**63**)。
- 用 3, 8, 0, 4 这四个数字组成的两位数中,比 50 小的数有(**43**),比 50 大的数有(**80**)。(答案不唯一)
- 1 枚 1 元的硬币可以换(**10**)枚 1 角的硬币,也可以换(**2**)枚 5 角的硬币。

- 


 (**35**)元 (**7**)角

- $2 \square - 9 = 16$, \square 里应该填(**8**)。

二、选择我能行。(将正确答案的序号填在括号里)(7分)

- 在已经认识的数中,比 90 大、比 100 小的数一共有(**②**)个。
 ① 8 ② 9 ③ 10
- 如果 $74 - \square 6$ 的差是四十多,那么 \square 里的数是(**①**)。
 ① 2 ② 3 ③ 4
- 买一辆售价是 52 元的玩具小汽车,全都用面值 10 元的人民币付钱,至少要付(**③**)张。
 ① 2 ② 5 ③ 6

4. 下面图形中, (③) 是四边形。

① 三角形

② 圆


③ 长方形

5. 要拼成一个大正方形,最少要用(③)个完全一样的小正方形。

① 2

② 3

③ 4

6.  这个图形的每个面都是(②)。

① 长方形

② 正方形

③ 三角形

7. 长方形和正方形都属于(①)。

① 四边形

② 三角形

③ 圆

三、算一算。(共 16 分)

1. 直接写出得数。(8 分)

$$6+8-5=9 \quad 57-5+30=82 \quad 38+20-40=18 \quad 76-40+4=40$$

$$27-6-9=12 \quad 40+36-6=70 \quad 20-8+4=16 \quad 60+8-7=61$$

2. 列竖式计算。(8 分)

$$24+42=66 \quad 90-69=21 \quad 18+69=87 \quad 62-35=27$$

$$\begin{array}{r} 24 \\ +42 \\ \hline 66 \end{array}$$

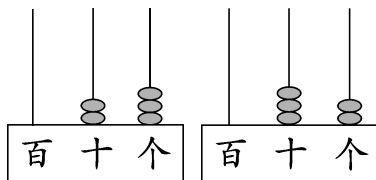
$$\begin{array}{r} 90 \\ -69 \\ \hline 21 \end{array}$$

$$\begin{array}{r} 18 \\ +69 \\ \hline 87 \end{array}$$

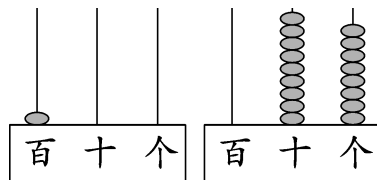
$$\begin{array}{r} 62 \\ -35 \\ \hline 27 \end{array}$$

四、按要求做一做。(共 23 分)

1. 先看图写数,再比较大小。(6 分)

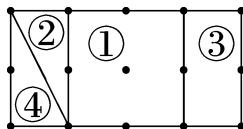


(22) < (32)



(100) > (98)

2. 看图填一填。(5 分)



图① 是(正方形),图② 是(三角形),图③ 是(长方形),
图④ 是(三角形);这四个图形拼在一起是(长方形)。

3. 找规律填数。(6分)

(1) 75 80 85 90 (95) (100)

(2) 45 48 51 54 (57) (60)

(3) 96 87 78 69 (60) (51)

4. 按要求把算式的序号填入相应的圈里。(6分)

① $8+21$

② $8+37$

③ $50-9$

④ $73-37$

⑤ $12+19$

⑥ $29+3$

⑦ $62-8$

⑧ $84-39$

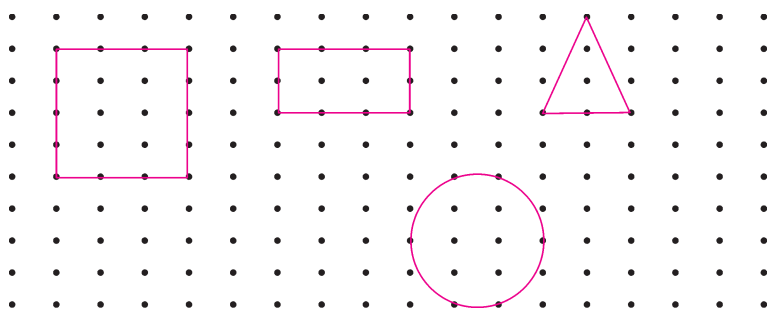
得数是三十多的

得数是四十多的

④⑤⑥




②③⑧

五、在下面的点子图上分别画一个正方形、一个长方形、一个三角形和一个圆。(8分)



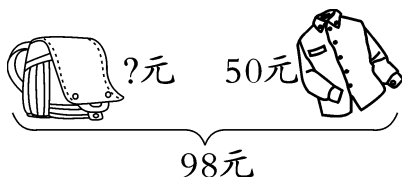
(答案不唯一)

六、填表。(6分)

			
原有	60 箱	72 箱	(58) 箱
卖掉	45 箱	(35) 箱	30 箱
还剩	(15) 箱	37 箱	28 箱

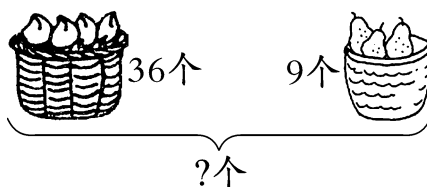
七、看图列式计算。(4分)

1.



$$\boxed{98} - \boxed{50} = \boxed{48}$$


2.



$$\boxed{36} + \boxed{9} = \boxed{45}$$

八、解决问题。(12 分)

1. 一盒笔的价钱是多少元?



$$50 - 16 = 34 \text{ (元)}$$

2. 小黑钓了几条鱼?



$$16 - 9 = 7 \text{ (条)}$$

3. 已经装了多少箱?



$$60 - 28 = 32 \text{ (箱)}$$

九、(趣味题)下面是用 12 根火柴棒摆成的一个“田”字形图形,拿走其中的 2 根火柴棒,使这个图形中共有 2 个正方形。(6 分)

