

全真模拟训练卷

普

通

学

校

卷

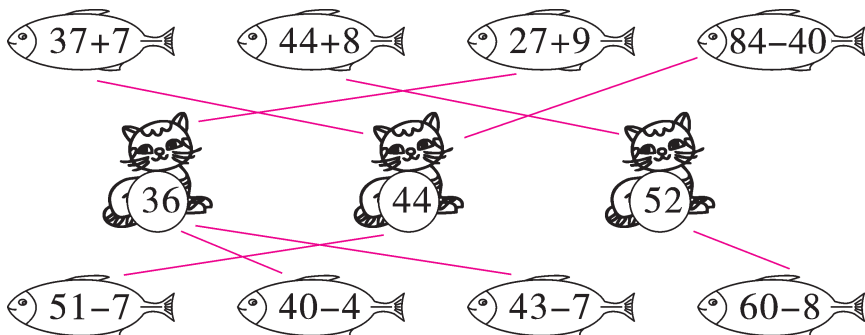
(三)

题号	一	二	三	四	五	六	七	八	总分
得分									

一、填一填。(16分)

- 95 里面有(5)个一和(9)个十。
- 6 个十和 9 个一合起来是(69),读作(六十九)。
- 79 是(两)位数,与它相邻的两个数分别是(78)和(80)。
- 6 元 7 角 = (67)角,35 角 = (3)元(5)角,2 元 - 6 角 = (14)角,9 角 + 12 角 = (2)元(1)角。
- 17 比 8 多(9),比 15 多 9 的数是(24)。
- 一个两位数,十位上是 9,个位上的数字比十位上的数字小 5,这个数是(94)。

二、算一算,连一连。(8分)



三、选择我能行。(将正确答案的序号填在括号里)(10分)

- 小红拍了 48 下球,小方和小红拍的下数差不多,小方可能拍了(③)下。
① 8 ② 60 ③ 46
- 小丽今年 7 岁,比她的爸爸小 29 岁,她的爸爸今年(②)岁。
① 10 ② 36 ③ 60
- 在 96,52,26 这三个数中,(①)比 50 多得多。
① 96 ② 52 ③ 26

4. 一本练习本 1 元,一支铅笔 5 角,买一本练习本和一支铅笔共需要(①)角。

① 15

② 10

③ 5

5. 下面算式中,(③)的得数是八十多。

① $95-5$

② $79-11$

③ $47+40$

四、算一算。(共 14 分)

1. 直接写出得数。(8 分)

$14-8=6$

$11-7=4$

$15-8=7$

$18-9=9$

$43-30=13$

$37-7=30$

$56-20=36$

$15-6=9$

2. 列竖式计算。(6 分)

$56-41=15$

$27+69=96$

$93-78=15$

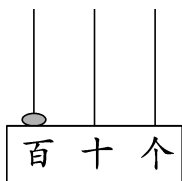
$$\begin{array}{r} 56 \\ -41 \\ \hline 15 \end{array}$$

$$\begin{array}{r} 27 \\ +69 \\ \hline 96 \end{array}$$

$$\begin{array}{r} 93 \\ -78 \\ \hline 15 \end{array}$$

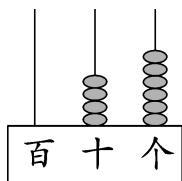
五、按要求做一做。(共 17 分)

1. 先看图写数,再读一读。(6 分)



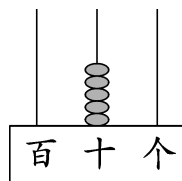
写作:(100)

读作:(一百)



写作:(46)

读作:(四十六)



写作:(50)

读作:(五十)

2. 每行各有多少钱? 认一认,填一填。(4 分)



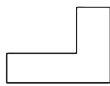
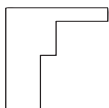
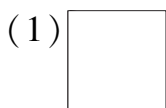
(31)元(0)角



(55)元(5)角

3. 左边的图形是由右边的哪两个图形拼成的? 在括号里画“○”。

(4 分)

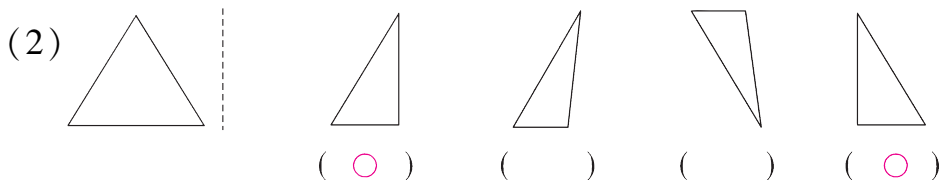


(○)

()

(○)

()



4. 在○里填上“+”或“-”。(3分)

$$46 \text{ (+) } 20 = 66$$

$$40 \text{ (-) } 12 = 28$$

$$68 \text{ (-) } 9 = 59$$

$$28 \text{ (+) } 17 = 45$$

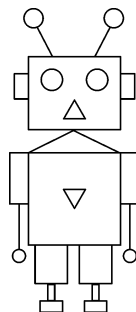
$$16 \text{ (+) } 32 = 48$$

$$60 \text{ (-) } 9 = 51$$

六、小小统计员。(共12分)

1. 用画“√”的方法对右边的图形的数量进行统计。(4分)

○	√√√√√√
□	√
▭	√√√√√√√√√√
△	√√√



2. 根据上面的统计情况,完成下面各题。(8分)

(1) 在上面的图形中,(长方形)的个数最多,(正方形)的个数最少。

(2) □比○少(5)个,▭比△多(8)个。

七、解决问题。(16分)

1. 还剩下多少只千纸鹤?



折了32只千纸鹤,送给幼儿园8只。

$$32 \text{ (-) } 8 = 24 \text{ (只)}$$

2. 这两只青蛙一共吃了多少只害虫?



$$\boxed{56} + \boxed{30} = \boxed{86} \text{ (只)}$$

3. 买一副羽毛球拍需要多少钱?



$$\boxed{50} - \boxed{29} = \boxed{21} \text{ (元)}$$

4. 购物。



32元



8元



15元

(1) 带 40 元钱买一个书包, 还剩多少钱?

【答案】 $40 - 32 = 8$ (元)

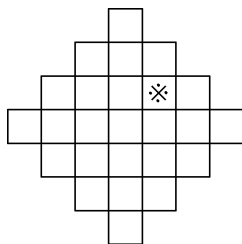
口答: 还剩 8 元钱。

(2) 水彩笔比文具盒贵多少钱?

【答案】 $15 - 8 = 7$ (元)

口答: 水彩笔比文具盒贵 7 元钱。

八、(创新题) 数一数, 下图中包含“※”的正方形共有多少个? (7 分)



【答案】7 个。