

全真模拟训练卷 **普 通 学 校 卷** (四)




题号	一	二	三	四	五	六	七	总分
得分								

## 一、填一填。(18分)

- 7个十和4个一组成( **74** ),与66相邻的两个数是( **65** )和( **67** )。
- 一个两位数,个位上的数字是8,十位上的数字是2,这个数是( **28** )。
- 比78多20的数是( **98** ),比62少7的数是( **55** )。
- 5元4角=( **54** )角,89分=( **8** )角( **9** )分,1元=( **10** )角,45角=( **4** )元( **5** )角。
- 1张20元可以换( **4** )张5元或者换1张10元和( **10** )张1元。
- 把一张正方形纸沿对角线对折后,得到一个( **三角** )形。
- 按规律画一画。(3分)

○△□○△□□○△□□□ ○ △ □ □ □ □

## 二、选一选。(4分)

- 下面各算式的得数是五十多的是( **②** )。  
 ①  $36+28$       ②  $25+29$       ③  $72-24$       ④  $65-16$
- 在45,9,80,26,78,65,77,36中,比40大、80小的数有( **④** )个。  
 ① 5      ② 2      ③ 3      ④ 4
- 一(1)班有男生16人、女生28人,求一(1)班共有学生多少人。正确的列式是( **①** )。  
 ①  $28+16$       ②  $28-16$
-  的价钱接近20元,  的价钱比  贵多了。



的价钱可能是( ③ )元。

① 18

② 20

③ 50

### 三、计算乐园。(共 30 分)

1. 直接写出得数。(12 分)

$35+8=43$

$30+16=46$

$40+50-60=30$

$87-8=79$

$56-41=15$

$80-10+25=95$

$68-40=28$

$35+32=67$

$50+24=74$

$63+8=71$

$55-15-20=20$

$33+43=76$

2. 接力赛,看哪一队先到终点。(10 分)

$$18 \xrightarrow{+45} \boxed{63} \xrightarrow{-20} \boxed{43} \xrightarrow{+56} \boxed{99} \xrightarrow{-72} \boxed{27} \xrightarrow{+29} \boxed{56} \text{ 终}$$

$$62 \xrightarrow{+20} \boxed{82} \xrightarrow{-23} \boxed{59} \xrightarrow{+18} \boxed{77} \xrightarrow{-44} \boxed{33} \xrightarrow{+58} \boxed{91} \text{ 点}$$

3. 森林医生。(对的画“√”,错的画“×”并改正)(8 分)

(1)

$$\begin{array}{r} 7 \\ + 25 \\ \hline 95 \end{array}$$

改正:

$$\begin{array}{r} 7 \\ + 25 \\ \hline 32 \end{array}$$

( × )

(2)

$$\begin{array}{r} 65 \\ - 35 \\ \hline 3 \end{array}$$

改正:

$$\begin{array}{r} 65 \\ - 35 \\ \hline 30 \end{array}$$

( × )

(3)

$$\begin{array}{r} 34 \\ - 17 \\ \hline 23 \end{array}$$

改正:

$$\begin{array}{r} 34 \\ - 17 \\ \hline 17 \end{array}$$

( × )

(4)

$$\begin{array}{r} 46 \\ + 35 \\ \hline 71 \end{array}$$

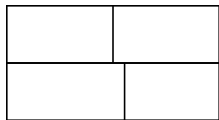
改正:

$$\begin{array}{r} 46 \\ + 35 \\ \hline 81 \end{array}$$

( × )

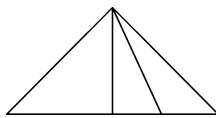
### 四、数一数,填一填。(8 分)

1.



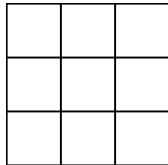
有( 7 )个长方形。

2.




有( 6 )个三角形。

3.




有( 14 )个正方形。

4.




有( 10 )个圆。

5.



有( 4 )个圆,  
( 3 )个三角形,  
( 6 )个长方形,  
( 3 )个正方形。

### 五、小小收银员。(4 分)

				
付的钱数	50 元	50 元	( 50 ) 元	60 元
价格	26 元	39 元	46 元	( 55 ) 元
应找的钱数	( 24 ) 元	( 11 ) 元	4 元	5 元

### 六、解决问题。(共 28 分)

1. 妈妈要给小林买一套衣服,她可以怎样买? 应付多少钱?(12 分)



30元



20元



46元

(1) 买( 外套 )和( 裤子 ),应付( 76 )元。

算式:  $30+46=76$ (元)

(2) 买( 毛衣 )和( 裤子 ),应付( 66 )元。

算式:  $20+46=66$ (元)

2. 第一小学进行消防安全知识讲座。一至三年级分别派学生参加“逃生演习”活动。

一年级参加的人数  
比二年级少18人。



二年级有  
30人参加。



三年级参加的人数  
比二年级多25人。



(1) 一年级有多少人参加? 三年级呢?(4 分)

【答案】 $30-18=12$ (人)  $30+25=55$ (人)

口答:一年级有 12 人参加,三年级有 55 人参加。

(2)一至三年级一共派了多少人参加“逃生演习”活动?(3分)

【答案】 $12+30+55=97$ (人)

口答:一至三年级一共派了97人参加“逃生演习”活动。

3. 购物。(9分)



35元



18元



20元



43元

(1)豆豆买1个书包和1个熊娃娃,付了60元,找回多少元?

【答案】 $35+18=53$ (元)  $60-53=7$ (元)

口答:找回7元。

(2)乐乐带55元钱买1盒水彩笔和1辆玩具车,还差多少元?

【答案】 $20+43=63$ (元)  $63-55=8$ (元)

口答:还差8元。

(3)请你提出一个数学问题,并解答。

【答案】1辆玩具车比1个熊娃娃贵多少钱?

$43-18=25$ (元)

口答:1辆玩具车比1个熊娃娃贵25元。(答案不唯一)

七、(创新题)按要求做一做。(共8分)

1. 在1,2,3,4,5之间添上“+”(位置相邻的两个数字可以组成一个数),使它们的和等于33。(4分)

$$1+2 \quad 3+4+5 = 33$$

2. 在5,6,7,8,9之间添上“+”(位置相邻的两个数字可以组成一个数),使它们的和等于98。(4分)

$$5+6+7 \quad 8+9 = 98$$