



全真模拟训练卷 普通学校卷 (一)


题号	一	二	三	四	五	六	七	总分
得分								


一、填一填。(21 分)


- 82 里面有(8)个十和(2)个一。
- 4 个十和 5 个一合起来是(45),读作(四十五)。
- 70 是(两)位数,与它相邻的两个数分别是(69)和(71)。
- 5 元 3 角 = (53)角,25 角 = (2)元(5)角,1 元 - 6 角 = (4)角,5 角 + 8 角 = (1)元(3)角。
- 47 比 9 多(38),40 比 53 少(13)。
- 十位上是 8,个位上是 9 的两位数是(89)。
-  左图中一共有(6)个三角形。
- 最大的两位数是(99),最小的两位数是(10)。
- 两个加数的和是 62,其中一个加数是 38,另一个加数是(24)。
- 一个足球 76 元,小军买一个足球付的钱全是面值 10 元的,他至少要付(8)张。

二、算一算,连一连。(8 分)

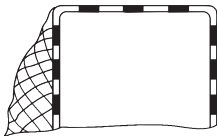

 $43+6$


 $49+3$



 $54-9$



 $60-7$


得数比 50 大的





得数比 50 小的




 $37+8$


 $76-30$


 $56-8$


 $92-40$

三、我来当小法官。(对的画“√”,错的画“×”)(4分)



66这个数中的两个6都表示6个十。

(×)

读数和写数都从高位起。



(√)



用6个小正方形可以拼成1个大正方形。

(×)

1个老师带领50个学生去郊游,每人1个面包,50个面包就够了。



(×)

四、算一算。(共13分)

1. 直接写出得数。(5分)

$$2+54=56 \quad 38-20=18 \quad 50+26=76 \quad 84+4=88 \quad 16-9-3=4$$

$$4+43=47 \quad 49-7=42 \quad 60+6=66 \quad 23+50=73 \quad 63+10-40=33$$

2. 列竖式计算。(8分)

$$\begin{array}{r} 23 \\ +29 \\ \hline 52 \end{array} \quad \begin{array}{r} 18 \\ +12 \\ \hline 30 \end{array} \quad \begin{array}{r} 70 \\ -64 \\ \hline 6 \end{array} \quad \begin{array}{r} 82 \\ -9 \\ \hline 73 \end{array}$$

五、按要求做一做。(共14分)

1. 把下面各数按从大到小的顺序排列。(3分)

67 24 98 42 100 86

(100) > (98) > (86) > (67) > (42) > (24)

2. 找出规律填一填,画一画。(8分)

(1) 11 13 15 17 19 21

(2) 24 34 44 54 64 74

(3)

3. 在括号里填上适当的数。(3 分)

$$(34) + 30 = 64$$

$$28 + (50) = 78$$

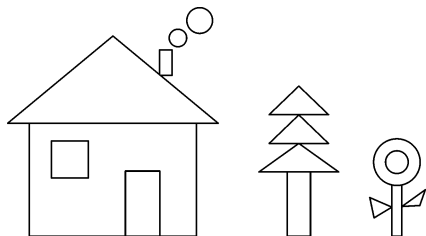
$$93 - (90) = 3$$

$$(39) - 9 = 30$$

$$(25) + 3 = 28$$

$$35 - (5) = 30$$


六、认一认,数一数,填一填。(8 分)



三角形有(6)个,长方形有(5)个,正方形有(1)个,圆有(4)个。


七、解决问题。(共 32 分)

1. 某停车场已经停了 7 辆汽车,还有 42 个空位。这个停车场一共可以停多少辆汽车?(4 分)



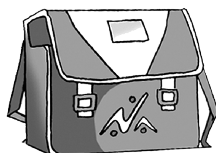
$$7 + 42 = 49 \text{ (辆)}$$

2. 小兰再收集多少张画片,两人的画片就同样多了?(5 分)



$$28 - 15 = 13 \text{ (张)}$$

3. 妈妈给小明买了一个书包,付了 50 元,营业员阿姨找回 13 元。妈妈买这个书包花了多少钱?(5 分)



$$50 - 13 = 37 \text{ (元)}$$

4. 去商场购物。(6分)



53元



36元



7元



12元

(1) 裙子比毛巾贵多少钱?

$$\boxed{36} - \boxed{7} = \boxed{29} \text{ (元)}$$

(2) 帽子比上衣便宜多少钱?

$$\boxed{53} - \boxed{12} = \boxed{41} \text{ (元)}$$

(3) 买一件上衣和一条毛巾一共要花多少钱?

$$\boxed{53} + \boxed{7} = \boxed{60} \text{ (元)}$$

5. 一箱饮料原来有 24 瓶。(6分)

我拿走了8瓶。



我拿走了9瓶。



这箱饮料现在还剩下多少瓶?

$$\boxed{24} - \boxed{8} - \boxed{9} = \boxed{7} \text{ (瓶)}$$

6. (趣味题)算年龄。(6分)



我的年龄在60岁到80岁之间,个位和十位上的数字相差3。

奶奶可能多少岁?



【答案】奶奶可能 63 岁、69 岁或 74 岁。