

全真模拟训练卷 普 通 学 校 卷 (二)

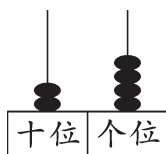
题号	一	二	三	四	五	六	七	八	九	总分
得分										

一、算一算。(8分)

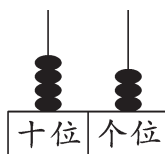
$$\begin{array}{llll}
 15+30=45 & 32-30=2 & 7+7=14 & 77-7=70 \\
 29-8=21 & 57-5=52 & 13+60=73 & 33+7=40 \\
 38+20=58 & 89-7=82 & 59-30=29 & 23+2=25 \\
 91-9=82 & 64+8=72 & 26-8=18 & 70-70=0
 \end{array}$$

二、填一填。(每空1分,共29分)

- 58, (59), (60), (61), 62, (63), (64), 65;
91, (90), (89), 88, (87), (86), (85), (84)。
- 一个数的十位上是5,个位上是3,这个数是(53);一个数的个位上是1,十位上是6,这个数是(61)。
- 79 里面有(7)个十和(9)个一,5 个一和 6 个十合起来是(65),8 个十是(80)。
- 写出下面各数。



(24)



(43)

五十八
(58)

七十
(70)

一百
(100)


- 40 比 9 多(31),4 比 54 少(50)。
- 5 角=(50)分,80 分=(8)角,2 角 7 分=(27)分,43 分=(4)角(3)分。

$80 > 8+40$

$50-5 > 50-6$

$90+9 < 100$

七、统计一下操场上同学的人数。(12 分)



1.	活动	打乒乓球	做操	跳绳	踢球
	人数(人)	4	5	4	6

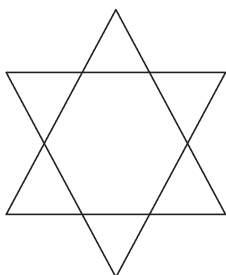
2. 你最喜欢的运动是(跳绳)。(答案不唯一,根据实际情况填空)

3. (做操)的人数比(打乒乓球)的人数多(1)人。(答案不唯一)

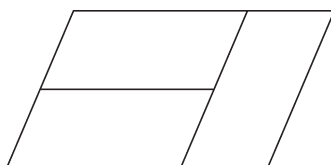
4. (跳绳)的人数比(踢球)的人数少(2)人。(答案不唯一)

5. 一共有(19)人参加活动。

八、数一数,填一填。(8 分)



(8)个三角形。



(5)个平行四边形。

九、解决问题。(共 15 分)

1. 我来超市购物。



3元3角/束



7元/个



10元/副



7元/盒



60元/个



20元/辆



20元/个



3元/瓶

(1) 一个  比一个  便宜多少元? (3 分)

【答案】 $60-7=53$ (元)

答: 一个  比一个  便宜 53 元。

(2) 小强有一张 , 他正好能买哪几样东西? (3 分)

【答案】 $10+20+20=50$ (元)

口答: 他正好能买乒乓球拍、足球和小汽车。

(答案不唯一)

(3) 你想买哪几样东西? 需准备多少钱? (4 分)

【答案】我想买气球和牛奶。

3 元 3 角 + 7 元 = 10 元 3 角 (答案不唯一)

口答: 需准备 10 元 3 角。

2. (趣味题) 小熊上学。(5 分)



我现在离家 25 米, 离学校 30 米。

如果小熊家和学校在同一条街上, 那么小熊家离学校有多远?

【答案】 $25+30=55$ (米)

口答: 小熊家离学校有 55 米。