

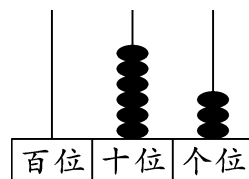
全真模拟训练卷 普通学校卷 (三)

题号	一	二	三	四	五	六	七	八	九	十	总分
得分											

一、填一填。(每空 1 分,共 25 分)

1. (2)张  可以换 1 张 。

2. 右图中,这个数写作(63),它由(6)个十和(3)个一组成。



3. 1 元=(10)角,10 分=(1)角,45 角=(4)元(5)角,7 元 9 角=(79)角。

4. 30 比 64 少(34),72 比 9 多(63)。

5.

10	15	20	25	30	35	40	45
----	----	----	----	----	----	----	----

6. 一个两位数,十位上的数字比 7 大 1,个位上的数字比 4 小 2,这个数是(82)。

7. 与 50 相邻的两个数分别是(49)和(51)。

8. 在 ○ 里填上“>”“<”或“=”。

$$45-3 < 48 \quad 58+0 = 58-0 \quad 70 \text{ 元} > 70 \text{ 角}$$

$$72-2 < 74 \quad 26+7 = 27+6 \quad 1 \text{ 角} > 9 \text{ 分}$$

二、考考你的判断力。(对的画“√”,错的画“×”)(每题 1 分,共 5 分)

1. 在减法中,差一定比减数小。 (×)

2. 4 个一和 3 个十组成的数是 43。 (×)

3. 比 100 少 1 的数是 99。 (√)

4. 最小的两位数是 11。 (×)

5. 3 个十和 30 同样大。 (√)

三、在合适的答案下面画“√”。(3 分)

小兰卖出 35 份报纸,小军比小兰卖得多一些。小军可能卖出多少份报纸?

10 份	30 份	40 份	60 份
		√	

四、算一算。(12 分)

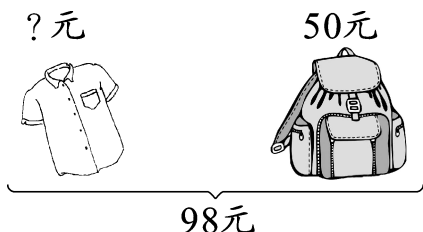
$6+8-5=9 \quad 57-5+30=82 \quad 38+20-40=18 \quad 76-40+9=45$

$27-6-9=12 \quad 40+36-7=69 \quad 20-8+4=16 \quad 60+8-7=61$

$15+8+30=53 \quad 58+7+6=71 \quad 55-8-20=27 \quad 90-20-9=61$

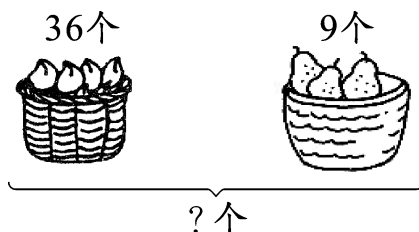
五、看图列算式。(每题 4 分,共 8 分)

1. ? 元



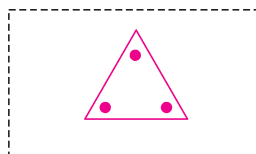

$$\boxed{98} \ominus \boxed{50} = \boxed{48} \text{ (元)}$$

2. 36个



$$\boxed{36} \oplus \boxed{9} = \boxed{45} \text{ (个)}$$

六、找规律,画一画。(2 分)



七、你知道所缺的是什么图形吗?(2 分)



八、用数学。(共 22 分)

1.



一盒笔要多少钱?(4 分)

$$\boxed{70} \ominus \boxed{6} = \boxed{64} \text{ (元)}$$

2. 两只猫一共钓了 18 条鱼。(4 分)



$$\boxed{18} \ominus \boxed{9} = \boxed{9} \text{ (条)}$$

3.



毛毛

我俩共得了21个😊。

我只得了9个😊。



豆豆

(1) 毛毛得了多少个😊?(4 分)

$$\boxed{21} \ominus \boxed{9} = \boxed{12} \text{ (个)}$$

(2) 豆豆再得多少个😊就和毛毛的同样多了?(4 分)

$$\boxed{12} \ominus \boxed{9} = \boxed{3} \text{ (个)}$$

4. 汽车到站了,在本站下车的有 16 人,没有上车的,这时车上还有 20 人。车上原来有多少人?(6 分)

$$\boxed{16} \oplus \boxed{20} = \boxed{36} \text{ (人)}$$

九、小小统计员。(共 14 分)

一(1)班打算在暑假举办一个暑期班,同学们的报名情况如下表所示。

	口语班	书法班	象棋班	游泳班
人数	14 人	10 人	8 人	6 人

1. 根据上表在右图中涂一涂。

(4 分)


2. 完成下面的练习。

(1) 报(**游泳**)班的人最少,报
(**口语**)班的人最多。

(2 分)

(2) 报象棋班的比口语班的少几
人?(4 分)

$$\boxed{14} - \boxed{8} = \boxed{6} \text{ (人)}$$



(3) 一(1)班最有可能举办(**口语**)班。(1 分)

(4) 你能再提出一个数学问题并解答吗?(3 分)

【答案】口语班比游泳班多几人?

$$14 - 6 = 8 \text{ (人)}$$

口答:口语班比游泳班多 8 人。(答案不唯一)

十、(趣味题)找规律,在框里填数。(7 分)

