





全真模拟训练卷 **重 点 学 校 卷** (二)

| 题号 | 一 | 二 | 三 | 四 | 五 | 六 | 七 | 八 | 总分 |
|----|---|---|---|---|---|---|---|---|----|
| 得分 | | | | | | | | | |

一、填一填。(每空 1 分,共 28 分)

- 10 个一是(10),10 个十是(100)。
- 6 个一和 8 个十合起来是(86),39 里面有(3)个十和(9)个一。
- 读数和写数都从(高位)起。
- 比最大的两位数少 9 的数是(90)。
- 一个一个地数,把 79 前面的一个数和后面的两个数写出来:
(78),79,(80),(81)。
- 十个十个地数,把 80 前面的两个数和后面的两个数写出来:
(60),(70),80,(90),(100)。
- 一个两位数,个位上的数是 6,十位上的数比个位上的数大 2,这个数是(86)。

- 1 张  可以换(5)张 ,也可以换(10)张 ,还可以换(2)张  和(1)张 。(或 1 3)

- 1 张  可以换(2)张 ,也可以换(5)张 ,还可以换(100)张 。

- 在 ○ 里填上“>”“<”或“=”。

$$60-4 \bigcirc 55$$

$$25+7 \bigcirc 37$$

$$34-20 \bigcirc 15$$

$16+20 \bigcirc 36$

$45+35 \bigcirc 79$

$60-20 \bigcirc 37$

二、我会选。(每题2分,共10分)


1. 小红想买一个 , 可以付(A)。
46元

A. 5 张 

B. 2 张 

2. 下面(C)组中的两个图形能拼成正方形。



3. 一个  的价格是(A)。

A. 30 元

B. 30 角

C. 3 分

4. $75-9$ 与(B)的结果相等。

A. $54+10$

B. $8+58$

C. $80-4$








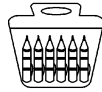
5. 下面选项中,比 60 大一些的数是(A)。

A. 68

B. 99


C. 50

三、用 1 元钱买东西。(共 5 分)

| | | | |
|---|---|---|--|
| 1角 | 8角 | 5角 | 1元2角 |
|  |  |  |  |
| | | | |
|  |  |  |  |
| 2角 | 6元5角 | 1元 | 9元8角 |

1. 可以买 10 块 。(1分)

2. 如果买 1 把 , 那么应找回 2 角。(1分)

3. 要买 1 个 , 还差 2 角。(1分)

4. 买1块 、1支  和3本 ，钱够吗？（2分）

【答案】2角+2角+2角=6角

1角+5角+6角=1元2角 1元2角>1元

口答：钱不够。

四、做一做。（每题4分，共8分）

| 种类 | 童话书 | 科技书 | 故事书 | 漫画书 |
|----|-----|-----|-----|-----|
| 本数 | 27本 | 32本 | 18本 | 90本 |

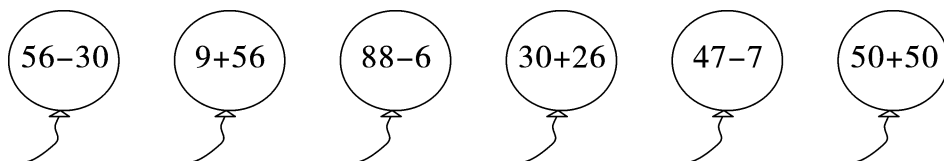
1. 根据书的本数，用“多一些、少一些、多得多、少得多”各写一句话。

【答案】科技书比童话书多一些，童话书比科技书少一些，漫画书比故事书多得多，故事书比漫画书少得多。（答案不唯一）

2. 少于30本的书有几种？多于50本的书有几种？

【答案】少于30本的书有2种，多于50本的书有1种。

五、把下面的算式按得数从小到大排列。（12分）





56-30 < 47-7 < 30+26 < 9+56 < 88-6 < 50+50

六、用数学。（共22分）

1.  还剩40本书。  借走了38本。

这个书架上原来有多少本书？（5分）

$$\boxed{40} \oplus \boxed{38} = \boxed{78} \text{ (本)}$$

2.  我跳了31下。  我跳了9下。

小兔比小猪多跳了多少下？（5分）

$$\boxed{31} \ominus \boxed{9} = \boxed{22} \text{ (下)}$$

3.



坐了50人。



坐了40人。

有 93 人去春游,租了两辆客车。还有多少人没有上车?(6 分)

$$\boxed{93} - \boxed{50} - \boxed{40} = \boxed{3} \text{ (人)}$$

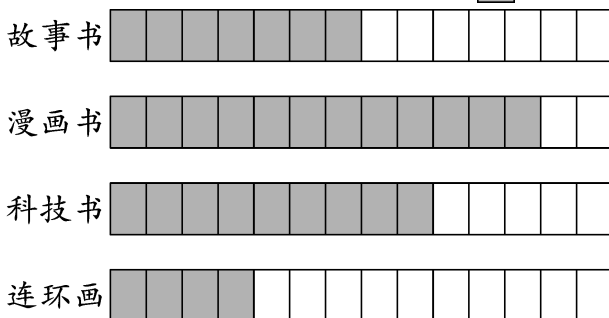
4.



他们一共栽了多少棵树?(6 分)

$$\boxed{8} + \boxed{13} + \boxed{20} = \boxed{41} \text{ (棵)}$$

七、下面是某班同学喜欢图书的人数统计图。(1 个  代表 1 人)(共 9 分)



1. 填表。(4 分)

| 种类 | 故事书 | 漫画书 | 科技书 | 连环画 |
|----|--------|---------|--------|--------|
| 人数 | (7)人 | (12)人 | (9)人 | (4)人 |

2. 一共调查了(32)人。(1 分)

3. 喜欢(漫画书)的人数最多,喜欢(连环画)的人数最少。(4 分)

八、(创新题)小马虎在做一道减法题时,误把被减数 32 看成了 23,这样计算出的结果是 20。正确的结果是多少?(6 分)

【答案】 $23 - 20 = 3$

$32 - 3 = 29$

口答:正确的结果是 29。