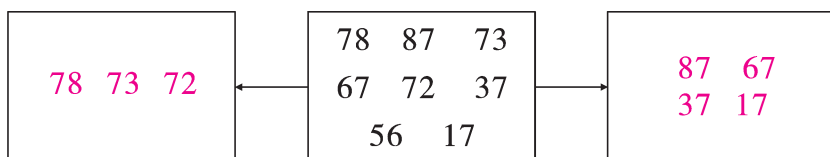


全真模拟训练卷 **重 点 学 校 卷** (三)

题号	一	二	三	四	五	六	七	总分
得分								

一、你能按要求填空吗？(第5题4分,其余每空1分,共33分)

1.




十位上是7的数。



个位上是7的数。



2. 数图形。



左图中有(5)个长方形,(1)个正方形,(5)个三角形,(7)个圆。

3. 写出75前面相邻的连续的5个数:(74),(73),(72),(71),(70)。

写出28后面相邻的连续的5个数:(29),(30),(31),(32),(33)。

4. 46里面有(4)个十和(6)个一。

5. 把下面的数按从大到小的顺序排列起来。

79 33 68 96 29 37 89 45

$96 > 89 > 79 > 68 > 45 > 37 > 33 > 29$

6. 一个两位数,个位和十位上的数字都是4,这个数是(44)。

7. 96 中的“9”表示(9)个(十),“6”表示(6)个(一)。

8. 姐姐比弟弟大3岁,也就是弟弟比姐姐(小3)岁。

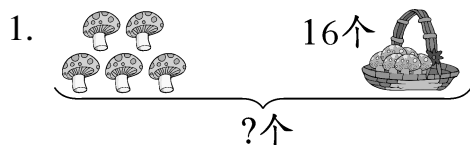
9. 一个数是39,另一个数是9,这两个数的和是(48),差是(30)。

10. 5角=(50)分,1元=(10)角=(100)分。

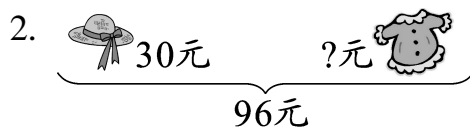
二、小熊写门牌号。(12分)



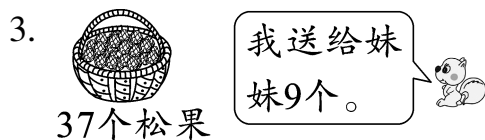
三、看图列式计算。(每题3分,共12分)



$$\boxed{5} \bigcirc + \boxed{16} = \boxed{21} \text{ (个)}$$




$$\boxed{96} \bigcirc - \boxed{30} = \boxed{66} \text{ (元)}$$



还剩多少个?

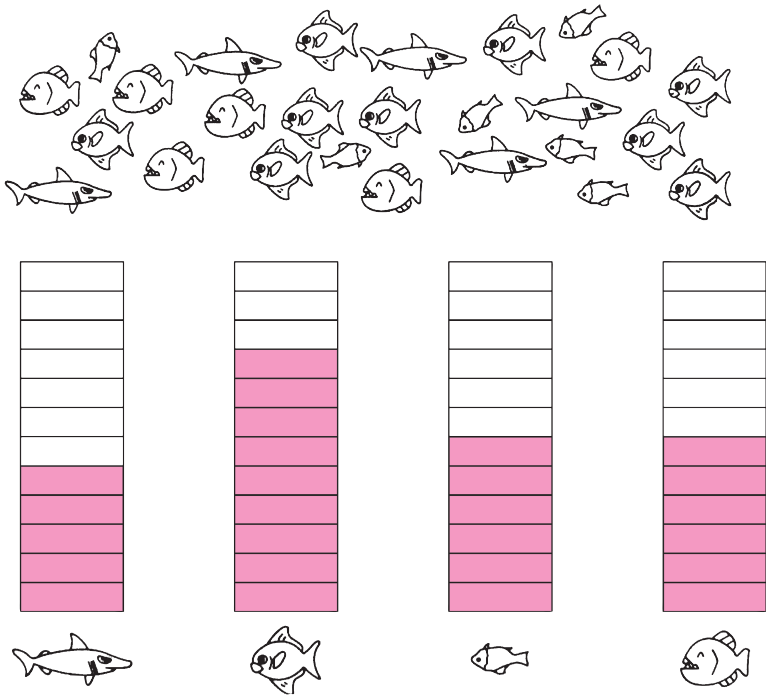
$$\boxed{37} \bigcirc - \boxed{9} = \boxed{28} \text{ (个)}$$







一共有多少只小鸡?











$$\boxed{8} \bigcirc + \boxed{19} = \boxed{27} \text{ (只)}$$

四、按鱼的种类分一分,涂一涂,填一填。(8分)



1.  有(6)条。
2.  有(6)条。
3.  有(5)条。
4.  有(9)条。

五、找朋友。(先把有关的条件和问题连起来,再列式计算)(4分)

1. 有 36 只 , 走了 8 只。 现在共有几只?
2.  有 36 只,  有 8 只。 还剩几只?
3.  和  共 36 只,  有 8 只。  比  多几只?
4. 有 36 只 , 又来了 8 只。  有几只?

1. 36-8=28(只)
2. 36-8=28(只)
3. 36-8=28(只)
4. 36+8=44(只)

六、找规律填数。(7分)

1. $\frac{2}{4} \quad \frac{6}{8} \quad \frac{12}{14} \quad \frac{16}{16}$
2. (33), 30, 27, 24, (21), (18), (15)。
3. (6), (12), 18, 24, (30), 36, (42)。
4. $100 \xrightarrow{-4} 96 \xrightarrow{-4} 92 \xrightarrow{-4} 88 \xrightarrow{-4} 84 \xrightarrow{-4} 80$


七、解决问题我最棒。(共24分)


1. 动物园里有 23 只  ,  比  少 6 只, 有多少只  ? (4分)


$$\boxed{23} \ominus \boxed{6} = \boxed{17} \text{ (只)}$$

口答: 有 17 只 .

2.

我跳了14下。
 小刚



我比你多跳了2下。
 兰兰

我跳的下数是你俩的总和。
 丽丽

丽丽跳了多少下? (8分)

$$\boxed{14} \oplus \boxed{2} = \boxed{16} \text{ (下)} \quad \boxed{14} \oplus \boxed{16} = \boxed{30} \text{ (下)}$$

口答: 丽丽跳了 30 下。

3. 商店卖出 24 台  后, 还剩 10 台, 商店原有多少台  ? (4分)

$$\boxed{24} \oplus \boxed{10} = \boxed{34} \text{ (台)}$$

口答: 商店原有 34 台 .

4. (趣味题) 某班同学排成一列去参观海洋馆。从前面数, 小明是第 18 个; 从后面数, 小洋是第 20 个。已知小明前面的那个人是小洋, 这个班共有学生多少人? (8分)

【答案】 $18+20=38$ (人) $38-2=36$ (人)

口答: 这个班共有学生 36 人。