

全真模拟训练卷 **重 点 学 校 卷** (一)

题号	一	二	三	四	五	六	七	八	总分
得分									

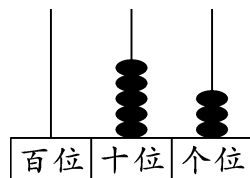
一、填一填。(每空1分,共45分)

1.

28	29	30	31	32	33
----	----	----	----	----	----

93	92	91	90	89	88
----	----	----	----	----	----

2. 右图的计数器中,这个数写作(53),里面有(5)个十和(3)个一,这个数读作(五十三)。



3. 有一个数,它的个位上是5,十位上是4,这个数是(45)。
4. 与69相邻的两个数分别是(68)和(70)。
5. 找规律填数。

(1) 15 21 27 33 39 45

(2) 40 36 32 28 24 20

6. 用

2
1 3 5 6
4

 做成一个 , 3 的对面是(6)。

7.



企鹅

15只



小兔

90只



乌龟

88只



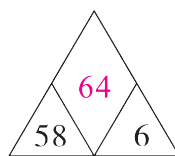
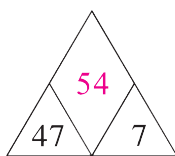
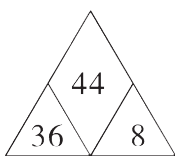
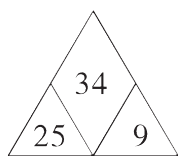
狮子

20只

(小兔) 比 (企鹅) 多得多, (乌龟) 比 (小兔) 少一些。(答案不唯一)

8. 1元5角+5角=(2)元,6角+7角=(1)元(3)角,
82角=(8)元(2)角,2元=(10)个2角=(20)个1角。

9. 找规律,填一填。



10. 在 ○ 里填上“>”“<”或“=”。

$39-4 \text{ (} = \text{)} 35$

$81+7 \text{ (} > \text{)} 87$

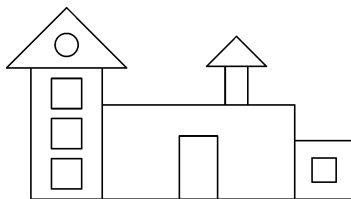
$76-6 \text{ (} > \text{)} 66$

$35+20 \text{ (} > \text{)} 32$

$56+40 \text{ (} > \text{)} 69$

$60-30 \text{ (} < \text{)} 63$

11. 观察下图,填一填。



○有(1)个, □有(4)个, △有(2)个, □有(5)个。

二、判断。(对的画“√”,错的画“×”)(4分)



四个同样大的正方形可以拼成一个大正方形。

(√)

7个一和9个十合起来是79。



(×)

三、选一选。(把正确答案的序号填在括号里)(每题2分,共6分)

1. 一顶帽子的价钱大约是(C)。

A. 30 分

B. 10 角

C. 10 元

2. 比42多30的数是(A)。

A. 72

B. 12

C. 27

3. 小涛家养了43只鸽子,养的鸡比鸽子少得多,他家可能养了(D)只鸡。

A. 50

B. 44

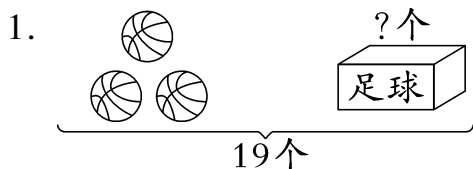
C. 90

D. 9

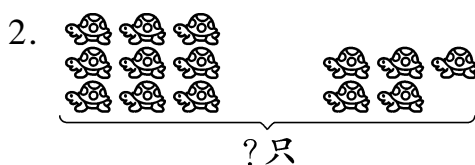
四、算一算。(8分)

$$\begin{array}{llll} 32+8-9=31 & 95-6-3=86 & 80+5-40=45 & 46+7-20=33 \\ 70-20-2=48 & 9+21-10=20 & 64-30+9=43 & 57+4+7=68 \end{array}$$

五、看图列式计算。(每题3分,共6分)

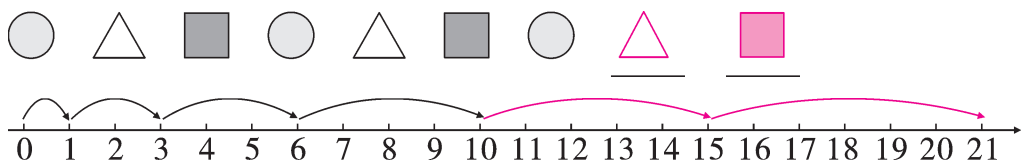


$$\boxed{19} \ominus \boxed{3} = \boxed{16} \text{ (个)}$$




$$\boxed{9} \oplus \boxed{5} = \boxed{14} \text{ (只)}$$

六、画一画。(4分)



七、把这些小朋友分成两类,可以怎样分?(每题4分,共8分)



1. 把分类的结果表示出来。

	男生	女生
人数	6人	5人

(分法不唯一)

2. 你还能提出一个数学问题并解答吗?

【答案】男生比女生多几人?

$$6-5=1 \text{ (人)}$$

口答:男生比女生多1人。(答案不唯一)

八、解决问题。(共19分)



我送给邻居8个苹果后,筐里还有18个苹果。



筐里原来有多少个苹果？(3 分)

$$\boxed{8} \oplus \boxed{18} = \boxed{26} \text{ (个)}$$

2. 学校购进一批树苗用来绿化校园,这三种树苗共有多少棵?

(4 分)



36棵



20棵



8棵

$$\boxed{36} \oplus \boxed{20} \oplus \boxed{8} = \boxed{64} \text{ (棵)}$$

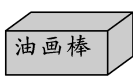
3.



36元/盒



28元/支



8元/盒



4元/支

(1) 买一支圆珠笔和一支钢笔要花多少钱？(3 分)

$$\boxed{4} + \boxed{28} = \boxed{32} \text{ (元)}$$

(2) 一盒水彩笔比一盒油画棒贵多少钱？(3 分)

$$\boxed{36} - \boxed{8} = \boxed{28} \text{ (元)}$$

4. (创新题) 小强今年 8 岁,妈妈今年 36 岁。10 年后,妈妈比小强大多少岁？(6 分)

【答案】 $36 - 8 = 28$ (岁)

口答:10 年后,妈妈比小强大 28 岁。