

河北省部分市县期末调研真题精选

（八）承德市调研试题

题号	一	二	三	四	总分
得分					

tián yì tián

一、填 一 填。（24 分）

1. 56 里面有（ ）个十和（ ）个一。

5 个十和 3 个十合起来是（ ）个十，也就是（ ）。

2. 位置



(1) 在 的（ ）面， 在 的（ ）面；

(2) 在 的（ ）面， 在 的（ ）面。

3. 1 张 20 元人民币可以换成（ ）张 10 元人民币和（ ）张 1 元人民币；

1 张 50 元人民币可以换成（ ）张 10 元人民币。

4. 写出 78 后面连续的四个数：（ ）。

5. 一个加数是 35，另一个加数是 30，和是（ ）。

6. 在○里填上>、<或=。

96 ○ 69 24+32 ○ 24+30 48-39 ○ 48-30 4 元 ○ 40 角



7. 按规律在括号里填数或画图形。

(1) 28 25 22 () ()

(2) ○ □ ○ □ ○ () ()

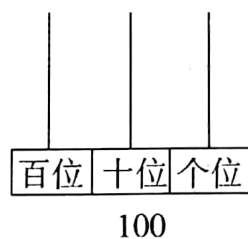
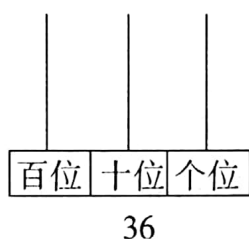
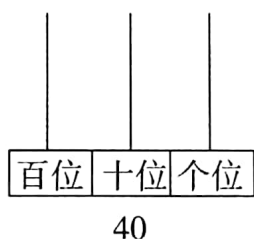
8. 最少用()根相同的小棒可以摆成一个△;最少用()根相同的小棒可以摆成一个□。

9. 妈妈买了一把雨伞,付给售货员一张 50 元的人民币,找回 34 元,这把雨伞()元。

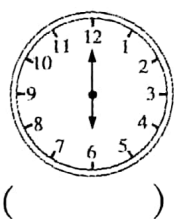
zuò yì zuò

二、做一做。(20 分)

1. 在计数器上画出珠子表示下面的数。


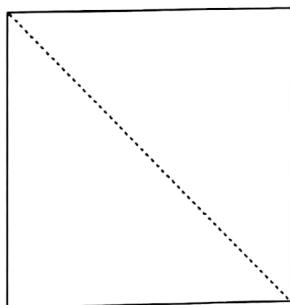


2. 看时间。



一共()元()角

4. 将一张正方形纸对折后剪开,你能发现什么?



我发现：

一个正方形能剪成()个相同的()形,也可以剪成()个相同的()形。

5. 按自己确定的规律涂色。



suàn yì suàn

三、算一算。(26分)

1. 用自己喜欢的方法计算。

- ① $62 - 20 =$ ② $38 - 9 =$ ③ $64 + 6 =$ ④ $46 - 8 =$ ⑤ $35 + 7 =$
⑥ $50 + 38 =$ ⑦ $6 + 26 =$ ⑧ $28 - 6 =$ ⑨ $40 + 30 =$ ⑩ $75 - 35 =$


2. 列竖式计算。

- ① $49 + 26$ ② $65 - 38$ ③ $56 + 29$ ④ $60 - 47$

shēng huó zhōng de shù xué

四、生活中的数学。(30分)

1. 原来有多少袋牛奶?



$$\square \bigcirc \square = \square \text{ (袋)}$$



2.






王阿姨做了 24 件上衣和 33 条裤子

还要做几件上衣才能和裤子配套?



$$\square \bigcirc \square = \square \text{ (件)}$$

3.

小红家养			
只数	56	38	44

(1) 鸭比鸡少多少只?

$$\square \bigcirc \square = \square \text{ (只)}$$

(2) 鸡比鹅多多少只?

$$\square \bigcirc \square = \square \text{ (只)}$$

4. 瓜园上午摘了 42 个西瓜, 下午摘了 39 个西瓜, 一天共卖出 72 个西瓜。

(1) 一共摘了多少个西瓜?

$$\square \bigcirc \square = \square \text{ (个)}$$

(2) 还剩多少个西瓜没有卖出?

$$\square \bigcirc \square = \square \text{ (个)}$$

时

封

线

