

河北省部分市县期末调研真题精选

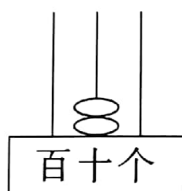
(二) 唐山市滦南县调研试题

题号	一	二	三	四	五	六	七	八	总分
得分									

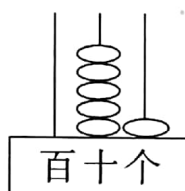
wǒ huì tián kòng

一、我会填空。(每空1分,共26分)

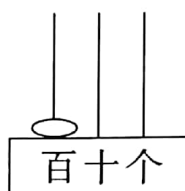
1. 看图写数。



()



()



()

2. 58 读作(),它由()个一和()个十组成。

3. 个位上是 3,十位上是 6,这个数是(),读作()。

4. 在○里填上“>”、“<”或“=”。

$$9 \text{ 元} \bigcirc 100 \text{ 分}$$

$$15 \text{ 角} \bigcirc 1 \text{ 元} 5 \text{ 分}$$

$$7 \text{ 元} 6 \text{ 角} \bigcirc 76 \text{ 分}$$

$$82 + 7 \bigcirc 90$$

$$78 - 8 \bigcirc 68 + 2$$

$$50 - 5 \bigcirc 40 + 5$$

5. 最大的一位数和最小的三位数相差()。

6. 在括号里最大填几。

$$62 - 31 > ()$$

$$50 + 37 > ()$$

$$75 - 26 > ()$$

$$() < 29 + 30$$

7. 按照自己观察到的规律涂上颜色。

★★☆★★☆☆☆☆☆☆

8. 把 48、81、56、99、49 按从小到大的顺序排列出来。

() < () < () < () < ()

9. 一个数十位上的数字比 8 大,个位上的数字比 1 小,这个数是()。



wǒ huì xuǎn zé jiāng zhèng què dá àn de xù hào tián zài kuò hào nèi
二、我会选择。将正确答案的序号填在括号内

(每题2分,共10分)

1. 有以下几张人民币:3张1元,4张5角,3张1角。他们合起来总共()钱?
A. 3元 B. 5元3角 C. 3元5角
2. 一年级有23名男同学,女同学比男同学少一些,女同学可能有()人?
A. 30 B. 2 C. 21
3. 一瓶洗发水15元,妈妈付给售货员20元,应找回()钱?
A. 5元 B. 7元 C. 8元
4. 下列数中,()比44大,同时比49小。
A. 49 B. 38 C. 45
5. 小明和同学站成一排,从前往后数他排第6,从后往前数他也排第6,这一排一共()人。
A. 11 B. 10 C. 9

wǒ huì pàn duàn duì de zài nèi dǎ cuò de dǎ
三、我会判断。对的在()内打“√”,错的打“×”

(每题2分,共10分)

1. 两个数的和一定是大于这两个数的差。()
2. 2张5角、2张1元、5张2角合起来是4元。()
3. 77右边的7表示7个十,左边的7表示7个一。()
4. 与79相邻的两个数是80和81。()
5. 小丽拿着10元钱去超市买了一盒牛奶,还剩6元5角,这盒牛奶的价钱是3元5角。()

wǒ huì jì suàn
四、我会计算。(共18分)

1. 看谁算得又对又快。(12分)

$92-9=$

$44+30=$

$25+8=$

$43-3=$

$10+70=$

$80-20=$

$84-40=$

$28+30=$

$99+1=$

$79-70=$

$55+9=$

$98-0=$

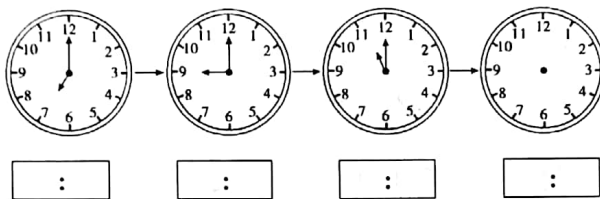


2. 竖式计算。(6分)

$$74 - 47 =$$

$$47 + 35 =$$

wǒ huì dú zhōng biǎo xiǎng yi xiǎng zhǎo zhǎo guī lǜ jiē zhe huà
五、我会读钟表(想一想,找找规律,接着画,
bìng zài xià miàn xiě shàng shí kè
并在下面写上时刻)(10分)



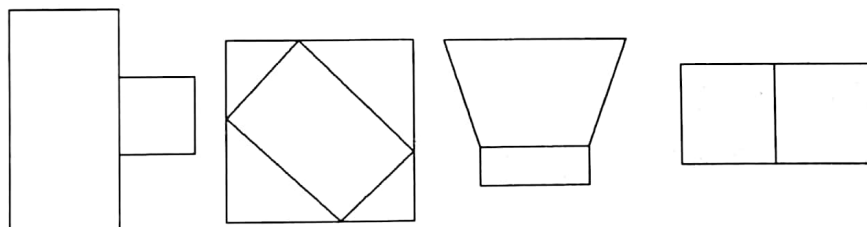
wǒ huì rèn tú xíng

六、我会认图形(共9分)

1. 在()内填上适当的数。(5分)



2. 给□涂上颜色。(4分)

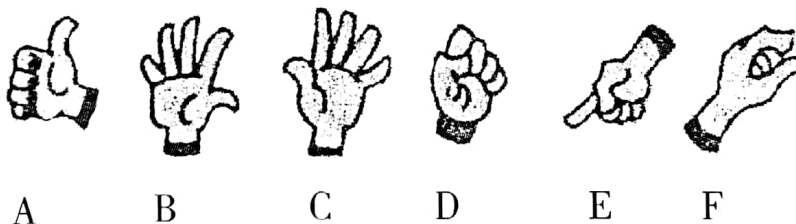


wǒ huì kàn tú tián kòng

七、我会看图填空。(6分)

用你的左右手对照下面各图,想一想,每幅图画画的是左手还是右手?然后把图画下面对应的字母编号(如:A、B、C……)填在相应括号内。

想一想,你能分辨出左手右手吗?



左手对应的字母编号是() () () (3分)

右手对应的字母编号是() () () (3分)

jiě jué wèn tí

八、解决问题。(共11分)

1. 下面是一年级学生参加课外活动的情况。(6分)

跳绳的有57人,打球的有24人,跑步的有28人。

(1) 跳绳的和打球的一共多少人?(3分)

$$\square \bigcirc \square = \square (\text{人})$$

答:跳绳的和打球的一共()人。

(2) 跑步的比跳绳的少多少人?(3分)

$$\square \bigcirc \square = \square (\text{人})$$

答:跑步的比跳绳的少()人。

2. (共5分)



25元



22元



5元



12元

妈妈给了红红50元钱,让他去买上面的玩具,小朋友们帮红红算算,他最多能买到上面四种玩具中的()种? 买到的分别是:



()个,



()个,



()个,



()个。

