

河北省部分市县期末调研真题精选

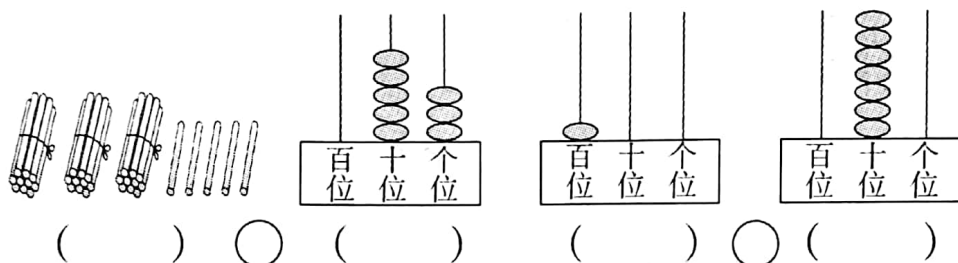
（九）邯郸市调研试题

题号	一	二	三	四	五	总分
得分						

tián yì tián

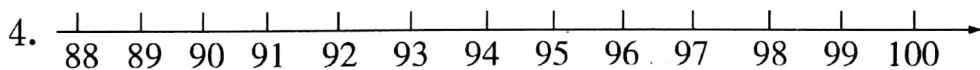
一、填一填。（24分）

1. 看图写数并比较大小。（4分）



2. 一个两位数,从右边起,第一位是9,第二位是6,这个数写作(),读作()。

3. 4个十和6个一组成的数是(),80里面有()个十。



(1)上面的数从左数第七个数是(),和它相邻的数是()。

(2)上面这些数中,最大的数是(),最小的数是();个位上是“0”的两位数是(),最接近90的数是();比96大又比98小的数是()。

5. 我们用的数学课本封面是()形的,红领巾是()形的。

6. 红红看一本50页的书,前三天看了39页,第4天应从()页看起,再看()页就可以看完。


7.

加数	加数	和
36	20	

被减数	减数	差
60	8	



8. 小明做了 30 道题,小红做了 48 道题,小华做了 60 道题。小华做的题比 () 多一些, () 比小华做的题少得多。

9. 丫丫买了 2 册绘本,每册 4 元,她付了 ,应找回 () 元钱。

wǒ huì xuǎn yì xuǎn

二、我会选一选。(将正确答案的序号填在括号里)(15 分)

1. 6.90 元是 ()。

①6 元 9 角

②6 元 9 分

③6 角 9 分

2. $\square - 40 = 58$, \square 是 ()。

①18

②48

③98

3. “上下楼,靠右走”,走错的小朋友是 ()。



①小强

②小红

③小军

4. 用 10 元、20 元、50 元面值的人民币凑成 100 元(每种凑法三种面值的都要用上),有 () 种凑法。

①一

②二

③三

5. 把一张正方形的纸对折两次,不能折出 ()。

①长方形

②正方形

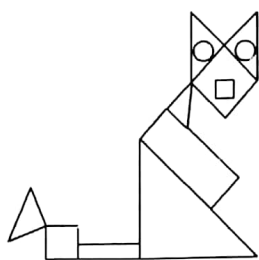
③三角形

④圆

wǒ huì zuò yì zuò

三、我会做一做。(16 分)

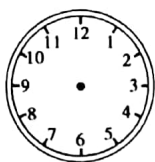
1. 数一数,填一填。(4 分)



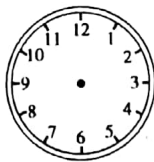
长方形	正方形	三角形	圆
() 个	() 个	() 个	() 个



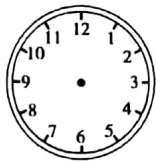
2. 在钟面上画表针。(6分)



4:00



12:30



大约 8 时

3. 找规律填一填。(6分)

(1) $\square \bigcirc \triangle \square \bigcirc \triangle \square \bigcirc \triangle$ () (画一组)

(2) $\bigcirc \bigcirc \bullet \bullet \bigcirc \bigcirc \bullet \bullet \bigcirc \bigcirc \bullet$ ____ ____ \bigcirc (画一个)

(3)

32		34
52		54

wǒ huì suàn yì suàn

四、我会算一算。(20分)

1. 口算。(4分)

$10 + 40 =$

$36 + 5 =$

$25 + 12 =$

$80 - 40 =$

$89 - 9 =$

$80 - 8 =$

$93 - 50 =$

$54 + 36 =$

2. 列竖式计算。(8分)

$40 - 22$

$53 + 27$

$8 + 69$

$90 - 55$

3. 自主天地。(8分)

(1) 写出 2 道两数相加等于整十数的算式。

(2) 写出 2 道 100 减去两位数的算式,再算一算。



五、我会解决问题。(25分)

1. 这本书一共有多少页?(5分)



我看了48页,还有
17页没看。

$$\square \bigcirc \square = \square \text{ (页)}$$

2. 李芳比王亮多读了多少本?(5分)



我读了19
本课外书。

我读了25
本课外书。



$$\square \bigcirc \square = \square \text{ (本)}$$

3. (15分)



9元



28元



10元



15元

(1) 你想买哪两种(在图下画“√”)? 需要多少元?(5分)

$$\square \bigcirc \square = \square \text{ (元)}$$

(2) 小军买了一个地球仪,付了50元钱,应找回多少元?(5分)

$$\square \bigcirc \square = \square \text{ (元)}$$

(3) 请你提出一个数学问题,并列式计算。(5分)

问题: _____

列式计算: _____

