

河北省部分市县期末调研真题精选

(六) 保定市曲阳县调研试题

题号	一	二	三	四	五	总分
得分						

tián kòng

一、填 空。(31 分)

- ()个十和()个一合起来是 45。
- 从十开始,十个十个地数,70 前面的一个数是(),90 后面的一个数是()。
- 一个两位数,个位上的数字是 9,十位上的数字是 8,这个两位数是(),与它相邻的两个数是()和()。



(2) 2 角 8 分 = () 分 1 元 - 6 角 = () 角

5. () 比 39 多 1, () 比 70 少 3。

6. 在○填上“>”、“<”或“=”。

77 - 40 ○ 67 - 30 8 + 48 ○ 88 - 40 18 角 ○ 2 元

7. 按要求写数(各写一个)。

(1) 个位上是 6 的两位数。()

(2) 个位上是 0 的两位数。()

(3) 十位上是 4 的两位数。()



(4)按照从小到大的顺序排列这三个数:()<()<()

8. 写出钟表上的时间。



()



()



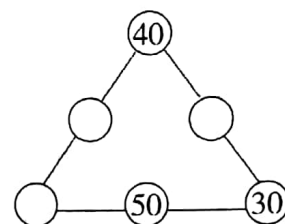
()

9. 在○里填数,使每条边上的三个数相加都等于 100。

10. 我是这样想的:(4 分)

$$\begin{array}{c} 63 - 8 = \square \\ \swarrow \quad \searrow \\ 50 \quad \square \\ \quad \downarrow \\ \quad \square \end{array}$$

$$\begin{array}{c} 22 + 50 = \square \\ \swarrow \quad \searrow \\ \square \quad 20 \\ \quad \downarrow \\ \quad \square \end{array}$$



xiǎn zé bǎ hé shì dá àn de xù hào tián zài

lǐ

二、选择。把合适答案的序号填在()里。(10 分)

1. 观察右图,第一个筐子里有 18 个鸡蛋,估计第二个筐子里大约有()个。



①33

②20

③18

2. 比 27 多得多的数是()。

①12

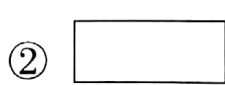
②37

③89

3. 下面是左手的是()。



4. 下面的纸,()能围成一个圆柱形纸筒。



5. ()算式的得数是七十多。

①80-19

②39+29

③48+29



tián yì tián zuò yì zuò

三、填一填，做一做。(9分)

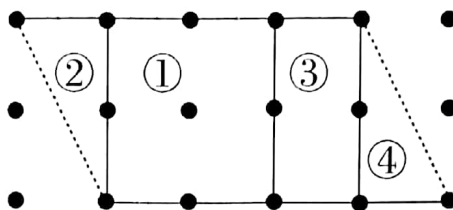
1. 仔细观察右图，填空。(4分)

图形①是()形；

图形②和④是()形；

图形③是()形；

图形②和④可以拼成()形。



2. 找规律接着画。(2分)

□○○□○○□○○_____

3. 在每朵花中写上一个数，使这些数按一定的规律排列。(3分)



jì suàn

四、计算。(23分)

1. 直接写出得数。(15分)

$$\begin{array}{ccccccccc} 4+55= & 29+4= & 76+6= & 56-7= & 21-4= \\ 40-9= & 86-6= & 5+87= & 88-3= & 40+21= \\ 9+20= & 33+7= & 90-60= & 74-70= & 65-30= \end{array}$$

2. 用竖式计算。(8分)

$$26+46= \quad 90-57= \quad 18+69= \quad 62-35=$$

jiě jué wèn tí

五、解决问题。(27分)

1. 我是妈妈的小帮手。



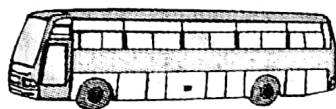
(1)我和妈妈一共洗了多少个碗?

$$\square \bigcirc \square = \square \text{ (个)}$$

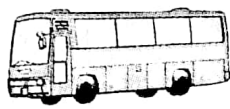
(2)还有多少个碗没有洗?

$$\square \bigcirc \square = \square \text{ (个)}$$


2.



大客车 46 座



中巴车 28 座



小汽车 4 座

(1)大客车和小汽车一共有多少座?

$$\square \bigcirc \square = \square \text{ (座)}$$

(2)中巴车比大客车少多少座?

$$\square \bigcirc \square = \square \text{ (座)}$$

(3)48 名同学参加夏令营活动,选()车和()车比较合适。

3. 聪聪和妈妈到商店买东西,下面是商店部分商品的价格:(9 分)



1 元 2 角



15 元 5 角



60 元



45 元



38 元



20 元

(1)聪聪要买一个乒乓球和一个乒乓球拍,要付____元____角钱。

(2)妈妈要买一个钱包和一条裙子,要付____元钱。

(3)如果妈妈只有 100 元钱,想买两件衣服,她可以怎样买?(写出你的想法并计算出花多少钱)

