

河北省部分市县期末调研真题精选

（七）邢台市柏乡县调研试题

题号	一	二	三	四	五	总分
得分						

kàn shuí suàn de yòu duì yòu kuài

一、看谁算得又对又快。（18+8=26分）

1. 直接写出得数：

$11-3=$ $5+6=$ $8+8=$ $21+9=$ $35-20=$

$12-5=$ $18-9=$ $4+20=$ $66-6=$ $70+30=$

$26+7=$ $37-30=$ $10+58=$ $81-8=$ $16+40=$

$75-50+5=$ $31+5+6=$ $45-5-10=$

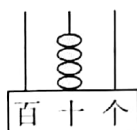
2. 用竖式计算。（8分）

$45+36=$ $76-58=$ $13+42=$ $57-36=$

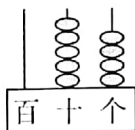
wǒ shì tián kòng de xiǎo háng jiā

二、我是填空的小行家。（每空1分，计34分）

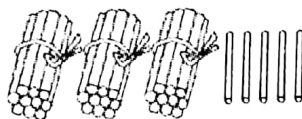
1. 看图写数。



()



()



()个十和()个一合起来是()



2. 3 元 = () 角

60 角 = () 元

45 角 = () 元 () 角

1 元 8 角 = () 角

3. 49 添上 1 是 () 个十。5 个一和 3 个十合起来是 ()。

4. 和 59 相邻的两个数是 () 和 ()。

5. 最小的两位数比最大的两位数少 ()。

6. 90 比 () 大 3, 比 () 小 3。

7. 在 ○ 里填上 “<”、“>” 或 “=”。

98 ○ 89

100 ○ 93 + 6

35 - 4 ○ 35 + 4

21 角 ○ 2 元

1 元 ○ 8 角 + 2 角

8. 按规律接着画、接着写。

(1)

	90		70	
--	----	--	----	--

48		50	51	
----	--	----	----	--

(2) ○ ○ ▲ ○ ○ ▲ ○ ○ ▲ _____

(3) 我是小小设计师。(涂出有规律的颜色)(2 分)

◎ ◎ ◎ ◎ ◎ ◎ ◎ ◎ ◎ ◎ ◎ ◎ ◎ ◎ ◎ ◎

9.

50 元

2 元

1 元

() 元

5 元

5 角

5 角

2 角

() 元 () 角

cāi cāi kàn zài nǐ rèn wéi hé shì de dá àn xià miàn huà gè

三、猜 猜 看，在 你 认 为 合 适 的 答 案 下 面 画 个 “√”。(4 分)



我 比 38 多 一 些

42	37	78



我 比 72 少 得 多

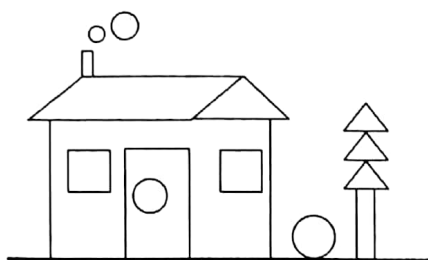
80	50	70



zǐ xì guān chá rèn zhēn tián xiě

四、仔细观察，认真填写。(5+6+4=15分)

1. 认识图形。



□ () 个; ▱ () 个;

— () 个;

○ () 个; △ () 个;

2. 说出右图物体的位置。

(1) 小兔在足球的_____面;

(2) 熊猫在花瓶的_____面;

(3) 苹果在香蕉的_____面;

(4) 足球在_____的_____面;

(5) 汽车的左边是_____。



3. 看钟表,写时间。



大约 () 时

(:)

大约 () 时

(:) 时

shēng huó zhōng de shù xué

五、生活中的数学。(4+4+13=21分)


1. 树上 飞走了 25 只, 还剩下 16 只, 树上原来有多少只?

$$\square \bigcirc \square = \square ()$$



由 扫描全能王 扫描创建

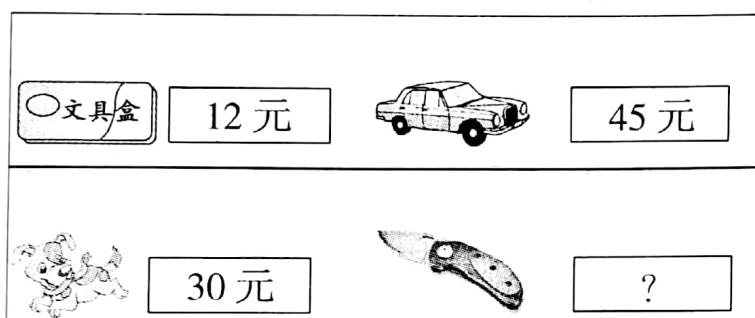
2.



小猫再钓多少条鱼就和老猫一样多?

$$\square \bigcirc \square = \square \quad (\quad)$$

3.



(1) 比 便宜多少钱?

$$\square \bigcirc \square = \square \quad (\quad)$$

(2) 买一个 和一只 共要多少钱?

$$\square \bigcirc \square = \square \quad (\quad)$$

(3) 比 贵 10 元, 多少钱?

$$\square \bigcirc \square = \square \quad (\quad)$$

(4) 小兰买一个文具盒和一个玩具汽车,付 50 元够吗?

$$\square \bigcirc \square = \square \quad (\quad)$$

时

封

线

