

河北省部分市县期末调研真题精选

(十) 秦皇岛市调研试题

题号	一	二	三	四	五	总分
得分						

suàn yì suàn

一、算 一 算。(20+8=28 分)

1. 口算:

$$50+20= \quad 49-30= \quad 37+13= \quad 43-9= \quad 79-(\quad)=70$$

$$67-17= \quad 13+5= \quad 18+3= \quad 45-7= \quad (\quad)+9=13$$

$$52+17= \quad 70-20= \quad 55-9= \quad 30+70= \quad 40+(\quad)=46$$

$$96-6= \quad 50+38= \quad 54-40= \quad 38-8= \quad (\quad)-5=30$$

2. 用竖式计算:

$$29+7=$$

$$31-5=$$

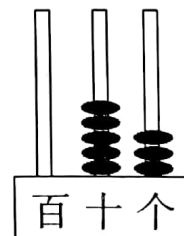
$$37+45=$$

$$65-18=$$

wǒ shì tián kòng xiǎo háng jiā

二、我是填空小行家。(每空1分,共29分)

1. 右图计数器上的数写作(),读作()。5在()位上,表示()个()。和这个数相邻的两个数()和()。



2. 9个十和5个一组成的数是(),它比100少()个一。



3. 20 比 37 少(), 比 20 多 9 的数是(), 比 37 小 1 的数是()。

4. 在○里填上“>”“<”或“=”。

$43+8 \bigcirc 39+6$

$1 \text{ 角} \bigcirc 9 \text{ 分}$

$2+10 \bigcirc 28+10$

$4 \text{ 角 } 8 \text{ 分} \bigcirc 50 \text{ 分}$

$56 \bigcirc 46+5$

$28-8-3 \bigcirc 15-6+9$

5. 小明和姐姐写毛笔字。小明写了 20 个, 姐姐比他多写了 19 个, 姐姐写了()个字。

6. 2 元 7 角=()角

6 角+8 角=()角=()元()角

7. 按规律填一填。

(1) 97、87、77、()、()、()。

(2) $\triangle \square \square \star \triangle \square \square \star \triangle$ ()、()、()。

zài nǐ rèn wéi hé shì de dá àn xià miàn huà

三、在你认为合适的答案下面画“√”。(4 分)



我收了 20 节废电池。

小红



我收的比小红多得多。

小林



我收的比小红少一些。

小丽

(1) 小林收了多少节?

16 节	38 节	22 节

(2) 小丽收了多少节?

16 节	38 节	22 节





kāi dòng nǎo jīn zǐ xì guān chá

四、开 动 脑 筋，仔 细 观 察。(6+5+8=19 分)

1.



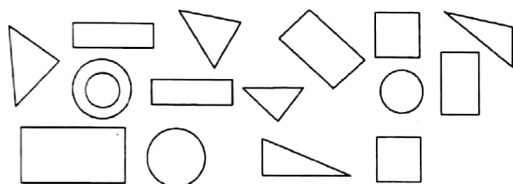
(1)一共有()只动物,从右数小狗排第()。

(2)从左数,  排第()。从右数,  排第()。

(3)从左数,给第 5 只小动物涂上颜色。

(4)请把右边的 5 只小动物圈起来。

2. 你能把下面这些图形统计出来吗?



一共	△	○
() 个	() 个	() 个
	□	▭
	() 个	() 个

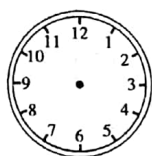
3. 写出、画出下面的时间



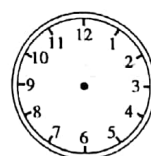
大约 () 时



()



5时



8时刚过

shēng huó zhōng de shù xué

五、生 活 中 的 数 学。(4+3+6+7=20 分)

1.




20棵



19棵

?棵



35朵



?朵

$$\square \bigcirc \square = \square (\text{棵})$$

$$\square \bigcirc \square = \square (\text{朵})$$



2.

我今年65岁



我今年7岁



奶奶比小明大多少岁?

$$\square \bigcirc \square = \square (\text{岁})$$

3.

我们班有26个男生。



有19个女生。



(1) 我们班一共有多少个学生? $\square \bigcirc \square = \square (\text{个})$

(2) 我们班的女生比男生少几人? $\square \bigcirc \square = \square (\text{人})$


4. 买玩具。



42元



25元



28元



30元

(1) 小明买一辆  比一辆  贵多少元?

$$\square \bigcirc \square = \square (\text{元})$$

(2) 小丽拿 50 元去买  和 , 够吗?

(3) 请你提出一个数学问题, 并解答。

