

河北省部分市县期末调研真题精选

（五）保定市涿州市调研试题

题号	一	二	三	四	五	六	总分
得分							

suàn yì suàn

一、算 一 算。（23 分）

1. 直接写出得数。（15 分）

$$\begin{array}{ccccc}
 9+8= & 13-6= & 18-8= & 55+30= & 43+7= \\
 80-8= & 45+20= & 46+9= & 86-16= & 31-20= \\
 6+57= & 19+40= & 12-6= & 0+65= & 16+14=
 \end{array}$$

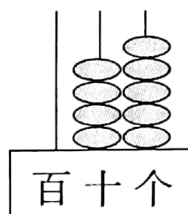
2. 竖式计算。（8 分）

$$36+28= \quad 52+18= \quad 100-25= \quad 64-27=$$

tián yì tián

二、填 一 填。（第 2 小题 4 分，其它小题每空 1 分，共 24 分。）

1.



图中计数器个位上是(),十位上是(),
写作(),读作()。

2. 10 分=()角 3 元+5 元 5 角=()元()角

1 元=()角 10 元-2 元=()元

3. 8 个十和 9 个一合起来是(),和这个数相邻的两个数是()和()。



4. 在下面的○里填上“>”、“<”或“=”。

$36 \bigcirc 63$

$37 \bigcirc 96 - 50$

$10 \text{ 个十} \bigcirc 100 \text{ 个一}$

$19 + 12 \bigcirc 32$

$76 - 50 \bigcirc 16$

$30 + 40 \bigcirc 70 - 10$

5. 45 比 63 少(), 80 比 27 多()。

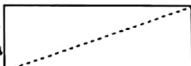
6. 一个加数是 25, 另一个加数是 48, 和是()。被减数是 63, 减数是 16, 差是()。

7. 一张 100 元人民币可以换()张 50 元, 也可以换()张 10 元。

8. 写出大于 65 小于 71 的数()。

xuǎn yì xuǎn bǎ zhèng què dá àn de xù hào tián zài kuò hào lǐ

三、选一选, 把正确答案的序号填在括号里。(每题 1 分, 共 4 分)

1. 把  这样折成的两部分()。

A. 一样大

B. 不一样大

C. 无法比较

2. 有红花 45 朵, 黄花比红花少一些, 黄花可能有()朵。

A. 70 朵

B. 40 朵

C. 50 朵

3. 小红前面有 4 个人, 后面有 6 个人, 这一行共有()人。

A. 9

B. 10

C. 11

4. 44 与()的和是 50 多。

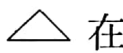






A. 6

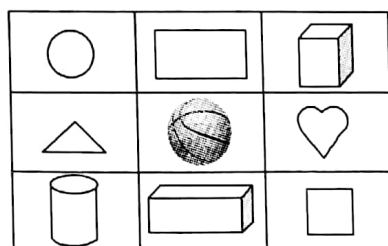
B. 比 6 小的数

C. 比 6 大的数


zuò yì zuò

四、做一做。(4+3+4+5+2=18 分)

1.  在  的()面;
 在  的()面;
 在  的()面;
 () 在  的上面。




2. 在方格纸上画一个长方形、正方形和三角形。



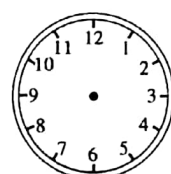
3. 写出、画出下面的时间。



快()时了 (:)



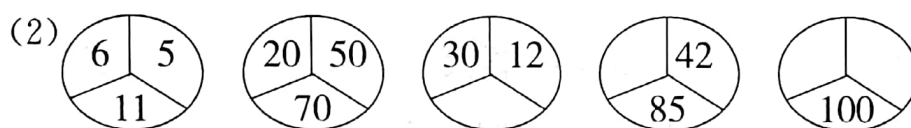
2时




刚过7时

4. 找规律,填上合适的数。

(1) 8、12、16、20、()、()。



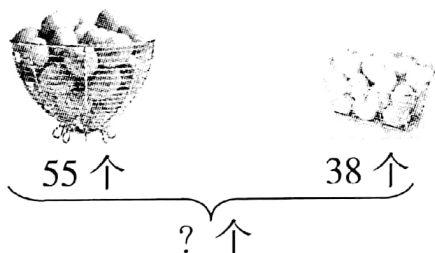
5. 按自己确定的规律涂上颜色。



kàn tú liè shì jì suàn

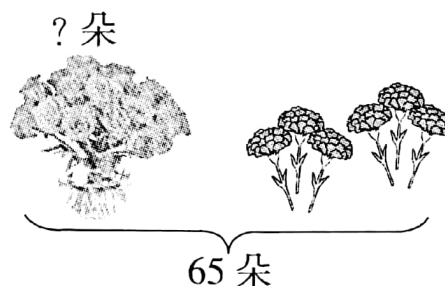
五、看图列式计算。(每题3分,共6分)

1.



$$\square \bigcirc \square = \square (\text{个})$$

2.



$$\square \bigcirc \square = \square (\text{朵})$$



jiě jué wèn tí

六、解决问题。(4+4+4+13=25分)

1. 我今年7岁,奶奶今年61岁。奶奶比我大多少岁?



$$\square \bigcirc \square = \square \text{ (岁)}$$

2. 小明看一本故事书,已经看了25页,还剩58页。这本书一共有多少页?

$$\square \bigcirc \square = \square \text{ (页)}$$

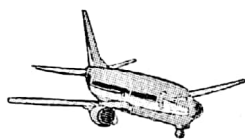
3. 二(1)班有男生34人,女生29人。二(1)班一共有学生多少人?

$$\square \bigcirc \square = \square \text{ (人)}$$

4.  去商店买玩具。



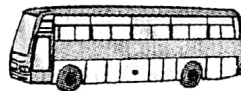
49元



36元



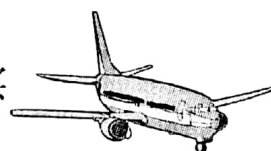

28元



60元

- (1) 买一辆  比一辆  便宜多少钱?

$$\square \bigcirc \square = \square \text{ (元)}$$

- (2) 小东拿50元去买  和 , 够吗?

- (3) 请你提出一个数学问题,并解答。

