

河北省部分市县期末调研真题精选

（一）张家口市蔚县调研试题

题号	一	二	三	四	五	六	总分
得分							

tián yì tián

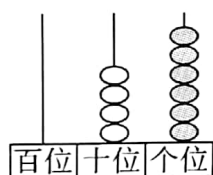
一、填 一 填。（19 分）

1. 59 里面有（ ）个一和（ ）个十。

2. 1 张  可以换（ ）张 , 或（ ）张 .

3. 两个数的和是 52, 一个加数是 13, 另一个加数是（ ）。

4. 计数器表示的数是（ ），再添上（ ）就和 70 一样多。



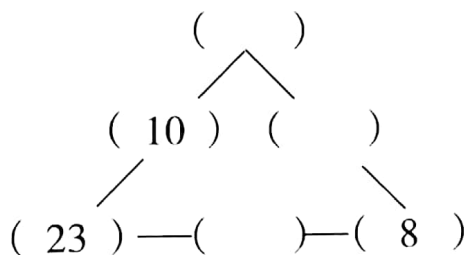
5. 写出右边钟表上的时间。（ ） （ ） （ ）

6. 57 比（ ）多 15,（ ）比 63 少 27。

7. 用 4、5、9 中的两个数字组成最大的两位数是（ ），最小的两位数是（ ）。


8. 摆 2 个三角形最少需要（ ）根相同的小棒, 摆 3 个三角形最少需要（ ）根相同的小棒。

9. 在（ ）里填上合适的数, 使每条边上的三个数相加都等于 45。



pàn yì pàn zhèng què de dǎ cuò wù de dǎ

二、判一判。正确的打“√”，错误的打“×”。(5分)

1. 和49相邻的两个数是50,51。 ()
2. 从左起第一位是个位,第二位是十位,第三位是百位。 ()
3.  这是一个圆柱。 ()
4. 35和20的差是15。 ()
5. 81、83、85、87、89、91这一组数字是有规律的。 ()

xuǎn yì xuǎn


jiāng zhèng què dá àn qián de zì mǔ tián jìn kuò hào

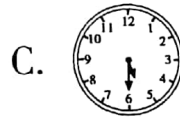
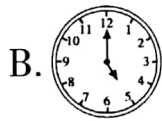
三、选一选。(将正确答案前的字母填进括号

lǐ

里)(5分)

1. 2元5角和()角同样多。
A. 25 B. 52 C. 205
2. 五个五个地数,20后面的数是()。
A. 15 B. 21 C. 25
3. 一年级1班有女生25人,男生比女生多一些,男生可能有()。
A. 25人 B. 30人 C. 55人

4. 观察右边四个钟表找规律, 接下来应该是 ()。



5. 有100本漫画书,先分给一班45本,再分给二班36本。一共分走了多少本?正确的算式是()。

A. $100 - 45 - 36$ B. $100 - 36 + 45$ C. $45 + 36$

rèn zhēn shěn tí shú liàn jì suàn

四、认真审题,熟练计算。(31分)

1. 口算。(6分)

$35 + 8 =$

$16 - 9 =$

$69 + 2 =$

$63 - 30 =$



yùn yòng zhī shì jiě jué wèn tí

六、运用知识，解决问题。(共28分，第5题12分，其余每题4分)

1.



? 棵

42棵

$$\square \bigcirc \square = \square (\text{棵})$$

2.



? 根

$$\square \bigcirc \square = \square (\text{根})$$

3. 育才幼儿园发给小朋友 27 块饼干后，还剩 23 块，原来有多少块饼干？

$$\square \bigcirc \square = \square (\text{块})$$

4. 妈妈今年 34 岁，明明今年 7 岁，5 年后妈妈比明明大多少岁？

$$\square \bigcirc \square = \square (\text{岁})$$

5.



8元



22元



41元



13元

(1)



买一支笔和一本字典，应付多少钱？

$$\square \bigcirc \square = \square ()$$



买一本字典比买一架小飞机少花多少钱？

(2)



买一本字典比买一架小飞机少花多少钱？

$$\square \bigcirc \square = \square ()$$

(3) 在上图中圈一圈。



只有60元啊！

要买三件不同的呀！

