



期末巩固提高卷 (二)

时间: 60分钟 分值: 100分

题号	一	二	三	四	总分
得分					

tián yì tián

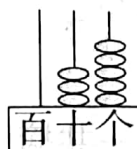
一、填一填。(27分)

1. 数一数, 认一认。





() 个十和 ()

个一是 ()



写作 ()

读作 ()

2. 亮亮买了一个 12 元的 , 他付给售货员阿姨一张 , 应该找回 () 元。售货员阿姨可以这样找钱:

(1) 可以是 () 张  和 () 张 .

(2) 也可以是 () 张 .

3. 46 到 52 之间的数有 ()。

大于 78 小于 83 的数有 ()。

4. 在 □ 里填上合适的数字。

$$\begin{array}{r} 45 \\ + \square\square \\ \hline 60 \end{array}$$

$$\begin{array}{r} 6\square \\ - \square 6 \\ \hline 36 \end{array}$$

$$\begin{array}{r} 4\square \\ + \square 5 \\ \hline 93 \end{array}$$

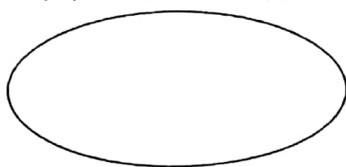


5. 在○里填“>”“<”或“=”。

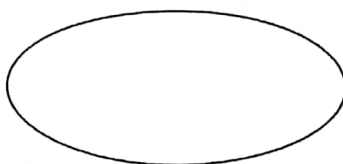
$$56-20 \bigcirc 40 \quad 64 \bigcirc 40+24 \quad 73+7 \bigcirc 70 \quad 88-9 \bigcirc 85$$

6. 把 88、49、56、82、37、80、28 填在下面的圈里。

十位上是 8 的数



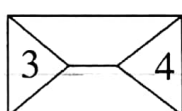
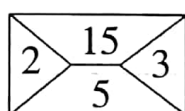
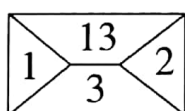
小于 50 的数



7. 红红家养了 98 只鸡、45 只鸭、36 只鹅。请你用“多一些、少一些、多得多、少得多”填空。

鸡的只数比鹅的只数(), 鹅的只数比鸭的只数()。

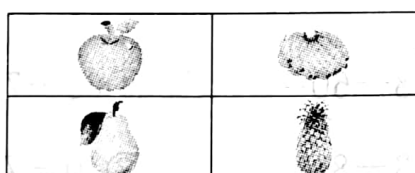
8. 按规律填数。



zuò yì zuò

二、做一做。(20 分)


1. 位置。




苹果在梨的()面, 桃子在苹果的()面;

菠萝在桃子的()面, 梨在菠萝的()面。

2. 在方格图上画出长方形、正方形、三角形。



3. 看时间,连一连。



6:00

快 3 时了

9:30

4:30

4. 找规律,画出下一组。

(1) ○○○△○○○△_____

(2) □□△△□□△△_____

(3) □△○○□△○○_____

suàn yì suàn

三、算 一 算。(24 分)

1. 用自己喜欢的方法计算。

① $50 - 20 =$

② $25 + 5 =$

③ $78 - 60 =$

④ $62 + 7 =$

⑤ $36 + 9 =$

⑥ $42 + 20 =$

⑦ $33 - 8 =$

⑧ $40 - 7 =$

⑨ $69 - 5 =$

⑩ $28 + 60 =$

⑪ $47 + 8 =$

⑫ $65 - 60 =$

2. 列竖式计算。

① $46 - 28$

② $53 + 27$

③ $18 + 74$

④ $82 - 66$



四、生活中的数学。(29分)

1. 我吃了 56 只害虫。



我吃了 30 只害虫。



小青蛙再吃多少只害虫就和大青蛙一样多?

$$\square \bigcirc \square = \square$$

2.

我摘了 34 个桃。

我摘了 28 个。



(1) 小猴和猴爸爸一共摘了多少个桃子?

$$\square \bigcirc \square = \square$$

(2) 小猴比猴爸爸少摘了多少个桃子?


$$\square \bigcirc \square = \square$$

3. 租车方案。


学校有 76 名同学和 6 名老师去春游。



40 座



45 座



10 座

(1) 一共有多少人去春游?

$$\square \bigcirc \square = \square$$

(2) 可以怎样租车? 请你设计两个方案。

方案一:

方案二:

