



期末巩固提高卷 (三)

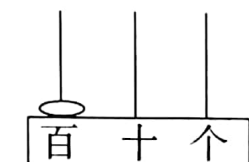
时间: 60分钟 分值: 100分

题号	一	二	三	四	五	总分
得分						

tián yì tián

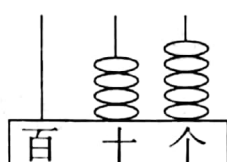
一、填一填。(34分)

1. 看图写数读数。



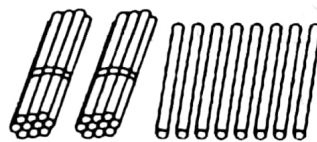
写作 ()

读作 ()



写作 ()

读作 ()



写作 ()

读作 ()

2. 7个十和5个一组成的数是(); 个位上是8, 十位上是6的数是(), 它里面有()个十和()个一。

3. 与79相邻的两个数是()和()。

4. 在○里填上“>”、“<”或“=”。

$$48 + 4 \bigcirc 50$$

$$56 - 20 \bigcirc 40$$

$$23 + 8 \bigcirc 8 + 23$$

$$30 + 59 \bigcirc 98$$

$$1 \text{ 元 } 5 \text{ 角 } \bigcirc 15 \text{ 角}$$

$$1.00 \text{ 元 } \bigcirc 0.90 \text{ 元}$$

5. 写出商品的价格并完成填空。



4.20 元
() 元 () 角



0.80 元
() 角

买一个文具盒和一个练习本一共花()。



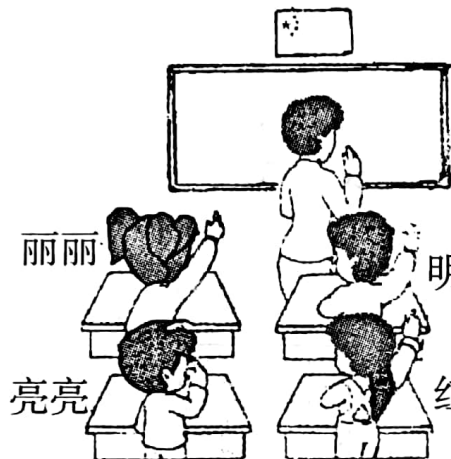
6. 按规律填一填,画一画。

(1) 15, 30, (), 60, (), 90

(2) $\triangle \bigcirc \square \bigcirc \triangle \bigcirc \square \bigcirc \triangle \bigcirc$ () () () $\bigcirc \square \bigcirc \triangle \bigcirc$
.....

7. 一张 50 元的钱可以换()张 20 元和()张 10 元的钱。

8. 看图填空。



(1) 国旗在黑板的()面;

(2) 老师在同学们的()面;

明明的()面是红红。

(3) 亮亮的()面是红红;

丽丽在明明的()面。

àn yāo qiú wán chéng xià miàn gè tí

二、按要求完成下面各题。(22 分)

1. 连线。(10 分)



快 6 时了

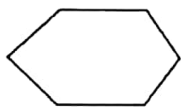
6 时刚过

9 时 30 分

9 时

4 时刚过

2. 选一选。(8 分)



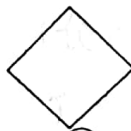
①



②




③




④



⑤




⑥



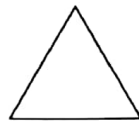
⑦



⑧



⑨



⑩

_____是长方形, _____是正方形, _____是三角形, _____是圆。



3. 猜一猜。(4分)



小明

我家养鸡
35只。



小丽

我家比小明
家少一些。




小红

我家比小明
家多得多。

小丽家养鸡多少只？(画“√”) 小红家养鸡多少只？(画“○”)

5 只	10 只	29 只	40 只	37 只	75 只

zài xià miàn de fāng gé tú shàng huà yí gè cháng fāng xíng yí gè zhèng
三、在下面的方格图上画一个长方形、一个正
fāng xíng hé yí gè sān jiǎo xíng
方形和一个三角形。(6分)



四、计算题。(20分)

1. 看谁算得又对又快。(12分)

$6+8=$

$15-7=$

$40+50=$

$35-6=$

$56+9=$

$78-40=$

$3+57=$

$15+25=$

$70-7=$

$68-8=$

$50+24=$

$55-8=$

2. 用竖式计算。(8分)

$48+27=$

$64+26=$

$57-29=$

$92-18=$



五、生活中的数学。(18分)

1.

一本书我已经看了 54 页，
还剩 18 页没看。




这本书一共有多少页？



$$\square \bigcirc \square = \square \text{ (页)}$$

2.



(1) 买一架玩具飞机和一个玩具娃娃一共要花多少钱？

$$\square \bigcirc \square = \square \text{ (元)}$$

(2) 一个篮球比一把玩具手枪贵多少元？

$$\square \bigcirc \square = \square \text{ (元)}$$

(3) 小明有 80 元钱，想买一架玩具飞机和一辆玩具汽车，钱够吗？（用计算说明）

3. 看图提出两个不同的问题，并列式计算。

我拍了 43 下。

我拍了 20 下。

我拍了 28 下。



小军



小兰



小云

(1) 问题：_____ $\square \bigcirc \square = \square$ (下)

(2) 问题：_____ $\square \bigcirc \square = \square$ (下)

