



# 期末巩固提高卷(四)

时间: 60分钟 分值: 100分

题号	一	二	三	四	五	总分
得分						

wǒ huì tián kòng

## 一、我会填空。(27分)



(1)从左数第五个图形是( ),从右数第4个图形是( )。

(2)数一数有( )个长方形,有( )个三角形。

2.



9.50 元



38.00 元

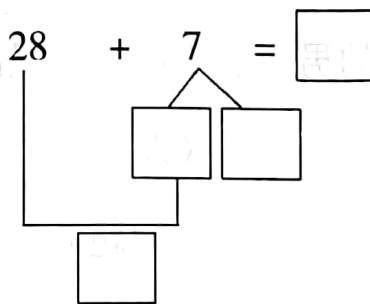
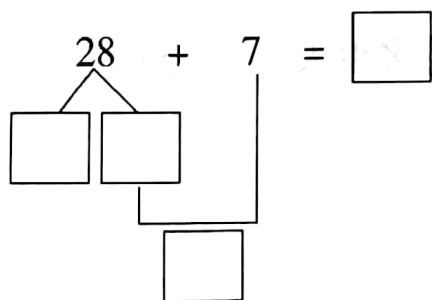
钢笔的价钱是( )元( )角,书包的价钱是( )元。

3. 一个数由6个十、9个一组成,这个数写作( ),和这个数相邻的两个数是( )和( )。

4. 100 里面有( )个十。





5. 按从小到大的顺序写出四个比30大又比90小的数( )、( )、( )、( )。

6. 在口算  $28+7$  时,小亮会用两种方法思考,请你帮他填完整。(4分)



7. 用 可以拼成一个( )形。



8. 要买的東西	 铅笔盒	 尺子	 自动笔	 橡皮
单价	3 元 6 角	1 元 3 角	2 元	1 元

拿 5 元钱,买一个铅笔盒和一块橡皮,一共花了( )钱,还剩( )钱;一支自动笔比一把尺子贵( )钱。

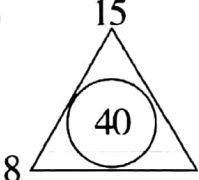
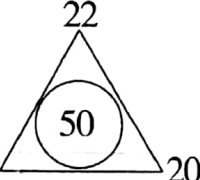
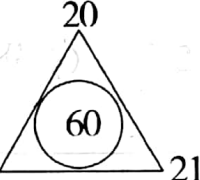
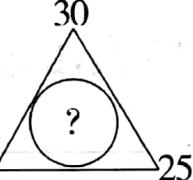
wǒ huì zǐ xì guān chá

## 二、我会仔细观察。(16 分)

1. 找规律,画一画,填一填。(6 分)


(1)  \_\_\_\_\_

(2)

			
-----------------------------------------------------------------------------------	-----------------------------------------------------------------------------------	------------------------------------------------------------------------------------	-------------------------------------------------------------------------------------

2. 把对应的时间和做的事连起来。(10 分)

上学      上第一节课      吃午饭      放学      睡觉




快 9 时了      7 时半      大约 12 时      8 时      4 时 30 分

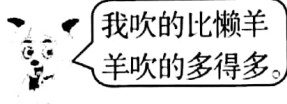
wǒ huì cāi yī cāi

## 三、我会猜一猜。(10 分)

1. 在吹气球比赛中,他们各吹了多少个?(在合适的答案下面写上他们的序号)(6 分)



①美羊羊



②喜羊羊

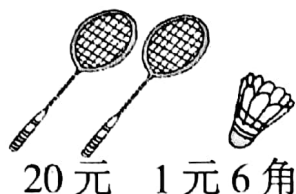


③懒羊羊




20 个	57 个	65 个

2.



亮亮有 2 张 , 4 张 , 1 张 , 3 张 , 还

有 7 枚  的硬币。亮亮要买一副羽毛球拍和 1 个羽毛球,他可以

怎样付钱,试着写 2 种。(4 分)

(1) \_\_\_\_\_

(2) \_\_\_\_\_

wǒ huì jì suàn

#### 四、我会计算。(24 分)

1. 口算。(8 分)

$35+4=$

$40+53=$

$68-3=$

$75-60=$

$70+20=$

$90-50=$

$34-9=$

$56+8=$

2. 用竖式计算。(12 分)

$34+60=$

$27+55=$

$50-27=$

$91-32=$

3. 在□里填上合适的数。(4 分)

$$\begin{array}{r} 3 \square \\ + \square 0 \\ \hline 75 \end{array}$$

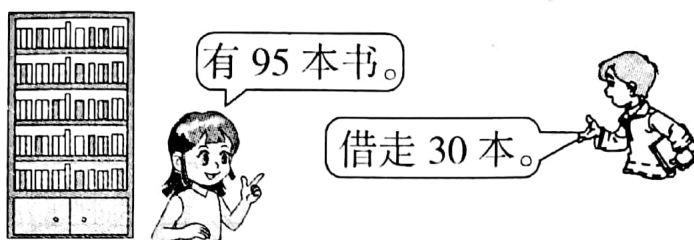
$$\begin{array}{r} \square 0 \\ - 1 \square \\ \hline 28 \end{array}$$



wǒ huì jiě jué wèn tí

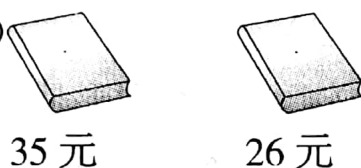
## 五、我会解决问题。(30分)

1. 还剩多少本书?(6分)



$$\square \bigcirc \square = \square (\text{本})$$

2. (8分)



(1) 小红买了两本书一共花了多少钱?(4分)

$$\square \bigcirc \square = \square (\text{元})$$

(2) 付给收银员 100 元钱,应找回多少钱?(4分)

$$\square \bigcirc \square = \square (\text{元})$$

3. 课外活动。(15分)



(1) 跳绳的和打乒乓球的一共有多少人?(5分)

$$\square \bigcirc \square = \square (\text{人})$$

(2) 踢毽子的男生有 18 人,跳绳的女生有多少人?(5分)

$$\square \bigcirc \square = \square (\text{人})$$

(3) 请你自己提出一个问题并解答。(5分)

