



期末巩固提高卷(一)

时间: 60分钟 分值: 100分

题号	一	二	三	四	五	六	总分
得分							

suàn yì suàn

一、算一算。(20+8=28分)

1. 口算:

$$\begin{array}{rrrrr}
 16-7= & 28+16= & 37-8= & 29+8= & 60-40= \\
 78-25= & 45+5= & 50-50= & 11+19= & 17-8= \\
 50-7= & 25+3= & 74-9= & 18+30= & 26-3= \\
 45-15= & 26+70= & 68-50= & 87+8= & 9+60=
 \end{array}$$

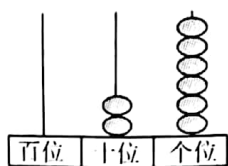
2. 用竖式计算:

$$64+25= \quad 17+27= \quad 79-56= \quad 92-37=$$

tián yì tián

二、填一填。(每空1分,共28分)

1. 看图写数。



()



()



()

百位	十位	个位
	○○	△△
	○○	△



2. 9个十和8个一合起来是()。

3. 19里面有()个十和()个一,2个十是()。

4. 90前面的一个数是(),后面的一个数()。

5. 30比()大1,比()小1。

6. 3元=()角

60角=()元

45角=()元()角

1元8角=()角

7. 按规律接着画、接着写。

(1)▲○○▲○○▲○○▲_____

(2)11、22、33、____、55、____、____

8. 在○里填上“>”、“<”或“=”。

58 ○ 85

98 ○ 10个十

21角 ○ 2元


37+20 ○ 42

69-9 ○ 53+4

1元 ○ 8角+2角

wǒ huì zhǎo

三、我会找。(共5分)



1. 南瓜的左面是(),请在桃子的上面画()。

2. 葡萄的下面是(),右面是()。

3. 请在菠萝的左面画上你喜欢的一种水果。



lián yi lián

四、连一连。(8分)



快4时了


5时刚过

12时

10时半

fēn yi fēn

五、分一分。(8分)



○有()个;

□有()个;

△有()个;

□有()个。

jiě jué wèn tí

六、解决问题。(3+9+11=23分)

1.



校园里有73盆花，已经浇了一些，还剩50盆没浇。

已经浇了多少盆花?

$$\square \bigcirc \square = \square$$



2.

(1) 小明和小华一共拍了多少下?

$$\square \bigcirc \square = \square$$



小明 47 下 小红 35 下 小华 53 下

(2) 小红比小华少拍了多少下?

$$\square \bigcirc \square = \square$$

(3) 小明再拍多少下就和小华

同样多了?

$$\square \bigcirc \square = \square$$

3. 小小玩具店:



35 元



30 元



23 元



48 元

(1) 妈妈买一只小乌龟和一条小鱼, 应付多少元?

$$\square \bigcirc \square = \square (\text{元})$$

(2) 买一只小老虎和买一只小绵羊应付多少元?

$$\square \bigcirc \square = \square (\text{元})$$

(3) 买一条小鱼比买一只小老虎便宜()元。

$$\square \bigcirc \square = \square (\text{元})$$

(4) 妈妈有 30 元, 要买一只小绵羊, 还差()元。

$$\square \bigcirc \square = \square (\text{元})$$

(5) 妈妈买一只乌龟和一条小鱼, 50 元够吗?

