



期末全程检测卷（二）

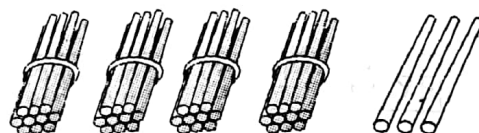
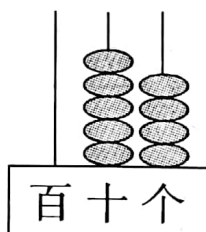
时间：60分钟 满分：100分

题号	一	二	三	四	总分
得分					

wǒ huì tián

一、我会填。（32分）

1.



这个数是()， ()个十和()个

读作()。 一合起来是()。

2. 1元 = ()角 = ()分 9角 = ()分

1元 - 3角 = ()角 2元2角 + 3角 = ()元()角

3. 按要求写数。

(1) 58 和 60 中间的数是()。

(2) 写出个位上是 8 的两位数 3 个()。

4.

加数	加数	和
65	19	
28	62	

被减数	减数	差
73	36	
48	29	



5. 在下面的○里填上“>”、“<”或“=”。

$68 \bigcirc 86$

$65 \bigcirc 38 + 18$

$28 + 37 \bigcirc 64 - 18$

$45 + 18 \bigcirc 53$

$80 - 19 \bigcirc 79$


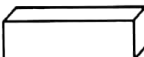
$1 \text{ 元} + 6 \text{ 角} \bigcirc 1 \text{ 元} 6 \text{ 角}$


6. 小红拿 50 元钱买了一本书,书的价钱是 9 元,应找回()元。

7. (1) 找规律填数 2、4、6、8、()；

(2) 按自己确定的规律涂色。○○○○○○○○○○



从左边数○是第()个图形,  在  的()面,

 的右面有()个图形,左面有()图形。

9. 估一估在合适的答案下面画“√”。

李叔叔养了 40 匹马,养的牛比马多一些,养牛

41 头	48 头	96 头
<input type="checkbox"/>	<input type="checkbox"/>	<input type="checkbox"/>

养的羊比马少得多,养羊

12 只	38 只	80 只
<input type="checkbox"/>	<input type="checkbox"/>	<input type="checkbox"/>

wǒ huì suàn

二、我会算。(26 分)

1. 用自己喜欢的方法计算。(10 分)

$17 + 18 = \quad 25 + 19 = \quad 13 + 29 = \quad 71 - 52 = \quad 63 + 28 =$



$$20 + 80 = \quad 33 + 50 = \quad 50 - 29 = \quad 80 - 40 = \quad 25 + 26 =$$

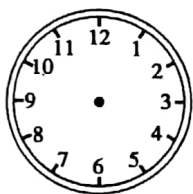
2. 列竖式计算。(16分)

$$25 + 19 = \quad 28 + 49 = \quad 34 - 27 = \quad 94 - 56 =$$

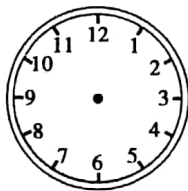
lián yì lián huà yí huà

三、连一连，画一画。(12分)

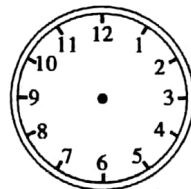
1. 我会画。(根据给出的时间画出时针和分针)(6分)



5时30分




8时



快9时了

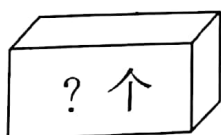
2. 在方格图上画一个长方形、一个正方形和一个三角形。(6分)



jiě jué wèn tí

四、解决问题。(30分)

1.



一共有 26 个苹果,箱子里有几个?

$$\square \bigcirc \square = \square (\text{个})$$

2. 公共汽车上有 42 人,到医院门口时下去 16 人,现在车上有多少人?

$$\square \bigcirc \square = \square (\text{人})$$

3. 还要做多少朵?

我们一共要做 52 朵红花,

已经做了 16 朵。

$$\square \bigcirc \square = \square (\text{朵})$$



4. 同学们去春游,一班去了 52 人,二班去了 38 人,三班去了 39 人。

(先提问题,再列式计算)。

(1) _____

$$\square \bigcirc \square = \square (\text{人})$$

(2) _____

$$\square \bigcirc \square = \square (\text{人})$$

