



期末全程检测卷（一）

时间：60分钟 满分：100分

题号	一	二	三	四	五	总分
得分						

rèn rèn zhēn zhēn suàn yì suàn

一、认认真真算一算。（18分）

1. 口算。（6分）

$$\begin{array}{llll}
 42 - 16 = & 4 + 60 = & 16 - 7 = & 15 - 7 = \\
 45 - 20 = & 20 + 60 = & 70 - 50 = & 38 - 18 = \\
 36 + 38 = & 38 - 19 = & 28 + 24 = & 45 + 17 =
 \end{array}$$

2. 用竖式计算,并将得数表示在计数器上。（12分）

$$77 - 29 = \quad 32 + 18 = \quad 68 + 16 = \quad 80 - 28 =$$

百位	十位	个位	百位	十位	个位	百位	十位	个位	百位	十位	个位

gāo gāo xìng xìng tián yì tián

二、高高兴兴填一填。（32分）

1. 在○里填上“>”“<”或“=”。

$$27 + 16 \bigcirc 39 - 15 \quad 49 + 14 \bigcirc 49 - 14 \quad 33 - 19 \bigcirc 15 + 16$$

$$4 \text{ 元 } 5 \text{ 角 } \bigcirc 40 \text{ 角 } \quad 63 + 18 \bigcirc 70 \quad 6.60 \text{ 元 } \bigcirc 6 \text{ 元 } 6 \text{ 角}$$




2. 在方格里填上合适的数。



	69		71
--	----	--	----

10	30			90
----	----	--	--	----

80		70	65	
----	--	----	----	--

3. 



买一把  和一枝 

0.80 元

2.50 元

共应付()元()

()角 ()元()角 角



4.        从左往右数,  排在第()位, 请把后边的三只小动物圈起来。



5. 明明的前面有 10 人, 后面有 15 人, 这一队共有()人。

6. 从 42、25、17、8 四个数中选三个数写出两个加法算式和两个减法算式。

() ()

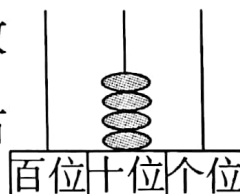
() ()


7. 一张  能换()张  , 也可换()张

 , 也可换()张  。

8. 个位数字与十位数字相同的两位数有()个, 它们分别是()。


9. 丫丫写的数由 3 个十和 2 个一组成; 聪聪写的数和 60 相邻; 刚刚在计数器上拨了一个数(如右图), 这三个数中, ()表示的数最大。




10. 用两个  纸片, 可以拼成一个()形或一个()形。

zhǎo péng yǒu


三、找朋友。(8分)




7时



7时30分



11时30分



1时

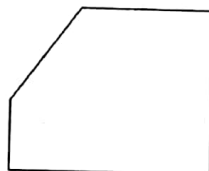
dòng shǒu dòng nǎo zuì kuài lè

四、动手、动脑最快乐。(8分)

1. 按规律涂色。(2分)



2. 用虚线把下面图形分成一个三角形, 一个长方形和一个正方形。(4分)



3. 套圈比赛中, 小华得了 36 分。(2分)



小明

我的得分比小华多得多。

我的得分比小华多一些。



小红

小明可能得了多少分? (画“○”) 小红可能得了多少分? (画“△”)

80	30	40	20



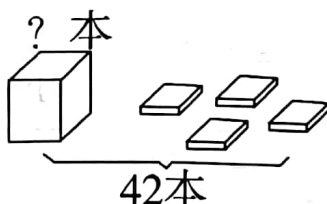
jiě jué wèn tí wǒ zuì bàng

五、解决问题我最棒。(34分)

1. 看图列式。



$$\square \bigcirc \square = \square (\text{根})$$



$$\square \bigcirc \square = \square (\text{本})$$

2.



15元



18元



52元



26元



(1) 一个篮球比一架玩具飞机贵多少元?

$$\square \bigcirc \square = \square (\text{元})$$

(2) 佳佳买了一根跳绳,他付了20元,应找回多少钱?

$$\square \bigcirc \square = \square (\text{元})$$

(3) 你还能提出什么问题,并解答。

3. 红红家有 22 只 , 奶奶卖了 18 只, 这时红红家有  多少只?

$$\square \bigcirc \square = \square (\text{只})$$

4. 小朋友,这两个班能合乘一辆车吗? 请你说说为什么。



二(1)班
有36人



二(2)班有
35人

