



期末调研真题卷(二)

时间: 60分钟 分值: 100分

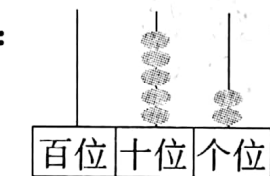
题号	一	二	三	四	总分
得分					

tián yì tián

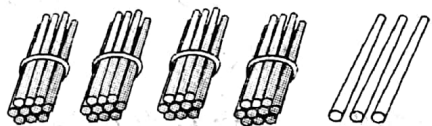
一、填一填。(31分)

- 和 90 相邻的两个数是()和()。
- 十位上是 5, 但比 55 大的两位数是(), ()。个位上是 4, 但比 50 小的两位数是(), ()。
- 82 比 6 大(), 7 比 42 小()。

4. 写数:



写作: ()
读作: ()



() 个十和 () 个一
写作: ()
读作: ()

- 1 张 10 元可以换()张 5 元或()张 1 元。

1 张 20 元可以换()张 10 元或()张 5 元。

6.



从右往左数, 桃子排在第()位, 从左往右数, 桃子排在第()位,

梨的左边有()种水果, 右边有()种水果。



7. 按规律填数。

35、40、()、()、55、()、()


100、()、()、70、()、()

8. 幼儿园买来 32 个苹果和 20 个梨,分给十几个小朋友吃,每人吃了 1 个苹果和 1 个梨,剩下的苹果比梨多()个。

zuò yì zuò

二、做 一 做。(19 分)

1. 想一想,接下来应该是什么? 用“√”在()里画出来。(3 分)



2. 认一认,连一连。(8 分)



12 时



9 时半





4 时



5 时刚过

3. 在下面图形上画一条线,把它们分成两个相同的三角形。(6 分)



4. 在合适的答案下面画“√”。(2 分)

(1) 蜻蜓吃了 28 只蚊子, 青蛙吃的比蜻蜓多得多。

15 只	30 只	45 只

(2) 鹅有 36 只, 鸭比鹅少一些, 鸭有多少只?

15 只	30 只	45 只

suàn yì suàn

三、算 一 算。(20 分)

1. 用自己喜欢的方法计算。(12 分)

① $8+5=$ ② $12-5=$ ③ $20-18=$ ④ $72+14=$

⑤ $90-46=$ ⑥ $48-19=$ ⑦ $48+34=$ ⑧ $56-27=$

⑨ $18+38=$ ⑩ $36-18=$ ⑪ $82-65=$ ⑫ $47+34=$

2. 列竖式计算。(8 分)

① $46+18$ ② $56-19$ ③ $37+26$ ④ $34-27$



四、生活中的数学。(30分)

1. 买书。



46元



18元


(1) 买这两本书一共要用多少元?

$$\square \bigcirc \square = \square (\text{元})$$

(2) 《安徒生童话》比《漫画书》贵多少元?

$$\square \bigcirc \square = \square (\text{元})$$

2. 动物园。



4只



14只



18只



32只



25只



? 只

(1) 老虎和狮子一共有多少只?

$$\square \bigcirc \square = \square (\text{只})$$

(2) 仙鹤比小鹿少 10 只, 仙鹤有多少只?

$$\square \bigcirc \square = \square (\text{只})$$

(3) 猴子比狮子多多少只?

$$\square \bigcirc \square = \square (\text{只})$$

