



期末调研真题卷 (三)

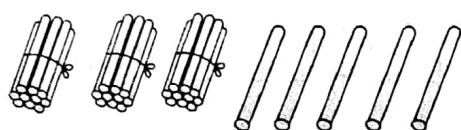
时间: 60分钟 分值: 100分

题号	一	二	三	四	总分
得分					

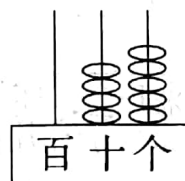
tián yì tián

一、填一填。(共42分)

1.



() 个十和 () 个一
合起来是 ()。



这个数是 (),
读作 ()。

2. 2元 = () 角 10分 = () 角 8角 = () 分

4元 + 4元5角 = () 元 () 角 10元 - 5元 = () 元

3. 100 里面有 () 个十。

4. 在下面的○里填上“>”、“<”或“=”。

$$35 \bigcirc 28 + 8$$

$$57 \bigcirc 86 - 30$$

$$53 - 23 \bigcirc 20 + 10$$

$$13 + 24 \bigcirc 37$$

$$86 - 50 \bigcirc 26$$

$$40 + 50 \bigcirc 90 - 10$$

5. 在□里填上合适的数字。

$$\begin{array}{r} 2 \square \\ + \square 6 \\ \hline 50 \end{array}$$

$$\begin{array}{r} \square 0 \\ - 1 \square \\ \hline 63 \end{array}$$

$$84 - \square = 34$$

$$\square - \square = 50$$

$$\square + \square > 80$$

6. 按要求写数。

(1) 和 79 相邻的数是 () 和 ()。

(2) 48 和 50 中间的数是 ()。



(3) 在 61、25、69、89、98 这几个数中, 最接近 70 的数是(), 最接近 100 的数是(), () 比 69 小得多, () 比 () 大一些。

7. 一个加数是 36, 另一个加数是 28, 和是()。被减数是 62, 减数是 39, 差是()。

8. 认一认, 填一填。

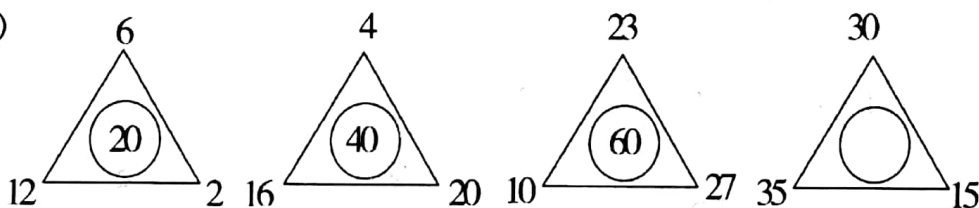


快()时了 (:) (:) 刚过()时

9. 找规律, 填上合适的数。

(1) 11、22、33、44、55、()、()。


(2)




zuò yì zuò

二、做一做。(9分)


1. 在左手的下面画○, 右手的下面画△。



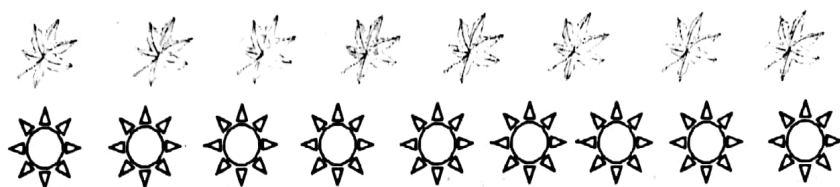
2. 把长方体上面的圆柱涂上红色。



3. 给三角形涂上绿色, 圆形涂上红色。



4. 按自己确定的规律涂色。



suàn yì suàn

三、算一算。(23分)

1. 直接写得数。(15分)

$$9+9= \quad 15-8= \quad 80+6= \quad 32-7= \quad 80+15=$$

$$79+20= \quad 3+76= \quad 55-30= \quad 90-40= \quad 38-8=$$

$$45-9= \quad 28+60= \quad 36-7= \quad 30+56= \quad 68+7=$$

2. 列竖式计算。(8分)

$$56+19= \quad 37+24= \quad 50-27= \quad 86-37=$$

shēng huó zhōng de shù xué

四、生活中的数学。(26分)

1. 李阿姨今年养了小鸡和小鸭共有 75 只。



$$\square \bigcirc \square = \square (\text{只})$$



2. 食堂一周吃了 36 棵大白菜, 还剩下 28 棵。原来食堂有多少棵大白菜?

$$\square \bigcirc \square = \square \text{ (棵)}$$


3. 小明今年 9 岁, 爸爸今年 36 岁。爸爸比小明大多少岁?

$$\square \bigcirc \square = \square \text{ (岁)}$$

4. 开会啦!



桌子有 30 张,
椅子才 7 把。



$$\square \bigcirc \square = \square \text{ (张)}$$



有 56 人来开会, 还要
再搬几张桌子和几把
椅子。

$$\square \bigcirc \square = \square \text{ (把)}$$

5. 妈妈给小东买了一个书包, 付给售货员 50 元钱, 应该找回多少钱?



23 元

$$\square \bigcirc \square = \square \text{ (元)}$$

6. 提问题, 再解答。



亮亮

我有 20 本书。



兰兰

我有 45 本书。



红红

我有 30 本书。

(1) _____

$$\square \bigcirc \square = \square \text{ (本)}$$

(2) _____

$$\square \bigcirc \square = \square \text{ (本)}$$

