



# 期末调研真题卷(一)

时间: 60分钟 分值: 100分

题号	一	二	三	四	总分
得分					

tián kòng

## 一、填 空。(27分)

1. 9元=( )角 50分=( )角

7角+8角=( )元( )角

2. 读数和写数。

(1) 写出横线上的数。

七月有三十一天,写作( )。

我国有五十六个民族,写作( )。

(2) 读出横线上的数。

希望小学一年级有学生98人,读作( )人,其中男生有48人,读作

( )人,女生有50人,读作( )人。

3. 填表。

加数	39	47	
加数	26	15	10
和			50

被减数	52	80	66
减数	18	26	
差			6

4. 在○里填上>或<。

87 ○ 78    39 ○ 40    25-17 ○ 27-18    12+18 ○ 12+19



5. 亮亮有  $\boxed{2\text{元}}$  和  $\boxed{2\text{角}}$  的人民币各 10 张, 他买了一个定价是 10 元的小汽车, 他的付钱方法有: (1) 可以付 ( ) 张 ( ); (2) 可以付 ( ) 张  $\boxed{2\text{元}}$  和 ( ) 张  $\boxed{2\text{角}}$ 。

6. 按要求写数。

个位上是 5, 但比 50 小的两位数 ( )。

十位上是 5, 但比 54 小的数 ( )。

7. 仔细看, 然后再填。




(1) 图①中, 太阳在小丁的前面, 影子在小丁的 ( ) 面。

(2) 图②中, 太阳在小丁的左面, 影子在小丁的 ( ) 面。

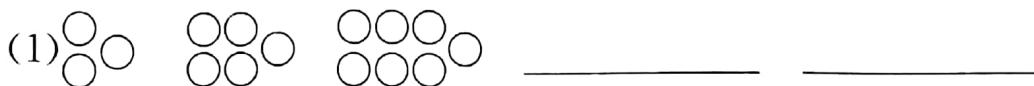
zuò yì zuò

## 二、做一做。(21 分)

1. 在方格图中画出长方形、正方形、三角形各一个。



2. 找规律, 接着画。




(2)  $\triangle\triangle \triangle\triangle\triangle \triangle\triangle \triangle\triangle\triangle$  \_\_\_\_\_

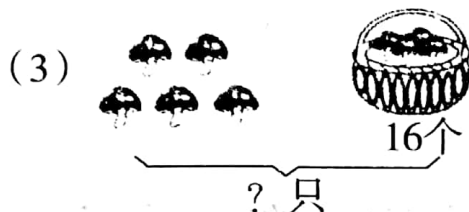
3. 看图列式。



$$\square \bigcirc \square = \square$$



$$\square \bigcirc \square = \square$$



$$\square \bigcirc \square = \square$$

4. 连一连。

十位上是5的数

87

10个十

52

个位和十位都是3

99

10个一

33

最大的两位数

100

8个十和7个一

10

suàn yì suàn

三、算一算。(30分)

1. 用自己喜欢的方法计算。

①  $31 - 20 =$

②  $89 - 80 =$

③  $45 + 46 =$

④  $42 + 28 =$

⑤  $26 + 36 =$

⑥  $45 + 15 =$

⑦  $36 - 19 =$

⑧  $72 - 56 =$

⑨  $82 - 67 =$

⑩  $16 + 58 =$

⑪  $36 - 27 =$

⑫  $34 + 29 =$



由 扫描全能王 扫描创建

2. 列竖式计算。

①  $70 - 18$

②  $26 + 19$

③  $54 - 27$

④  $76 + 15$

jiě jué wèn tí

#### 四、解决问题。(22分)

1. 做红花。

小东:我比小青多做6朵。

小明:我比小红少做9朵。

小青:我做了35朵。

小红:我做了40朵。

(1) 小红和小青一共做多少朵?  $\square \bigcirc \square = \square$  (朵)

(2) 小东做了多少朵?  $\square \bigcirc \square = \square$  (朵)

(3) 小明做了多少朵?  $\square \bigcirc \square = \square$  (朵)

2.



31岁



6岁



33岁

(1) 妈妈比红红大多少岁?

$\square \bigcirc \square = \square$  (岁)

(2) 我提的问题: \_\_\_\_\_?

$\square \bigcirc \square = \square$  (岁)

