



# 期末预测仿真卷(二)

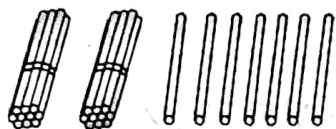
时间: 60分钟 分值: 100分

题号	一	二	三	四	五	总分
得分						

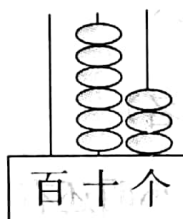
tián yì tián

## 一、填一填。(共46分)

1. 看图写数,读数。



写作 ( )  
读作 ( )



写作 ( )  
读作 ( )

2. 6个十和8个一合起来是( );95里面有( )个十和( )个一。

3. 写出商品的价格,并完成填空。



0.9元

( )角



8.50元

( )元( )角

买一个练习本和一个文具盒一共是( )元( )角。

4. 在下面的○里填上“>”、“<”或“=”。

$$37 \bigcirc 30+7 \quad 57 \bigcirc 83-30 \quad 58-38 \bigcirc 20+10$$

$$15+20 \bigcirc 20+15 \quad 96-40 \bigcirc 66 \quad 20+50 \bigcirc 70-10$$

5. 一张100元的钱可以换( )张50元的钱,也可以换( )张20元的钱,还可以换( )张10元的钱。



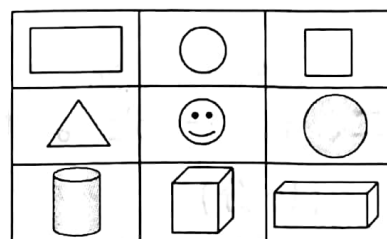
6. 一个加数是 37, 另一个加数是 39, 和是( )。被减数是 82, 减数是 35, 差是( )。

7.  $\triangle$  在  $\odot$  的( )面;

$\bigcirc$  在  $\odot$  的( )面;

$\text{圆柱}$  在等腰三角形图的( )面;

( ) 在  $\text{长方形}$  的上面。





8. 按要求写数。

(1) 小明翻到了数学书第 69 页, 下一页是第( )页, 上一页是( )页。

(2) 78 和 80 中间的数是( )。

(3) 把 52、28、60、19、99 从大到小排一排。(1 分)

9. 认一认, 填一填。

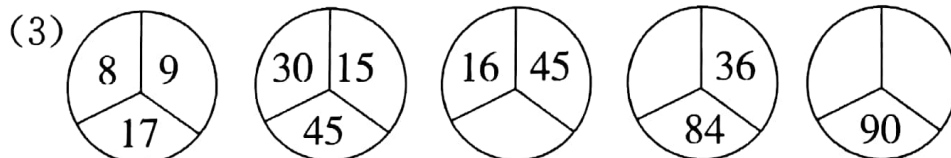



( : ) ( : ) 快( )时了 刚过( )时

10. 找规律, 填上合适的数。

(1) 12、15、18、21、( )、( )。

(2) 按自己确定的规律涂上颜色。(1 分)



11. 从 35、60、28、32 四个数中选三个数写出两个加法算式和两个减法式。

( ) ( )

( ) ( )

xiǎn yì xuǎn jiāng zhèng què dá àn de xù hào tián zài kuò hào lǐ

## 二、选一选。(将正确答案的序号填在括号里)

(10 分)

1. 今年爷爷 65 岁,爸爸的年龄比爷爷小得多,爸爸今年可能是( )岁。

A. 35

B. 60

C. 85

2. 得数比 50 小的是( )。

A.  $50+5$

B.  $46+3$

C.  $89-50$

3.  $\bigcirc \triangle \square \bigcirc \triangle \square \bigcirc \triangle \square \bigcirc$  \_\_\_\_  $\square$ 。横线上应该摆的图形是( )。

A.  $\bigcirc$

B.  $\triangle$

C.  $\square$

4. 如果把球切成两半,它的切面是( )形状的。

A.  $\bigcirc$

B.  $\square$

C.  $\square$

5. 小朋友们排队做操,小红的前面有 8 个人,后面有 5 个人,这一队一共有( )人。

A. 12

B. 13

C. 14

suàn yì suàn

## 三、算一算。(23 分)

1. 直接写得数。(15 分)

$7+9=$

$18-8=$

$50+6=$

$45-7=$

$60+15=$

$69+30=$

$8+76=$

$75-30=$

$80-40=$

$57-8=$

$42-9=$

$18+60=$

$55-7=$

$30+26=$

$48+7=$

2. 列竖式计算。(8 分)

$46+19=$

$27+24=$

$60-27=$


$96-37=$



huà yì huà

#### 四、画一画。(6分)

在方格图上画一个长方形、一个正方形和一个三角形。



shēng huó zhōng de shù xué

#### 五、生活中的数学。(15分)

1. 学校组织孩子们春游,女同学去了 47 名,男同学去了 39 名,一共去了多少名同学?(3分)

$$\square \bigcirc \square = \square (\text{名})$$

2. 一本故事书 86 页,小明还有 19 页没看。小明看了多少页?(3分)

$$\square \bigcirc \square = \square (\text{页})$$

3. 小燕子和大燕子比赛捉虫子。小燕子捉了 40 条虫子,大燕子捉了 63 条虫子,大燕子比小燕子多捉了多少条虫子?(3分)


$$\square \bigcirc \square = \square (\text{条})$$

4. 我会提问题,还会解答呢!

六一儿童节到了,李老师带了 100 元去商店给孩子们买礼物。(6分)



58 元



29 元



8 元

(先提问题,再列式计算)。

(1) \_\_\_\_\_

$$\square \bigcirc \square = \square (\text{元})$$

(2) \_\_\_\_\_

$$\square \bigcirc \square = \square (\text{元})$$

