



# 期末预测仿真卷(三)

时间: 60分钟 分值: 100分

题号	一	二	三	四	五	总分
得分						

rèn rèn zhēn zhēn suàn yì suàn

## 一、认认真真算一算。(共18分)

### 1. 口算。(6分)

$42-16=$

$4+60=$

$16-7=$

$15-7=$

$45-20=$

$20+60=$

$70-50=$

$38-18=$

$36+38=$

$38-19=$

$28+24=$

$45+17=$

### 2. 用竖式计算,并将得数表示在计数器上。(12分)

$77-29=$

$32+18=$

$68+16=$

$80-28=$

百位	十位	个位	百位	十位	个位	百位	十位	个位	百位	十位	个位
----	----	----	----	----	----	----	----	----	----	----	----

gāo gāo xìng xìng tián yì tián

## 二、高高兴兴填一填。(第4小题2分,其余每空1分,共32分。)

### 1. 在○里填上“>”“<”或“=”。

$27+16 \bigcirc 39-15$

$49+14 \bigcirc 49-14$

$33-19 \bigcirc 15+16$

$4\text{元}5\text{角} \bigcirc 40\text{角}$

$63+18 \bigcirc 70$

$6.60\text{元} \bigcirc 6\text{元}6\text{角}$





2. 在方格里填上合适的数。

	69		71
--	----	--	----

10	30			90
----	----	--	--	----

80		70	65	
----	--	----	----	--









3. 

买一把  和一枝 

0.80 元      2.50 元

共应付(      )元(      )角

(      )角      (      )元(      )角

4.        从左往右数,  排在第(      )位, 请把后边的三只小动物圈起来。


5. 明明的前面有 10 人, 后面有 15 人, 这一队共有(      )人。

6. 从 42、25、17、8 四个数中选三个数写出两个加法算式和两个减法算式。

(      ) (      )

(      ) (      )

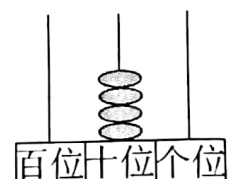
7. 一张  能换(      )张  , 也可换(      )张  ,

也可换(      )张  。


8. 个位数字与十位数字相同的两位数有(      )个, 它们分别是(      )。

9. 丫丫写的数由 3 个十和 2 个一组成; 聪聪写的数和 60

相邻; 刚刚在计数器上拨了一个数(如右图), 这三个数



中,( )表示的数最大。


10. 用两个  纸片,可以拼成一个( )形或一个( )形。

zhǎo péng yǒu


### 三、找朋友。(8分)




7时



7时30分



11时30分



1时

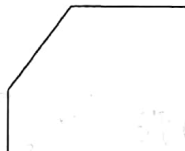
dòng shǒu dòng nǎo zuì kuài lè

### 四、动手、动脑最快乐。(8分)

1. 按规律涂色。(2分)



2. 用虚线把下面图形分成一个三角形,一个长方形和一个正方形。(4分)



3. 套圈比赛中,小华得了36分。(2分)



小明

我的得分比小华  
多得多。

我的得分比小华  
多一些。



小红

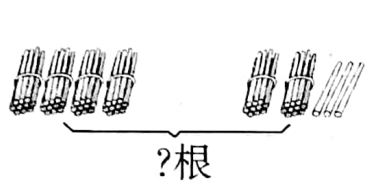
小明可能得了多少分?(画“○”)小红可能得了多少分?(画“△”)

80	30	40	20

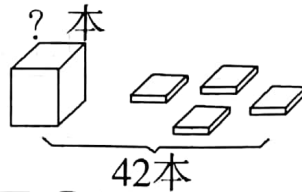


# 五、解决问题我最棒。(34分)

1. 看图列式。



$$\square \bigcirc \square = \square \text{ (根)}$$



$$\square \bigcirc \square = \square \text{ (本)}$$

2.



15元



18元



52元



26元



(1) 一个篮球比一架玩具飞机贵多少元?

$$\square \bigcirc \square = \square \text{ (元)}$$

(2) 佳佳买了一根跳绳,他付了 20 元,应找回多少钱?

$$\square \bigcirc \square = \square \text{ (元)}$$

(3) 你还能提出什么问题,并解答。

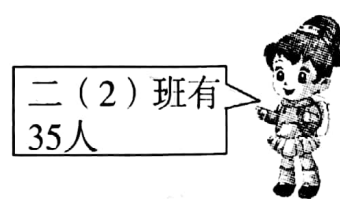
3. 红红家有 22 只 , 奶奶卖了 18 只, 这时红红家有  多少只?

$$\square \bigcirc \square = \square \text{ (只)}$$

4. 小朋友,这两个班能合乘一辆车吗? 请你说说为什么。



二(1)班  
有36人



二(2)班有  
35人

