



期末预测仿真卷(四)

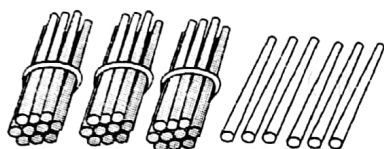
时间: 60分钟 分值: 100分

题号	一	二	三	四	五	总分
得分						

tián yì tián

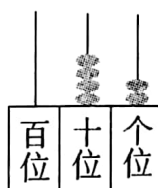
一、填一填。(共35分)

1. 看图写数、读数。



写作 ()

读作 ()



写作 ()

读作 ()

2. 8个一和9个十合起来是(); 75里面有()个十和()个一。

3. 在○里填上“>”“<”或“=”。

$72 \bigcirc 53$

$46 - 6 \bigcirc 18$

$38 + 19 \bigcirc 19 + 38$

$84 - 16 \bigcirc 79$

$26 + 69 \bigcirc 96$

$65 \bigcirc 60 + 5$

4. 写出商品价格,并完成填空。



5.70元

()元 ()角



0.80元


()角

买一个文具盒和一个练习本一共是()元()角。

5. 一张100元的钱可以换()张50元的钱,也可以换()张20元的钱,还可以换()张10元的钱。



6.



汽车在飞机的()面;
房子在飞机的()边;
皮球在泥人的()边;
玩具熊的()面是房子。

7. 按规律,填一填,画一画。

①25,22,19,(),(),()。

②○△△□○△△□○△△()()()

8. 从 35,17,19,18 四个数中选三个数写出两个减法算式和两个加法算式。

() () ()

() () ()

zuò yì zuò

二、做一做。(8分)


1. 请在钟面上画出时针和分针。(6分)



12:30



快7时



5时刚过

2. 猜一猜。(2分)



小明

我家养鸡40只。



小丽

我家比小明家少一些。



小红

我家比小明家多得多。

小丽家养鸡多少只?(画“√”);小红家养鸡多少只?(画“○”)


10 只	34 只	39 只	45 只	48 只	85 只



huà yì huà

三、画 一 画。(9 分)

在下面方格纸上画一个长方形,一个正方形和一个三角形。



suàn yì suàn

四、算 一 算。(16 分)

$35 - 18 =$

$74 - 56 =$

$13 + 57 =$

$60 - 17 =$

$28 + 26 =$

$64 + 18 =$

$45 - 26 =$

$44 + 36 =$

$25 + 55 =$

$51 - 9 =$

$53 + 8 =$

$82 - 69 =$

$33 + 19 =$

$50 + 40 =$

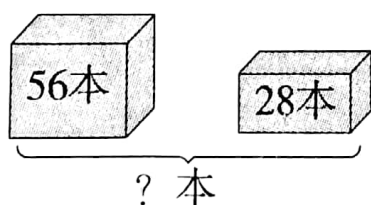
$83 + 17 =$

$82 - 25 =$

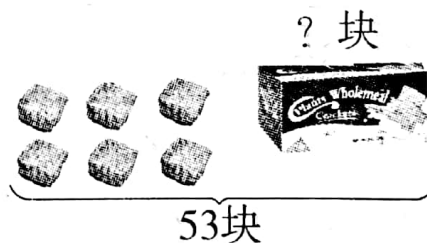
shēng huó zhōng de shù xué

五、生 活 中 的 数 学。(32 分)

1. 看图列式计算。



$\square \bigcirc \square = \square$



$\square \bigcirc \square = \square$



2. 购物。



45元



28元



18元



19元

(1) 买一个铅笔盒和一本练习本应付多少元钱?

$$\square \bigcirc \square = \square (\text{元})$$

(2) 一枝钢笔比一个书包便宜多少元钱?

$$\square \bigcirc \square = \square (\text{元})$$

3. 看图提出两个不同的问题, 并列式计算。(8分)

我拍了43下。



小军

我拍了29下。



小兰

我拍了18下。



小云

(1) 问题: _____

列式: _____

(2) 问题: _____

列式: _____

