



期末预测仿真卷(一)

时间: 60分钟 分值: 100分

题号	一	二	三	四	五	总分
得分						

tián kòng

一、填空。(31分)

1. 十位是5,个位是0,这个数是()。




74 前面的一个数是(),后面的一个数是()。

100 里面有()个十;100 里面有()个一。

6 个十 2 个一再添()个()是 70。

2. 40 比 39 多(),38 比 42 少()。


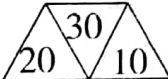
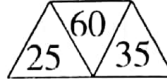


3.

要买的东西	 铅笔盒	 尺子	 自动笔
单价	3 元 5 角	1 元 4 角	2 元

拿 3 元钱,可以买()把尺子,一共花()元;一个铅笔盒比一支自动笔贵()元()角。

4. 找规律填数。

(1) _____ 12 16 20 24 28 _____ 36

(2)     

5. 在○里填上“>”“<”或“=”。

75+9 ○ 94 32-5 ○ 27 25+8 ○ 32 86-20 ○ 76

6. 将一个正方形纸对折后剪开,我发现它能剪成两个相同的()形。

7. 在()里填上合适的数。

65+()=70 61-()=0

()+()=42 28+12=()+()



8.



(1)下楼的小朋友是靠()边走,

上楼的小朋友是靠()边走。

(2)上楼、下楼和在路上行走

我们应靠()边走。

xuǎn zé


bǎ xuǎn hǎo de quān qǐ lái měi xiǎo tí




二、选择。(把选好的圈起来,每小题2分。)(10分)

1. 一个停车场有 23 辆  ,  比  多得多。 


有(79 19 26)辆。

2. 爸爸今年 30 岁,聪聪 7 岁,10 年后爸爸比聪聪大(13 23 33)岁。

3.  是丫丫按规律穿的一串手链,

但缺了两颗,缺的是(   )。


4. 用 25 元正好能买下面哪两件物品?



8 元



12 元



16 元



14 元



9 元

5. 亮亮捧一捧花生米,数了数共有 18 粒,又捧了一捧绿豆,猜一猜可能有(16 20 72)粒。

jì suàn

三、计算。(22分)

1. 直接写出得数。(10分)

$$76-50= \quad 6+73= \quad 90-60= \quad 8+52= \quad 70+7=$$

$$64-20= \quad 49-4= \quad 35+20= \quad 93-3= \quad 40+30=$$

2. 用竖式计算。(12分)

$$84-9=$$

$$39+7=$$

$$43+35=$$

$$78-55=$$

$$68+24=$$

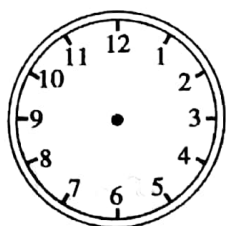
$$64-45=$$



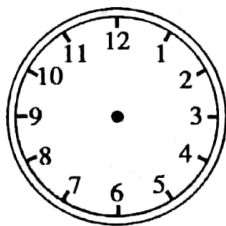
huà yì huà zuò yì zuò

四、画一画，做一做。(12分)

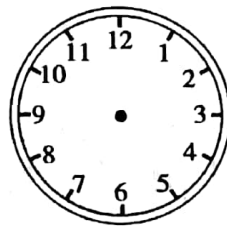
1. 在钟面上画出表针。(6分)



12:00



6:30



大约 7 时

2. 找规律，画出后面的一组。(2分)




3. (4分)

右图中，圆中有()个★，

三角形里有()个★，

正方形里有()个★，

长方形里有()个★。



jiě jué wèn tí

五、解决问题。(25分)

1.

我有 40 张画片。



小明

我有 36 张画片。



小军

我只有 9 张画片。



小红

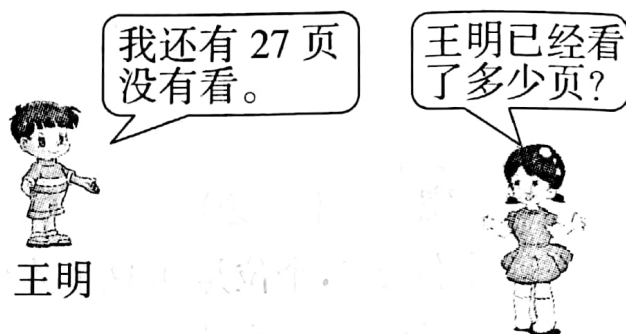
(1) 小明比小红多多少张?

(2) 小红比小军少多少张?



(3)请你提出一个问题,并解答。

2. 一本《儿童画报》共 56 页。



3. 原来有多少袋牛奶?



4. 给两个班每人发一个,够不够?

