


全真模拟训练卷 **重 点 学 校 卷** (二)

题号	一	二	三	四	五	六	七	总分
得分								

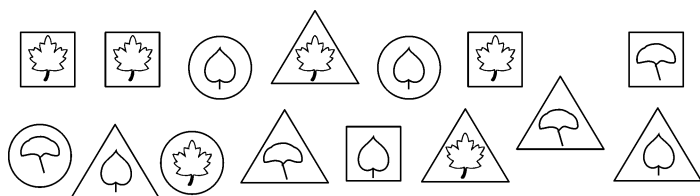
一、想一想,填一填。(30分)

- 如右图所示,每5根捆1把,可以捆成 (3)把,还剩(3)根。
- 在算式 $\triangle \div 6 = 5 \cdots \square$ 中, \square 里最大填(5)。
- 一个四位数,十位上是8,千位上是5,其余各数位上都是0,这个数是(5080)。
- 6800 里面有(68)个百,8800 中千位上的“8”比百位上的“8”多(7200)。
- 7 千米=(7000)米,800 毫米=(8)分米,5 分米=(50)厘米。
- 用9,0,4 组成的三位数中,最大的数是(940),最小的数是(409),它们相差(531)。
- (33) $\div 7 = (4) \cdots (5)$, $52 \div (8) = (6) \cdots (4)$ 。(答案不唯一)
- 在1000,4800,5100 和9000 这四个数中,比5000 大得多的数是(9000),比5000 小一些的数是(4800),比5000 小得多的数是(1000)。
- (744)减去329 得415;900 减去295 与115 的和,差是(490)。
- 在括号里填上合适的长度单位。
 - (1)A 市到B 市的铁路长393(千米)。
 - (2)小红高143(厘米)。
 - (3)数学课本厚6(毫米)。
 - (4)一支铅笔长2(分米)。
 - (5)1 元硬币厚2(毫米)。
 - (6)课桌桌面长110(厘米)。
- 有一组图形按 $\triangle \bigcirc \square \square \triangle \bigcirc \square \square \triangle \bigcirc \square \square \cdots$ 的规律依次排列,第35 个图形是(\square)。

二、下面的说法对吗？对的画“√”，错的画“×”。（5 分）

1. $53\square 9 < 5359$, \square 里只能填 1~4 中的一个数。 (×)
2. 8502 读作八千五百零二十。 (×)
3. 有 8 条长凳,每条能坐 5 人,现在有 43 人,因此有 3 人没有座位。 (√)
4. 六边形一定有六条边和六个角。 (√)
5. 1 个花瓶可以插 8 枝花,插 23 枝花至少需要 3 个花瓶。 (√)

三、按要求填一填。（8 分）



1. 按树叶的种类分类统计。

合计			
(15)张	(5)张	(6)张	(4)张

2. 按卡片的形状分类统计。

合计			
(15)张	(4)张	(6)张	(5)张

四、细心算一算。（18 分）

1. 我能算得又对又快。（6 分）

$$\begin{array}{llll}
 70+80=150 & 76-25=51 & 24+35=59 & 160-90=70 \\
 45\div 7=6\cdots\cdots 3 & 84-38=46 & 50\div 9=5\cdots\cdots 5 & 860-40=820 \\
 101+98\approx 200 & 398+405\approx 800 & 507+496\approx 1000 & 908-792\approx 100
 \end{array}$$

2. 用竖式计算,带※的要验算。（12 分）


$$\begin{array}{lll}
 46\div 9=5\cdots\cdots 1 & \text{※}289+365=654 & \text{※}700-168=532 \\
 \begin{array}{r} 5 \\ 9\overline{)46} \\ \underline{45} \\ 1 \end{array} & \begin{array}{r} 289 \\ +365 \\ \hline 654 \end{array} \begin{array}{l} \text{验} \\ \text{算} \end{array} \begin{array}{r} \overset{\cdot}{6}\overset{\cdot}{5}\overset{\cdot}{4} \\ -\overset{\cdot}{2}\overset{\cdot}{8}\overset{\cdot}{9} \\ \hline \overset{\cdot}{3}\overset{\cdot}{6}\overset{\cdot}{5} \end{array} & \begin{array}{r} \overset{\cdot}{7}\overset{\cdot}{0}\overset{\cdot}{0} \\ -\overset{\cdot}{1}\overset{\cdot}{6}\overset{\cdot}{8} \\ \hline \overset{\cdot}{5}\overset{\cdot}{3}\overset{\cdot}{2} \end{array} \begin{array}{l} \text{验} \\ \text{算} \end{array} \begin{array}{r} 532 \\ +168 \\ \hline 700 \end{array}
 \end{array}$$

$$175+254+326=755 \quad 562-138+256=680 \quad 765-125-189=451$$

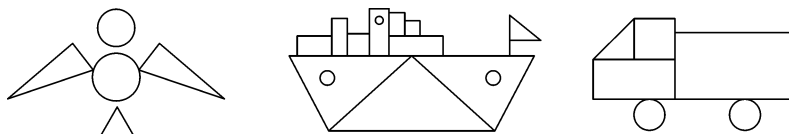
$$\begin{array}{r} 175 \\ + 254 \\ \hline 429 \end{array} \quad \begin{array}{r} 429 \\ + 326 \\ \hline 755 \end{array} \quad \begin{array}{r} 562 \\ - 138 \\ \hline 424 \end{array} \quad \begin{array}{r} 424 \\ + 256 \\ \hline 680 \end{array} \quad \begin{array}{r} 765 \\ - 125 \\ \hline 640 \end{array} \quad \begin{array}{r} 640 \\ - 189 \\ \hline 451 \end{array}$$

五、按要求做一做。(12分)

1. 右边的小猪图分别是谁看到的？连一连。(4分)



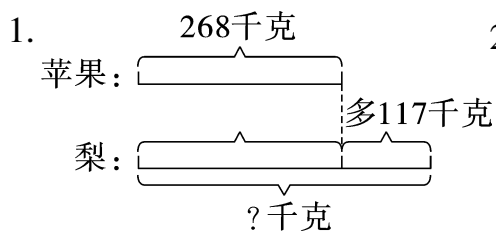
2. 数一数，涂一涂，填一填。(8分)



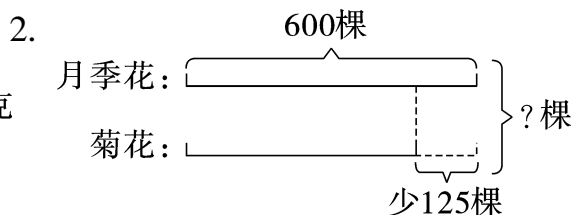
图形				
颜色	绿色	黄色	红色	黑色
数量(个)	7	3	7	8

(自己涂一涂)

六、看图列式计算。(8分)



【答案】 $268+117=385$ (千克)



【答案】 $600-125+600=1075$ (棵)

七、解决问题。(19 分)

1. 二年级有 46 人去观看足球比赛,每辆车限乘 8 人。至少需要租几辆车?(3 分)

【答案】 $46 \div 8 = 5(\text{辆}) \cdots \cdots 6(\text{人})$

$$5+1=6(\text{辆})$$

答:至少需要租 6 辆车。

2.



玫瑰花
360枝



百合花
比玫瑰花多25枝



月季花
比玫瑰花少36枝

- (1) 百合花有多少枝?(3 分)

【答案】 $360+25=385(\text{枝})$

答:百合花有 385 枝。

- (2) 月季花和玫瑰花一共有多少枝?(4 分)

【答案】 $360+360-36=684(\text{枝})$

答:月季花和玫瑰花一共有 684 枝。

3. 二(3)班的同学排队做操,如果每行排 6 人,排成 5 行,那么还缺 2 人;如果每行排 5 人,排成 5 行,那么还余下多少人?(4 分)

【答案】 $6 \times 5 - 2 = 28(\text{人})$ $5 \times 5 = 25(\text{人})$

$$28-25=3(\text{人})$$

答:还余下 3 人。

4. (创新题)我们把个位和百位上的数字相等(但与十位上的数字不相等)的三位数叫作“夹心饼干数”,如 101,434,797 等。算一算,比 870 小的“夹心饼干数”共有多少个?(5 分)

【答案】 $9 \times 7 + 7 = 70(\text{个})$

答:比 870 小的“夹心饼干数”共有 70 个。