

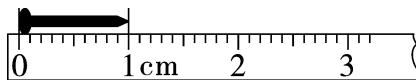
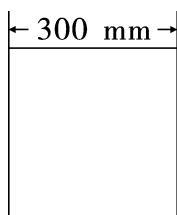
全真模拟训练卷 **普 通 学 校 卷** (二)

题号	一	二	三	四	五	六	七	总分
得分								

一、填一填。(36 分)

- 一个数,从右起第二位是(十)位,第五位是(万)位。
- 一个四位数,它的千位上是 8,十位上是 5,其余各数位上都是 0,这个数是(8050)。
- 一个一个地数,498 后面连续三个数是(499),(500),(501)。

4.



瓷砖每边长(30)cm。

钉子长(1)cm。

- 用 8,3,0,0 这四个数字组成的四位数中,最大的是(8300),最小的是(3008),只读一个零的是(8030),一个零也不读的是(3800)。(部分答案不唯一)

- 写出下列各数。

(1)六百零九(609)

两千零八十(2080)

五百五十(550)

一万(10000)

(2)由 6 个千、8 个百组成的数是(6800)。

(3)三位数中最小的数是(100)。

(4)动物园里共有一千零七十八种动物。(1078)

7. 按从小到大的顺序排列下面各数。

5800 562 88 108

(88) < (108) < (562) < (5800)

8. 一个火柴盒长6(厘米), 上一节课用40(分), 上海到南京约296(千米)。

9. 找规律, 填一填。

$$700 - 200 = (500)$$

$$5000 + 3000 = (8000)$$

$$700 - (500) = 200$$

$$(8000) - 5000 = 3000$$

$$200 + (500) = 700$$

$$(8000) - 3000 = 5000$$

10. 括号里最大能填几?

$$4 \times (5) < 23$$

$$38 > (7) \times 5$$

$$6 \times (4) < 27$$

$$53 > (6) \times 8$$

二、判断。(对的在括号里画“√”, 错的画“×”)(5 分)

1. 2999 添上 1 就是 3000。 (√)

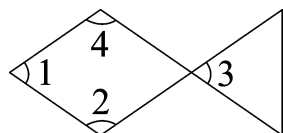
2.  大约高 80 mm。 (×)

3. 一个数的最高位是千位, 这个数是一个五位数。 (×)

4. 平行四边形的四个角都是直角。 (×)

5. 当你看中国地图时, 你的左边就是地图的西方。 (√)

三、填一填, 下面的角各是什么角? (8 分)



∠1 是(锐)角, ∠2 是(钝)角,

∠3 是(锐)角, ∠4 是(钝)角。

四、算一算。(共 20 分)

1. 直接写出得数。(8 分)

$$820 - 600 = 220 \quad 120 - 80 = 40 \quad 340 + 70 = 410 \quad 40 \div 5 = 8$$

$$\begin{array}{llll}
 200+330=530 & 240+60=300 & 330+500=830 & 900-420=480 \\
 3200-300=2900 & 60+39=99 & 30\div6=5 & 16\div4=4 \\
 4600+4000=8600 & 7\times8=56 & 40+4+7=51 & 42\div6=7
 \end{array}$$

2. 用竖式计算。(12 分)

$$258+136=394 \quad 23\div8=2\cdots\cdots7 \quad 126+356=482 \quad 300-125=175$$

$$\begin{array}{r}
 258 \\
 +136 \\
 \hline
 394
 \end{array}$$

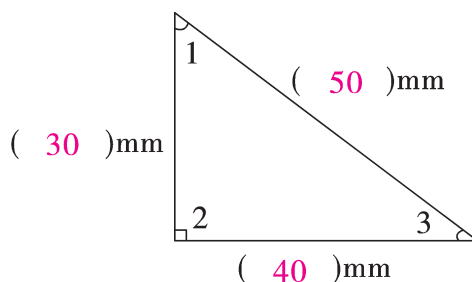
$$\begin{array}{r}
 2 \\
 8\overline{)23} \\
 \underline{16} \\
 7
 \end{array}$$

$$\begin{array}{r}
 126 \\
 +356 \\
 \hline
 482
 \end{array}$$

$$\begin{array}{r}
 \overset{\cdot}{3}\overset{\cdot}{0}\overset{\cdot}{0} \\
 -125 \\
 \hline
 175
 \end{array}$$

五、操作题。(共 11 分)

1. 量出图形各边的长度,并填空。(8 分)



(1) $\angle 2$ 是(直)角, $\angle 1$ 和 $\angle 3$ 是(锐)角。

(2) 最长的边比最短的边长多少?

【答案】 $50-30=20$ (毫米)

答:最长的边比最短的边长 20 毫米。

2. 画一条 85 毫米长的线段。(3 分)

【答案】

六、下面是二(3)班同学最喜欢的体育项目表,看表完成下面各题。(6 分)

项目	跳绳	乒乓球	游泳	跑步	足球
人数(人)	8	4	11	10	7

1. 最喜欢(游泳)项目的人数最多,最喜欢(乒乓球)项目的人

数最少。

2. 从表中可以看出,这个班一共有(40)人。

3. 如果你是班长,那么你想开展哪项活动?


【答案】我想开展游泳活动。因为参加的人数比较多,气氛比较活跃,也会带动其他同学参加。

七、解决问题。(共 14 分)

1.

每人分6颗。

可以分给几人, (4 分)
还剩几颗?



【答案】 $40 \div 6 = 6(\text{人}) \cdots \cdots 4(\text{颗})$

答:可以分给 6 人,还剩 4 颗。

2. 小明买了 5 枝百合花了 20 元,小红买了 1 枝玫瑰花了 8 元,谁买的花贵? 每枝贵几元? (4 分)

【答案】 $20 \div 5 = 4(\text{元/枝})$ $8 > 4$

$8 - 4 = 4(\text{元})$

答:小红买的花贵,每枝贵 4 元。

3. (趣味题)小马虎在计算一道加法题时,把一个加数十位上的 5 看成了 1,百位上的 3 看成了 2,个位上的 9 看成了 4,结果算得 489。你知道正确的结果是多少吗? (6 分)

【答案】 $489 - 214 = 275$

$275 + 359 = 634$

答:正确的结果是 634。