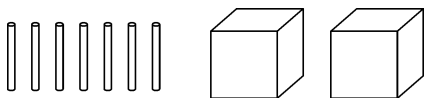


全真模拟训练卷 普通学校卷 (三)

题号	一	二	三	四	五	六	七	八	九	总分
得分										

一、想一想,填一填。(23 分)

1. 如下图,把 7 根木棒平均放在 2 个盒子里,每个盒子放(3)根,还剩(1)根。



2. 先照样子圈一圈,再在括号里填数。



- 9 颗五角星,每(2)颗分 1 份,可以分成(4)份,还剩(1)颗。

3. 把 15 根木棒平均分成 4 份,每份(3)根,还剩(3)根。

4. 写出下面竖式各部分的名称。

$$\begin{array}{r}
 4 \quad \dots(\text{商}) \\
 (\text{除数}) \dots 3 \overline{) 13} \quad \dots(\text{被除数}) \\
 \underline{12} \\
 1 \quad \dots(\text{余数})
 \end{array}$$

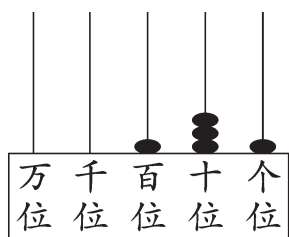
5. 三位数中最大的数是(999),最小的数是(100);四位数中最大的数是(9999),最小的数是(1000)。
6. 3000 这个数是(四)位数,比它小 1 的数是(2999)。
7. 与 4000 相邻的两个数是(3999)和(4001)。
8. 一个数千位和十位上都是 9,其余各位上都是 0,这个数是(9090)。

9. 当你面向南时,你的后边是(北)面,左边是(东)面,右边是(西)面。

二、我会选一选。(6 分)

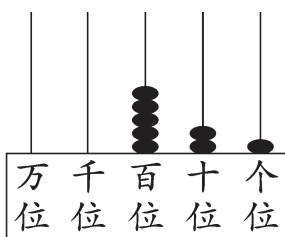
- 早晨你面对太阳,你的右边是(B)面。
A. 东 B. 南 C. 西 D. 北
- 地图上的方向规定是(B)。
A. 上南 B. 上北 C. 上西 D. 上东
- 如果旗杆的影子在西面,那么太阳在(A)。
A. 东面 B. 南面 C. 西面 D. 北面
- 在 3400, 207, 4301, 6000, 30, 8020 中,零不读出来的数有(C)个。
A. 1 B. 2 C. 3 D. 4
- 从 5 开始,五个五个地数,数 10 次是(C)。
A. 500 B. 100 C. 50 D. 10
- 把一根 1 m 长的铁丝平均分成 5 段,每段长(B)dm。
A. 20 B. 2 C. 200 D. 2000

三、看图写数并读一读。(6 分)



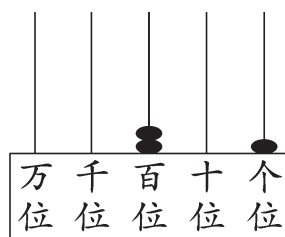
写作: 131

读作: 一百三十一



写作: 521

读作: 五百二十一



写作: 201

读作: 二百零一

四、按要求写数。(10 分)


- 按顺序写出 550 前面的 5 个数是 545, 546, 547, 548, 549。
- 按顺序写出 739 后面的 5 个数是 740, 741, 742, 743, 744。


3. 比 299 大 1 的数是 300。

4. 比 301 小 10 的数是 291。

5. 用 3, 6, 9 组成的三位数有 369, 396, 639, 693, 936, 963。

五、在括号里填上适当的长度单位。(6 分)

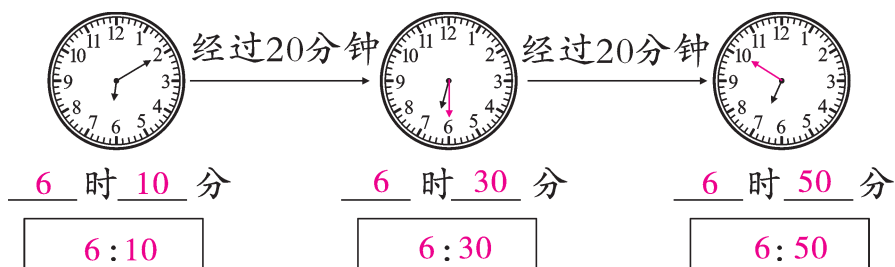
1.  的厚度大约是 10(毫米)。

2.  的长度大约是 2(分米)。

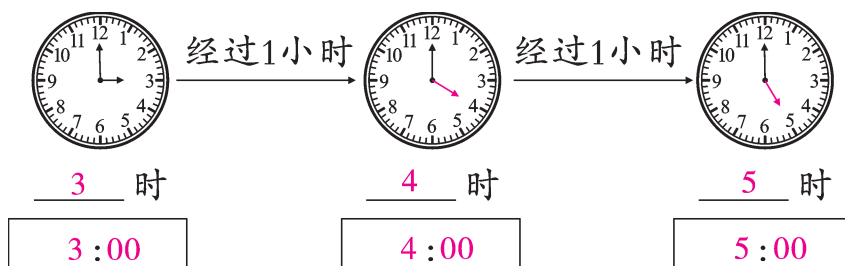
3. 一棵  高 4(米)。

六、我会画一画,填一填。(12 分)

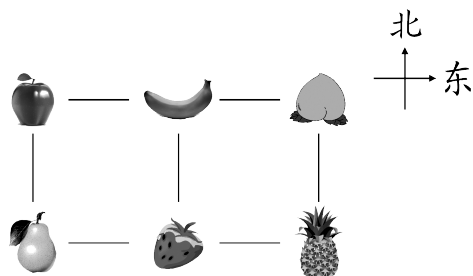
1. 画分针,填时间。



2. 画时针,填时间。



七、看图填空。(12 分)



1. 梨在香蕉的(西南)方向,菠萝在香蕉的(东南)方向。
2. 苹果在草莓的(西北)方向,草莓在香蕉的(南)面。
3. 香蕉在桃的(西)面,桃在菠萝的(北)面。

八、王林课间在校门口统计的车辆过往数量的情况如下表。(共 10 分)

小轿车	电动车	公交车	其他车
正 下	正正 丁	丁	正正

1. 统计的车一共有(32)辆,(电动)车最多。(4 分)
2. 校门口的过往车辆这么多,你想对大家说些什么呢?(6 分)

【答案】学校门口来往车辆较多,同学们上学、放学时要注意安全,严禁在过马路时嬉戏打闹。(答案不唯一,合理即可)

九、解决问题。(15 分)

1. 商店里有 45 个布娃娃,每 6 个布娃娃装 1 箱,至少需要多少个箱子?

【答案】 $45 \div 6 = 7(\text{个}) \cdots \cdots 3(\text{个})$

$7 + 1 = 8(\text{个})$

答:至少需要 8 个箱子。

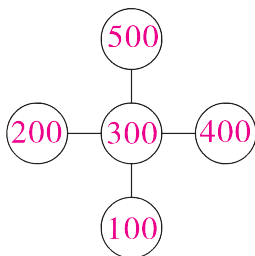
2. 小明家离学校 520 米。他从家去学校,走了 195 米发现忘带作业本了,又马上回家去取。这一次上学,小明一共走了多少米?

【答案】 $195 + 195 = 390(\text{米})$

$390 + 520 = 910(\text{米})$

答:这一次上学,小明一共走了 910 米。

3. (开放题)把 100,200,300,400,500 这五个数填入下面的○里,使每条线上的三个数相加的和都是 900。



(部分填法不唯一)