

全真模拟训练卷 **重 点 学 校 卷** (二)

| 题号 | 一 | 二 | 三 | 四 | 五 | 六 | 七 | 八 | 总分 |
|----|---|---|---|---|---|---|---|---|----|
| 得分 | | | | | | | | | |

一、填一填。(28 分)

- 八百九十九写作(899),它后面的三个数分别是(900),
(901),(902)。
- 最大的三位数是(999),再加 1 是(1000)。
- 由 9 个百、4 个十组成的数是(940),一个四位数的最高位是
(千)位。
- 在数位顺序表里,百位的左边是(千)位,右边是(十)位。
- 用 3,0,9 组成的三位数中,最大的是(930),最小的是
(309)。
- 填上合适的单位。
黄瓜长 28(厘米)。 教室长 8(米)。
课桌宽 4(分米)。 运动场的一周长 400(米)。
汽车每小时行驶 60(千米)。语文课本厚约 5(毫米)。

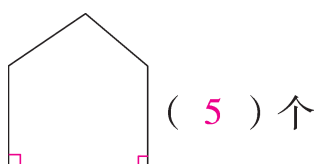
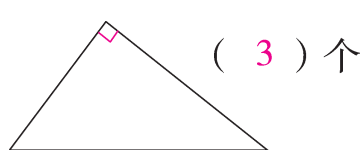
- 在 ○ 里填上“>”“<”或“=”。

$$2 \text{ 厘米 } \bigcirc = 20 \text{ 毫米} \quad 5 \text{ 千米 } \bigcirc > 5 \text{ 厘米} \quad 327 \bigcirc < 827$$

$$40 \text{ 毫米 } \bigcirc > 3 \text{ 厘米} \quad 10 \text{ 毫米 } \bigcirc < 8 \text{ 分米} \quad 897 \bigcirc > 879$$

- 在 $\square \div \bullet = \triangle \cdots \cdots 5$ 中, \bullet 最小是(6);在 $\bigcirc \div 9 = \blacksquare \cdots \cdots \star$ 中, \star 最大是(8)。

9. 下面的图形各有几个角? 填一填, 再标出直角。



二、判断。(对的在括号里画“√”, 错的画“×”)(6 分)

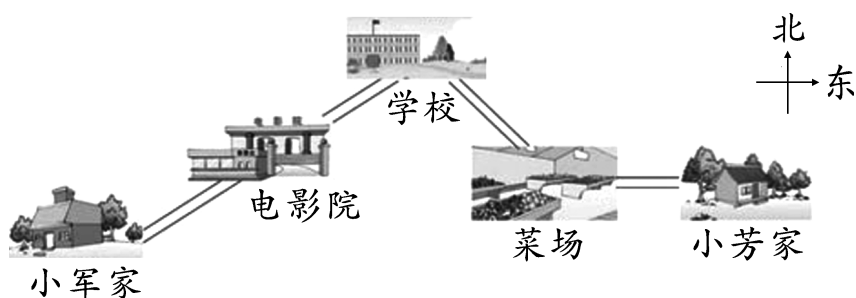
1. 小华的身高是 140 分米。 (×)
2. 和 899 相邻的数是 900 和 901。 (×)
3. 一个数的最高位是百位, 这个数一定是三位数。 (√)
4. 三位数总比四位数小。 (√)
5. 三角尺上的直角比课本上画的直角大多了。 (×)
6. 3 时整, 时针和分针所成的角是钝角。 (×)

三、逛图书馆。(5 分)

1. 图书馆上午开放(3 小时 30 分钟)。
2. 中午休息(2 小时 30 分钟)。
3. 下午开放(3 小时)。
4. 晚上开放(2 小时)。
5. 一天总计开放(8 小时 30 分钟)。

| 图书馆 | |
|-----|------------|
| 上午: | 8:00~11:30 |
| 下午: | 2:00~5:00 |
| 晚上: | 6:30~8:30 |

四、看图填空。(4 分)



1. 学校在小军家的(东北方向), 小芳家在菜场的(东面)。
2. 学校的(西南方向)是电影院, 菜场在学校的(东南方向)。

五、操作题。(共 4 分)

1. 画一条长 5 cm 5 mm 的线段。(2 分)

【答案】_____

八、解决问题。(共 18 分)

1. 分练习本。(3 分)



30本

平均分给8个同学，每人分几本？还剩几本？



【答案】 $30 \div 8 = 3(\text{本}) \cdots \cdots 6(\text{本})$

答：每人分 3 本，还剩 6 本。

2. 同学们种了 150 棵向日葵，还种了 7 行玉米，每行 8 棵。同学们种的玉米比向日葵少多少棵？(3 分)

【答案】 $7 \times 8 = 56(\text{棵})$

$150 - 56 = 94(\text{棵})$

答：同学们种的玉米比向日葵少 94 棵。

3. 还剩多少米？剩下的比用去的多多少米？(4 分)



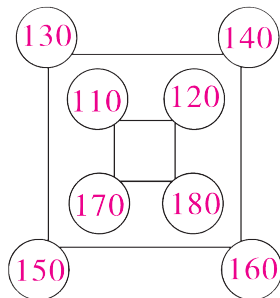
一捆绳子长1000米，
用去了245米。

【答案】 $1000 - 245 = 755(\text{米})$

$755 - 245 = 510(\text{米})$

答：还剩 755 米。剩下的比用去的多 510 米。

4. (趣味题)把 110, 120, 130, 140, 150, 160, 170, 180 这八个数填入下面的圆圈里，使里面正方形上的四个数之和与外面正方形上的四个数之和相等。(8 分)



(答案不唯一)