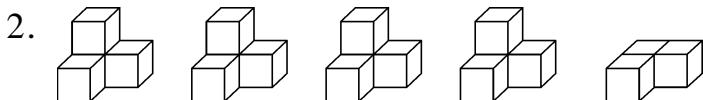



全真模拟训练卷 **重 点 学 校 卷** (三)

题号	一	二	三	四	五	六	总分
得分							

## 一、填一填。(14分)

1.  $200\text{ cm} = (2)\text{ m}$ ,  $3\text{ dm} = (30)\text{ cm}$ ,  $30\text{ mm} = (3)\text{ cm}$ ,  $5000\text{ m} = (5)\text{ km}$ 。



上面一共有(19)个 , 根据上图可以写出一道除法算式是  $(19) \div (4) = (4) \cdots (3)$ 。

3. 在括号里填上合适的单位。

橡皮长 35(毫米)。

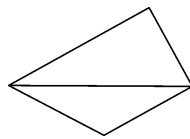
课桌宽 40(厘米)。

骑自行车每小时约行 15(千米)。

一扇窗户长 2(米)。

4. 每盒装 6 个乒乓球, 装 37 个乒乓球至少需要(7)个盒子。

5. 右图中共有(8)个角, 其中有(2)个直角, 有(5)个锐角, 有(1)个钝角。



6. 写出 3 个不同的三位数, 百位上都是 5, 再从

小到大排列是(521) < (537) < (546)。(答案不唯一)

7. 在  $\bigcirc$  里填上“>”“<”或“=”。

$$799 < 800$$

$$4170 < 4710$$

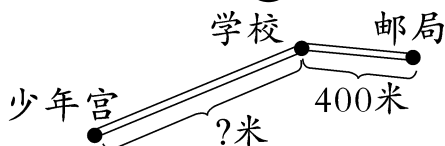
$$1033 > 994$$

$$1000\text{ m} = 1\text{ km}$$

$$9\text{ mm} < 1\text{ cm}$$

$$100\text{ 秒} > 1\text{ 分}$$

8. 如右图, 从学校到少年宫大约要走(800)米。



二、对号入座。(将正确答案的序号填在括号里)(6分)

1.  $48 \square > 476$ ,  $\square$ 中最小填( **D** )。
- A. 7                      B. 8                      C. 9                      D. 0
2. 687 比( **B** )大2。
- A. 678                      B. 685                      C. 689                      D. 768
3. 8008 的右边的“8”表示( **D** )。
- A. 8 个千                  B. 8 个百                  C. 8 个十                  D. 8 个一
4. 下面四个算式中,得数最接近 800 的是( **A** )。
- A.  $698+103$               B.  $498+308$               C.  $504+299$               D.  $344+452$
5. 与东南方向相反的方向是( **C** )。
- A. 东北                      B. 西                      C. 西北                      D. 西南
6. 平平有 58 张邮票,先给了明明 18 张,又给了乐乐 15 张,乐乐现在有 24 张,此时乐乐和平平相差( **B** )张。
- A. 15                      B. 1                      C. 4                      D. 39

三、按要求完成下列各题。(共 30 分)

1. 直接写出得数。(8 分)

$$\begin{array}{llll} 23+27=50 & 450-80=370 & 20+900=920 & 200-30=170 \\ 10+200=210 & 1000-300=700 & 20\div 4=5 & 9\times 4=36 \\ 640+60=700 & 1720+400=2120 & 24\div 3=8 & 7800-300=7500 \\ 35\div 5=7 & 8\times 1=8 & 63\div 7=9 & 49\div 9=5\cdots\cdots 4 \end{array}$$

2. 用竖式计算。(16 分)

$$46\div 6=7\cdots\cdots 4 \quad 27\div 4=6\cdots\cdots 3 \quad 514+212=726 \quad 406-132=274$$

$$\begin{array}{r} 7 \\ 6\overline{)46} \\ \underline{42} \\ 4 \end{array}$$

$$\begin{array}{r} 6 \\ 4\overline{)27} \\ \underline{24} \\ 3 \end{array}$$

$$\begin{array}{r} 514 \\ +212 \\ \hline 726 \end{array}$$

$$\begin{array}{r} 406 \\ -132 \\ \hline 274 \end{array}$$

3. 我会填时间。(6 分)

1 分=( 60 )秒

1 时=( 60 )分

180 秒=( 3 )分

2 分=( 120 )秒

1 分 20 秒=( 80 )秒

1 时 25 分=( 85 )分

四、操作题。(共 8 分)

1. 画一条比 4 厘米长 6 毫米的线段。(4 分)

【答案】

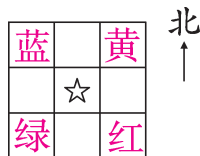
2. 按要求涂色。(4 分)

在☆的东南方向的方格里涂上红色,

在☆的西北方向的方格里涂上蓝色,

在☆的东北方向的方格里涂上黄色,

在☆的西南方向的方格里涂上绿色。(自己按所写颜色涂一涂)




五、小小画家。(10 分)

1. 画一个图形,里面包含直角、锐角、钝角。

【答案】 (答案不唯一)

2. 画一个长方形和一个平行四边形。

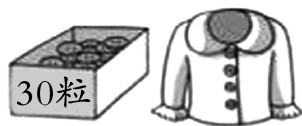
【答案】 (答案不唯一)

六、解决问题。(共 32 分)

1. 1 件衣服需要 4 粒纽扣。这盒纽扣可以钉多少件衣服? 还剩多少粒?(5 分)

【答案】 $30 \div 4 = 7(\text{件}) \cdots \cdots 2(\text{粒})$

答:这盒纽扣可以钉 7 件衣服,还剩 2 粒。



2. 三年级有 59 人,分成 8 个小组学游泳,每个小组有多少人? 还剩几人? (5 分)

【答案】 $59 \div 8 = 7(\text{人}) \cdots \cdots 3(\text{人})$

答:每个小组有 7 人,还剩 3 人。

3. 下面是各年级学生本周在图书室借阅图书的人数情况统计表。  
(6 分)

时间	星期一	星期二	星期三	星期四	星期五
人数(人)	154	203	136	98	230

(1)这 5 天一共有( 821 )人来借书。

(2)星期( 五 )借书的人数最多,星期( 四 )借书的人数最少。

4. 三个小朋友参加口算比赛,每人完成 20 道题,东东用了 1 分钟 10 秒,明明用了 75 秒,红红用了 54 秒,谁算得最快? (6 分)

【答案】1 分钟 10 秒 = 70 秒

$54 < 70 < 75$

答:红红算得最快。

5. (开放题)三(1)班的 46 人要乘车去公园,可以怎样租车? (设计两种方案)(10 分)



面包车  
限乘 8 人



小轿车  
限乘 3 人

方案一:

【答案】 $8 \times 5 = 40(\text{人})$

$2 \times 3 = 6(\text{人})$

$40 + 6 = 46(\text{人})$

答:租 5 辆面包车和 2 辆小轿车。

(答案不唯一)

方案二:

【答案】 $4 \times 8 = 32(\text{人})$

$3 \times 5 = 15(\text{人})$

$32 + 15 = 47(\text{人})$

$47 > 46$

答:租 4 辆面包车和 5 辆小轿车。